

平成23年度（2011年度）日本留学試験

# 総合科目

(80分)

## I 試験全体に関する注意

1. 係員の許可なしに、部屋の外に出ることはできません。
2. この問題冊子を持ち帰ることはできません。

## II 問題冊子に関する注意

1. 試験開始の合図があるまで、この問題冊子の中を見ないでください。
2. 試験開始の合図があったら、下の欄に、受験番号と名前を、受験票と同じように記入してください。
3. この問題冊子は、24ページあります。
4. 足りないページがあったら手をあげて知らせてください。
5. 問題冊子には、メモや計算などを書いてもいいです。

## III 解答用紙に関する注意

1. 解答は、解答用紙に鉛筆（HB）で記入してください。
2. 各問題には、その解答を記入する行の番号 **1**，**2**，**3**，…がついています。解答は、解答用紙（マークシート）の対応する解答欄にマークしてください。
3. 解答用紙に書いてある注意事項も必ず読んでください。

※ 試験開始の合図があったら、必ず受験番号と名前を記入してください。

受験番号			*				*					
名前												

問1 次の会話を読み、下の問い(1)~(4)に答えなさい。

よし子：2010年に、1名古屋で環境に関する大きな国際会議が開かれましたね。

先生：生物多様性条約第10回締約国会議ですね。最近は、世界的に2環境保護への関心の高まりが見られますね。

よし子：3オゾン層の破壊や地球温暖化などのさまざまな環境問題が深刻化していく中、人々の関心が高まっているのはよいことだと思います。

先生：経済成長が一段落した先進国と、現在まさに経済成長が著しい発展途上国との間には利害の相違もあります。しかし、4二酸化炭素(CO<sub>2</sub>)排出量の削減など、各国が協力して取り組むべき課題はまだまだたくさんありますね。

(1) 下線部1に関して、会議の開催地である名古屋の場所を、次の地図中の①~④の中から一つ選びなさい。

1



総合科目－2

- (2) 下線部 2 に関して、環境保護への関心を高める上で大きな役割を果たした人物とその人物の著作の組み合わせとして最も適当なものを、次の①～④の中から一つ選びなさい。

2

	人物	著作
①	キルケゴール	『死に至る病』
②	レヴィ-ストロース	『悲しき熱帯』
③	カント	『永遠平和のために』
④	カーソン	『沈黙の春』

注) キルケゴール (Søren Aabye Kierkegaard), レヴィ-ストロース (Claude Lévi-Strauss), カント (Immanuel Kant), カーソン (Rachel Carson)

- (3) 下線部 3 に関して、環境問題とその主な原因の組み合わせとして最も適当なものを、次の①～④の中から一つ選びなさい。

3

	問題	原因
①	酸性雨	家畜の過放牧や焼き畑農業
②	砂漠化	硫黄酸化物 (SO <sub>x</sub> ) の排出
③	地球温暖化	海面の上昇
④	オゾン層の破壊	フロンガスの排出

- (4) 下線部 4 に関して、次の表は、日本、アメリカ (USA)、イギリス (UK)、韓国 (South Korea)、中国 (China)、ドイツ (Germany)、ベトナム (Viet Nam) の 7 か国の二酸化炭素排出量を示したものである。表中のA~Dに当てはまる国名の組み合わせとして正しいものを、下の①~④の中から一つ選びなさい。

4

単位：100万トン

国名	1990年	2007年
A	2,244	6,071
B	4,863	5,769
日本	1,065	1,236
C	950	798
イギリス	553	523
D	229	489
ベトナム	17	94

『世界統計白書 2010年版』より作成

	A	B	C	D
①	中国	アメリカ	ドイツ	韓国
②	アメリカ	中国	ドイツ	韓国
③	アメリカ	中国	韓国	ドイツ
④	中国	韓国	アメリカ	ドイツ

## 総合科目－4

問 2 次の会話を読み、下の問い(1)～(4)に答えなさい。

よし子：2010年に横浜で開かれた 1 APEC（アジア太平洋経済協力）の首脳会議で、  
TPP（Trans-Pacific Partnership）も話題になっていたわね。

父：最近、 2 自由貿易協定を結ぼうという動きが多いね。

よし子：3 貿易によって各国の経済が活発化するのはいいことよね。経済的な国境が  
取り払われ、ボーダーレスな経済が実現するといいわね。

父：ボーダーレス経済にはもちろん望ましい面もある。だが 4 自由貿易の行き過  
ぎには批判も多い。経済はなかなか複雑なものだよ。

(1) 下線部 1 に関して、APECに参加していない国を、次の①～④の中から一つ選びな  
さい。

5

- ① オーストラリア (Australia)
- ② ブラジル (Brazil)
- ③ チリ (Chile)
- ④ アメリカ

(2) 下線部 2 に関して、自由貿易の推進を目的とする国際機関と地域貿易協定との組み  
合わせとして正しいものを、次の①～④の中から一つ選びなさい。

6

	国際機関	地域貿易協定
①	IBRD	AFTA
②	IMF	NATO
③	WTO	NAFTA
④	UNCTAD	ASEAN

(3) 下線部 3 に関して、次の表は、4 か国A~Dの貿易収支の推移を示したものである。

表中のA~Dに当てはまる国名の組み合わせとして正しいものを、下の①~④の中から一つ選びなさい。

7

単位：億ドル

国名	1995年	2000年	2005年	2007年	2008年
A	1,072.3	997.4	790.8	920.8	194.6
B	167.0	241.1	1,020.0	2,624.8	2,958.4
C	-1,861.1	-4,773.8	-8,316.2	-8,722.0	-8,820.5
D	595.9	546.1	1,938.4	2,662.3	2,580.7

『世界統計白書 2010年版』より作成

	A	B	C	D
①	日本	中国	アメリカ	ドイツ
②	アメリカ	ドイツ	日本	中国
③	ドイツ	日本	中国	アメリカ
④	中国	ドイツ	アメリカ	日本

(4) 下線部 4 に関して、TPPのような多国間の包括的自由貿易協定への参加に対し、

日本では主としてどのような反対論があるか。最も適当なものを、次の①~④の中から一つ選びなさい。

8

- ① 職を求めて海外に移住する人々が増加し、国内人口が減る。
- ② 農産物の輸入が急増し、国内の農業が衰退する。
- ③ 国内労働者の平均賃金が上昇し、雇用が減る。
- ④ 自動車などの生産工場が国内に回帰し、環境問題が深刻化する。

## 総合科目－6

問3 次の文章を読み、文章中の空欄 **a** ～ **c** に当てはまるものの組み合わせとして最も適当なものを、下の①～④の中から一つ選びなさい。

9

GDP（国内総生産）とは一年間に国内で生み出された **a** の合計である。GDPに **b** を加えるとGNI（国民総所得）となる。また、GDPから **c** を差し引くとNDP（国内純生産）となる。

	a	b	c
①	付加価値	貯蓄	直接税
②	中間生産物	貯蓄	固定資本減耗
③	中間生産物	海外からの純所得受け取り	直接税
④	付加価値	海外からの純所得受け取り	固定資本減耗

問4 景気と財政政策に関する記述として最も適当なものを、次の①～④の中から一つ選びなさい。

10

- ① 景気が良い時には、貯蓄意欲が減退して税収が減るので減税する。
- ② 景気が良い時には、消費支出が増えて税収が減るので増税する。
- ③ 景気が悪い時には、減税して消費の拡大を図る。
- ④ 景気が悪い時には、公共事業を減らして財政の均衡を図る。

問5 次の表は、日本、アメリカ、中国、ロシア（Russia）それぞれの外貨準備高の推移を示したものである。表中のA～Dに当てはまる国名の組み合わせとして正しいものを、下の①～④の中から一つ選びなさい。

11

単位：100万ドル

国名	2000年	2005年	2006年	2007年
A	24,828	176,513	296,248	467,552
B	168,857	822,479	1,069,508	1,531,349
C	68,530	67,167	68,623	73,987
D	356,021	835,506	880,977	954,145

『世界の統計 2010年版』より作成

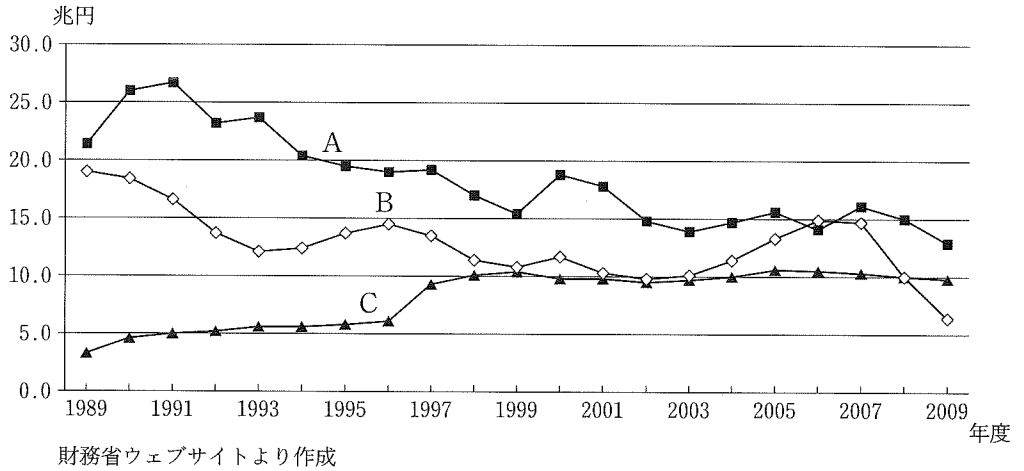
	A	B	C	D
①	ロシア	日本	アメリカ	中国
②	アメリカ	日本	ロシア	中国
③	アメリカ	中国	ロシア	日本
④	ロシア	中国	アメリカ	日本



総合科目－8

問 6 次のグラフは、日本における主要な税目の税収の推移を示したものである。A～Cに当てはまる税目の組み合わせとして正しいものを、下の①～④の中から一つ選びなさい。

12



	A	B	C
①	消費税	法人税	所得税
②	所得税	法人税	消費税
③	法人税	消費税	所得税
④	消費税	所得税	法人税

問7 第二次世界大戦後の主な世界経済の動きを示した次の出来事A～Dを年代順に並べたものとして正しいものを、下の①～④の中から一つ選びなさい。

13

A：金・ドル交換停止

B：EU発足

C：ブレトン・ウッズ (Bretton Woods) 協定発効

D：OECD発足

- ① C → A → B → D
- ② D → A → C → B
- ③ C → D → A → B
- ④ D → C → B → A

問8 通貨・金融制度の説明として最も適当なものを、次の①～④の中から一つ選びなさい。

14

- ① 金本位制度とは、本位貨幣である金貨のみを流通させる制度のことである。
- ② 金本位制度では、中央銀行は金の保有量に応じて、金との自由な交換を保証した中央銀行券を発行する。
- ③ 管理通貨制度では、中央銀行は金の保有量に制約されることなく、兌換<sup>だかん</sup>中央銀行券を発行する。
- ④ 管理通貨制度の下で、経済成長政策として通貨発行量を増大させると、デフレーションになりやすい。

総合科目－10

問9 次の表は、2007年における日本、アメリカ、中国、ブラジル、ロシアの5か国の原油自給率を示したものである。A～Dに当てはまる国名の組み合わせとして正しいものを、下の①～④の中から一つ選びなさい。

15

単位：%

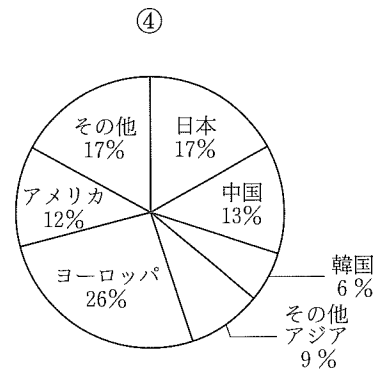
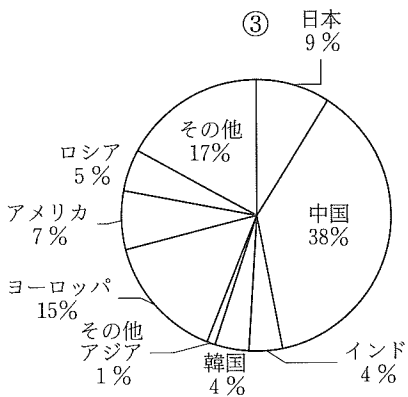
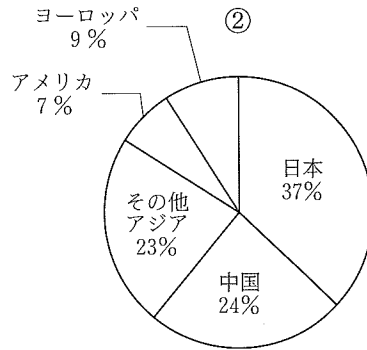
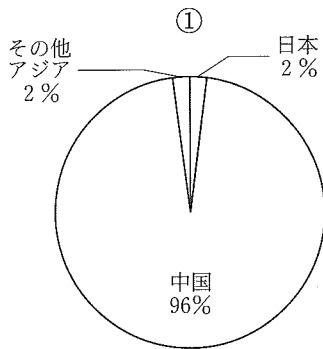
国名	原油自給率
A	221.3
B	100.7
C	54.7
D	32.1
日本	0.1

『日本国勢図会 2010/11年版』より作成

	A	B	C	D
①	ブラジル	中国	アメリカ	ロシア
②	中国	ロシア	アメリカ	ブラジル
③	アメリカ	ロシア	ブラジル	中国
④	ロシア	ブラジル	中国	アメリカ

問10 次の円グラフは、2008年におけるパソコン、電子部品、粗鋼、自動車の4製品について、世界の生産に占める各国・各地域の割合を示したものである。パソコンを示すグラフを、次の①～④の中から一つ選びなさい。

16



「通商白書2010」より作成

注) アジア (Asia), ヨーロッパ (Europe), インド (India)

問11 ある財の代わりに別の財を用いても同様の効用が得られる場合、それらの財は代替財と呼ばれる。これに関して、次の問い(1), (2)に答えなさい。

(1) 代替財の関係にある組み合わせとして最も適当なものを、次の①～④の中から一つ選びなさい。

**17**

- ① 鉛筆と消しゴム
- ② 紅茶とコーヒー
- ③ パンとジャム
- ④ カメラとフィルム

(2) 代替財の関係にある財の価格と需給に関する記述として最も適当なものを、次の①～④の中から一つ選びなさい。

**18**

- ① 一方の財の価格が上がると、他方の財の需要は増加する。
- ② 一方の財の価格が上がると、他方の財の需要は減少する。
- ③ 一方の財の価格が下がると、他方の財の供給が増加する。
- ④ 一方の財の価格が下がっても、他方の財の供給は変わらない。

問12 世界の山脈は古期造山帯と新期造山帯に大別される。それぞれの特徴に関して、次の文章中の空欄 [a]、[b] に当てはまる語の組み合わせとして最も適当なものを、下の①～④の中から一つ選びなさい。 19

ウラル山脈 (Ural Mountains) やグレートディバイディング山脈 (Great Dividing Range) などの古期造山帯の山脈は、古生代に造山運動を受けて形成された。その後それらの山脈は侵食を受け、なだらかな形状を示すものが多い。これに対して [a] などの新期造山帯の山脈は、中生代以降の造山運動によって形成され、険しい山脈となっているものも少なくない。古期造山帯と新期造山帯を比べると、[b] は美しい風景が観光資源となる一方で、火山の噴火や地震のような自然災害が頻発する地帯である。

	a	b
①	アンデス山脈やピレネー山脈	新期造山帯
②	アンデス山脈やピレネー山脈	古期造山帯
③	アパラチア山脈やアルタイ山脈	新期造山帯
④	アパラチア山脈やアルタイ山脈	古期造山帯

注) アンデス山脈 (Andes), ピレネー山脈 (Pyrenees), アパラチア山脈 (Appalachian Mountains), アルタイ山脈 (Altai Mountains)

総合科目－14

問13 次の表は、2008年における4か国A～Dの貿易品目に関して、貿易額をもとに構成比(%)を示したものである。貿易構造から判断して、これらの国を一人当たりGNI(国民総所得)の高い順に並べたものとして正しいものを、下の①～④の中から一つ選びなさい。

20

A国

輸出品	%	輸入品	%
茶	18.6	機械類	18.4
装飾用切花等	10.5	石油製品	16.2
野菜・果実	9.0	原油	10.6
衣類	5.1	自動車	7.4
無機化合物	4.4	鉄鋼	4.6
その他	52.3	その他	42.9
計	100.0	計	100.0

B国

輸出品	%	輸入品	%
機械類	28.7	機械類	23.9
自動車	8.2	原油	16.8
航空機	5.5	自動車	9.0
石油製品	4.5	石油製品	4.3
精密機械	4.3	衣類	3.8
その他	48.9	その他	42.2
計	100.0	計	100.0

C国

輸出品	%	輸入品	%
機械類	27.9	機械類	21.7
自動車	15.5	自動車	7.5
医薬品	4.6	原油	6.6
プラスチック	3.3	医薬品	3.9
精密機械	3.2	鉄鋼	3.6
その他	45.5	その他	56.7
計	100.0	計	100.0

D国

輸出品	%	輸入品	%
衣類	19.5	機械類	20.7
機械類	18.6	石油製品	9.6
原油	13.6	繊維品	8.5
化学肥料	7.9	自動車	5.9
無機化合物	5.7	鉄鋼	5.9
その他	34.7	その他	49.5
計	100.0	計	100.0

『世界国勢図会 2010/11年版』より作成

- ① A → B → C → D
- ② A → C → B → D
- ③ B → A → C → D
- ④ B → C → D → A

問14 日本の食料自給率に関する次の文章を読み、下の問い(1), (2)に答えなさい。

1980年頃まで a の自給率は80%を超えていた。しかし、農畜産物の貿易自由化による影響などもあり、2000年には52%へと低下した。果実の自給率も同様に低下しているが、消費者には産地や品種の好みなどがあるため、栽培条件に適した地域に果実の特産地ができてきている。

(1) 上の文章中の空欄 a に当てはまるものを、次の①～④の中から一つ選びなさい。

21

- ① 米
- ② 小麦
- ③ 大豆
- ④ 肉類

(2) 上の文章中の下線部に関して、日本の果実の特産地の説明として最も適当なものを、次の①～④の中から一つ選びなさい。

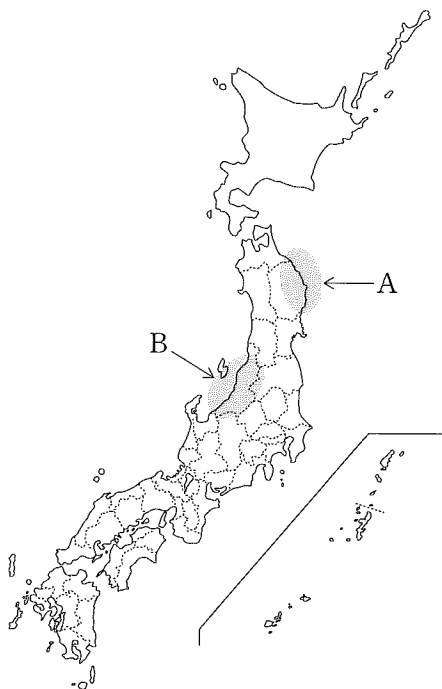
22

- ① みかん：和歌山県など温暖地が多いが、北海道南部でも栽培される。
- ② ぶどう：石川県から鳥取県にかけての日本海側に産地が点在する。
- ③ りんご：青森県や長野県など、寒冷地が主産地である。
- ④ さくらんぼ（桜桃）：各地に桜の名所があるため、産地も全国に広がっている。



問15 次の日本地図に示された地域A、地域Bに関する下の記述の正誤について正しい組み合わせを、下の①～④の中から一つ選びなさい。

23



地域A：複雑に入り組んだリアス式海岸が見られる。近海を南流する暖流は親潮と呼ばれ、同緯度の西岸に比べれば冬でも暖かい。

地域B：冬は季節風の影響で多くの降雪が見られるが、夏は暑くて稲作が盛んであり、日本有数の米の産地となっている。

	地域A	地域B
①	正	正
②	正	誤
③	誤	正
④	誤	誤

問16 次の表は、2009年における三つの都道府県と全国の年齢別の人口割合を示したものである。表中のA～Cに当てはまる都道府県名の組み合わせとして正しいものを、下の①～④の中から一つ選びなさい。

24

単位：％

都道府県	0～14歳	15～64歳	65歳以上
A	11.9	67.3	20.9
B	12.7	58.2	29.0
C	17.7	64.8	17.5
全国	13.3	63.9	22.7

『日本国勢図会 2010/11年版』より作成

	A	B	C
①	東京都	大阪府	北海道
②	東京都	島根県	沖縄県
③	高知県	大阪府	沖縄県
④	高知県	島根県	北海道

試験問題として成立していますが、  
著作権上の都合により本問題のウェブ掲載はいたしません。

問18 第二次世界大戦後の日本政治に関する記述として最も適当なものを、次の①～④の中から一つ選びなさい。

27

- ① 終戦直後、GHQ/SCAPによって日本に初めて普通選挙制がもたらされ、18歳以上の男女に選挙権が与えられた。
- ② 自由民主党は1955年に結成され、2009年に民主党政権が誕生するまで、半世紀以上にわたって単独で政権を担当した。
- ③ 日本では女性が衆議院議長や参議院議長になったことはあるが、女性の首相はまだ誕生していない。
- ④ 国会議員の選挙において、一貫して都市部の住民の持つ1票の価値が農村部の住民の持つ1票の価値よりも大きかった。

問19 比例代表制とは、各政党の獲得票数に応じて議席を配分する選挙制度のことである。比例代表制に関する説明として最も適当なものを、次の①～④の中から一つ選びなさい。

28

- ① 小党分立が避けられ、政局が安定する。
- ② 死票を少なくすることができる。
- ③ 候補者の乱立を防止できる。
- ④ 有権者と候補者の結びつきが強くなる。

問20 圧力団体とは、その特殊利益を実現するために政策決定過程に影響力を及ぼそうとする団体のことである。圧力団体の例として最も適当なものを、次の①～④の中から一つ選びなさい。

29

- ① 政党
- ② 軍隊
- ③ 労働組合
- ④ 地方自治体

問21 日本国憲法に関する記述として最も適当なものを、次の①～④の中から一つ選びなさい。

30

- ① 日本国憲法のおよそ3分の1の条文は、大日本帝国憲法から引き継がれている。
- ② 日本国憲法の三大基本原理は、国民主権、基本的人権の尊重、平和主義である。
- ③ 日本国憲法の改正には、衆参両院の総議員の過半数の賛成と、国民投票による有効投票のうち3分の2以上の賛成が必要とされている。
- ④ 日本国憲法は、国の義務および国民の権利を定めたもので、国民の義務についての条文はない。

問22 日本国憲法では、基本的人権の一つとして、国家が個人の生存の維持・発展に必要な諸条件の確保に責任を負う社会権が保障されている。社会権の例として最も適当なものを、次の①～④の中から一つ選びなさい。

31

- ① 政治に参加する権利
- ② 労働者の団体交渉権
- ③ 集会・結社の自由
- ④ 拷問・残虐な刑罰の禁止

問23 環境保護を推進するために、政府による対策が必要とされている。これらの対策に当てはまらないものを、次の①～④の中から一つ選びなさい。

32

- ① 電力を消費する電車の利用を減らすために、自家用車の普及を図る。
- ② リサイクル可能な物質に課金し、リサイクル後に返金する。
- ③ 化石燃料中の炭素含有量に応じて、使用者に税金を課す。
- ④ 企業などの経済活動から生じる産業廃棄物の排出量に応じて税金を課す。

問24 国際機関に関する記述として最も適当なものを、次の①～④の中から一つ選びなさい。

33

- ① 国際連合（UN）はさまざまな製品の国際規格を確立するために、国際標準化機構（ISO）を設立した。
- ② 国際連合の総会には全加盟国が参加できるが、その議事運営は安全保障理事会の常任理事国によっておこなわれる。
- ③ 国際労働機関（ILO）は、第一次世界大戦直後の1919年に設立され、国際連合よりも古くから存在する。
- ④ 経済の自由化や規制緩和が進む中で、世界貿易機関（WTO）は重要性を失い、2005年に解散した。

問25 次の表は、1970年と2009年それぞれの世界全体の一人当たりGDPを1.00とした場合の先進工業国地域および三つの地域A～Cの一人当たりGDPを示したものである。A～Cに当てはまる地域名の組み合わせとして正しいものを、下の①～④の中から一つ選びなさい。

34

	1970年	2009年
世界全体	1.00	1.00
先進工業国	3.27	4.48
A	0.19	0.10
B	0.45	2.25
C	0.72	0.84

UNCTADウェブサイトより作成。

	A	B	C
①	南アフリカを除くサハラ以南アフリカ	アジアNIEs	中南米
②	南アフリカを除くサハラ以南アフリカ	中南米	アジアNIEs
③	中南米	南アフリカを除くサハラ以南アフリカ	アジアNIEs
④	中南米	アジアNIEs	南アフリカを除くサハラ以南アフリカ

注) 南アフリカを除くサハラ以南アフリカ (Sub-Saharan Africa excluding South Africa),  
 アジアNIEs (Asian Newly Industrialized Economies),  
 中南米 (South America and Central America)

問26 19世紀のヨーロッパに関する次の出来事A～Dを年代順に並べたものとして正しいものを、下の①～④の中から一つ選びなさい。

**35**

A：イタリア (Italy) 王国の成立

B：ウィーン会議 (Congress of Vienna) の開催

C：クリミア戦争 (Crimean War) の勃発

D：ナポレオン (Napoleon Bonaparte) のロシア遠征

- ① A → C → D → B
- ② B → A → C → D
- ③ C → D → A → B
- ④ D → B → C → A

問27 第一次世界大戦から第二次世界大戦までのイギリスにおける出来事の記述として最も適当なものを、次の①～④の中から一つ選びなさい。

**36**

- ① マクドナルド (Ramsay MacDonald) を首相とする初の労働党内閣が誕生した。
- ② すべての成人男性に選挙権が与えられ、選挙制度も比例代表制に変更された。
- ③ インドなど多くの植民地が独立したため、経済が停滞した。
- ④ ドイツから得た賠償金をもとに産業基盤が整備され、急速に重工業が発展した。

問28 国際連合に関して、次の問い(1), (2)に答えなさい。

(1) 国際連合の本部のある都市名を、次の①～④の中から一つ選びなさい。

37

- ① ジュネーブ (Geneva)
- ② ハーグ (The Hague)
- ③ パリ (Paris)
- ④ ニューヨーク (New York)

(2) 国際連合の安全保障理事会の常任理事国でない国を、次の①～④の中から一つ選びなさい。

38

- ① 中国
- ② 日本
- ③ アメリカ
- ④ フランス

問29 日本では第二次世界大戦後の改革で、1947年に地方自治法が成立した。この法律に関する記述として最も適当なものを、次の①～④の中から一つ選びなさい。

39

- ① 地方裁判所が都道府県の管轄に置かれるようになった。
- ② 地方自治を推進するために、連邦制が導入された。
- ③ 都道府県知事と市町村長が公選となった。
- ④ 都道府県が設置され、全国が300の市町村に再編成された。

総合科目の問題はこれで終わりです。解答欄の **40** ～ **60** はマークしないでください。

この問題冊子を持ち帰ることはできません。