

平成24年度（2012年度）日本留学試験

総合科目

（80分）

I 試験全体に関する注意

1. 係員の許可なしに、部屋の外に出ることはできません。
2. この問題冊子を持ち帰ることはできません。

II 問題冊子に関する注意

1. 試験開始の合図があるまで、この問題冊子の中を見ないでください。
2. 試験開始の合図があったら、下の欄に、受験番号と名前を、受験票と同じように記入してください。
3. この問題冊子は、26ページあります。
4. 足りないページがあったら、手をあげて知らせてください。
5. 問題冊子には、メモや計算などを書いてもいいです。

III 解答用紙に関する注意

1. 解答は、解答用紙に鉛筆（HB）で記入してください。
2. 各問題には、その解答を記入する行の番号 **1**，**2**，**3**，…がついています。解答は、解答用紙（マークシート）の対応する解答欄にマークしてください。
3. 解答用紙に書いてある注意事項も必ず読んでください。

※ 試験開始の合図があったら、必ず受験番号と名前を記入してください。

受験番号			*				*						
名前													

問1 次の会話を読み、下の問い(1)～(4)に答えなさい。

よし子：冬休みに九州旅行に行こうと思っています。特に、1 鹿児島に行ってみたいです。

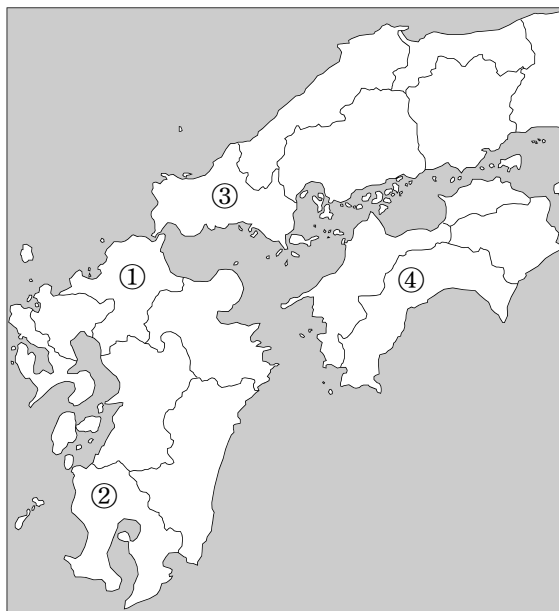
先生：鹿児島ならば尚古集成館という歴史博物館を見てきたらどうでしょうか。
2 19世紀半ばの薩摩藩の人々は、西洋の科学技術を熱心に学び、身に付けました。その成果を見ることができますよ。たとえば、近代的な製鉄技術を利用して作った大砲などが展示されています。

よし子：興味深いですね。また、3 鹿児島には桜島に火山がありますね。温泉もたくさんありますから、楽しみです。

先生：その機会に、沖縄も訪れてみたらどうでしょうか。今年はちょうど 4 沖縄の本土復帰40周年に当たりますし。

(1) 下線部1に関して、鹿児島県はどこか。正しい位置を、次の地図中の①～④の中から一つ選びなさい。

1



総合科目－2

(2) 下線部 2 に関して、薩摩藩の人々が熱心に西洋の科学技術を学んだのは、当時の国際情勢に危機感を覚え、国防の必要性を強く感じていたからである。そうした危機感をもたらすきっかけとなった戦争として最も適当なものを、次の①～④の中から一つ選びなさい。

2

- ① 南北戦争 (American Civil War)
- ② クリミア戦争 (Crimean War)
- ③ アヘン戦争 (Opium War)
- ④ 普仏戦争 (Franco-Prussian War)

(3) 下線部 3 のような自然環境を活かし、鹿児島では地熱発電がおこなわれている。日本における地熱発電の長所や短所を述べた文の組み合わせとして最も適当なものを、次の①～④の中から一つ選びなさい。

3

	長所	短所
①	発電量当たりの単価が比較的安い。	処理の難しい有害な廃棄物を発生させる。
②	自然に依拠した再生可能エネルギーを利用している。	適した土地の多くが国立公園内にあり、開発に制約が多い。
③	純国産エネルギーで海外からの影響を受けにくい。	雪や雨の量によって、発電量が一定しない恐れがある。
④	発電量を燃料によって調整できるので需要への対応が容易である。	地球温暖化の原因である温室効果ガスを大量に排出する。

- (4) 下線部 4 に関して、沖縄の本土復帰が実現した当時の佐藤栄作首相は、ノーベル平和賞を受賞している。次に挙げる人々はそれぞれノーベル平和賞を受賞しているが、その受賞年順に並べたものとして正しいものを、次の①～④の中から一つ選びなさい。

4

- ① キング牧師 → 佐藤栄作 → ミハイル・ゴルバチョフ → バラク・オバマ
- ② 佐藤栄作 → ミハイル・ゴルバチョフ → キング牧師 → バラク・オバマ
- ③ ミハイル・ゴルバチョフ → 佐藤栄作 → バラク・オバマ → キング牧師
- ④ キング牧師 → ミハイル・ゴルバチョフ → 佐藤栄作 → バラク・オバマ

注) キング牧師 (Martin Luther King, Jr.)
 ミハイル・ゴルバチョフ (Mikhail Gorbachev)
 バラク・オバマ (Barack Obama)

総合科目－4

問 2 次の文章を読み、下の問い(1)～(4)に答えなさい。

カナダ (Canada) は、世界第二位の国土面積を持つ国である。そのため、1 地域によって気候や産業などの相違が大きい。また、2 政治面では連邦制が採用されている。東部の 3 ケベック州 (Quebec) では分離・独立を求める運動も起きている。経済面ではアメリカ (USA) との関係が深い。

(1)

試験問題として成立していますが、
著作権上の都合により本問題のウェブ掲載はいたしません。

(2) 下線部 2 に関して、現代のカナダ政治に関する記述として最も適当なものを、次の①～④の中から一つ選びなさい。

6

- ① 元首はイギリス (UK) 国王で、名代として総督が形式的に置かれている。
- ② カナダは英連邦 (Commonwealth of Nations) の一員であるため米州機構 (Organization of American States) には参加していない。
- ③ アメリカへの経済的依存を低下させるために、アメリカと自由貿易協定を結ばない政策を採っている。
- ④ 先住民であるイヌイット (Inuit) の権利を尊重し、先住民による自治州の設立を相次いで認めた。

(3) 下線部 3 に関して、カナダのケベック州に関する記述として最も適当なものを、次の①～④の中から一つ選びなさい。

7

- ① オランダ (Netherlands) 系の住民が多く、プロテスタントが多数を占めている。
- ② 経済が発達しており、カナダのGDPの約半分を占めている。
- ③ アジア (Asia) 系の移民が多く、他の州との文化的な摩擦が起きている。
- ④ もともとフランス (France) の植民地であったので、フランス語を話す住民が多い。

総合科目－6

(4)

試験問題として成立していますが、
著作権上の都合により本問題のウェブ掲載はいたしません。

問3 次の文を読み、文中の空欄 [a] に当てはまる語として最も適当なものを、下の①～④の中から一つ選びなさい。

9

「三面等価の原則」とは、生産面、分配面、[a]面のいずれから見ても、一国経済での集計量は等しくなるという国民所得会計上の原則である。

- ① 貯蓄
- ② 支出
- ③ 実質
- ④ 消費

問4 資本主義経済は、1929年の株価の暴落で始まった大恐慌（世界恐慌）に対応する中で、大きく変化したと言われている。アメリカを例に、大恐慌後の変化として最も適当なものを、次の①～④の中から一つ選びなさい。

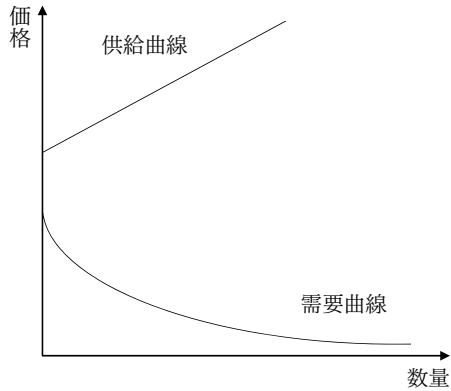
10

- ① 国際的な金本位体制の再建により各国の為替相場の安定を図り、貿易の拡大によって経済成長を実現するという、国際経済協力体制を作った。
- ② 中小企業の倒産、吸収、合併によって鉄鋼業や石油産業などで市場の独占が急速に進んだため、反トラスト法が制定された。
- ③ 国家が積極的に経済に介入することによって有効需要を創出するという政策が実施され、以後国家による経済への関与が強まった。
- ④ 減税によって消費や投資を刺激し、規制緩和と自由化を進めて民間活力を高めることで、深刻な景気後退からの回復を図るという政策が採られるようになった。

総合科目－8

問 5 次の図は、ある財の需給の状態をグラフで示したものである。この財の説明として最も適当なものを、下の①～④の中から一つ選びなさい。

11



- ① 無料のものが豊富に存在するので、その供給がビジネスとして成立しない財
- ② 市場価格が速やかに変化し、需給量が等しくなるように調整される財
- ③ 供給コストがまかなえる金額を支払ってくれる需要者が見つからない財
- ④ 価格が低ければ低いほど、供給量が増加するので、価格低落がとまらない財

問6 景気が過熱する恐れのある場合に採用される政策として最も適当なものを、次の①～④の中から一つ選びなさい。 **12**

- ① 政府が、住宅用の不動産購入に関わる税金を減免する。
- ② 中央銀行が、預金準備率を引き上げる。
- ③ 中央銀行が、公開市場操作で市場に資金を供給する。
- ④ 政府が、高速鉄道の建設など大規模な公共事業をおこなう。

問7 財政赤字に関する次の流れの中で、空欄 a，b に当てはまる語の組み合わせとして最も適当なものを、下の①～④の中から一つ選びなさい。 **13**

財政赤字の a → 国内金利の b → 民間設備投資の減少

	a	b
①	縮小	下落
②	縮小	上昇
③	拡大	下落
④	拡大	上昇

問 9 次の表は、日本における企業数、従業者数、製造業付加価値額のそれぞれについて大企業と中小企業の割合を示したものである。表中のA～Cに当てはまるものの組み合わせとして正しいものを、下の①～④の中から一つ選びなさい。

15

単位：％

	A	B	C
大企業の割合	0.3	30.6	52.3
中小企業の割合	99.7	69.4	47.7

『中小企業白書（2011年版）』より作成

注）企業数、従業者数は2006年、製造業付加価値額は2008年。

	A	B	C
①	企業数	製造業付加価値額	従業者数
②	製造業付加価値額	従業者数	企業数
③	企業数	従業者数	製造業付加価値額
④	製造業付加価値額	企業数	従業者数

問11 WTO（世界貿易機関）についての説明として最も適当なものを、次の①～④の中から一つ選びなさい。

17

- ① WTOは最恵国待遇および内国民待遇という無差別原則を持っているため、協定参加国と非参加国を差別する地域経済協定を認めていない。
- ② WTOは互惠性の原則によって自由貿易を推進することを目的としているため、紛争処理機能を持っていない。
- ③ WTO発足後、多国間の自由貿易が進んできたことから、地域経済協定の協定数は減少している。
- ④ WTOは、輸入の深刻な増加に対して加盟国が輸入数量制限や関税引き上げなどのセーフガード（緊急輸入制限措置）をおこなうことを公式に認めている。

問12 次の文章は、あるEU（欧州連合）加盟国について述べたものである。文章中の空欄 [a] ～ [c] に当てはまる語の組み合わせとして最も適当なものを、下の①～④の中から一つ選びなさい。

18

[a] は使用される言語を基準に南北におおよそ二分することができる。さらに、その二地域は、経済や政治の面でも対照をなしていると言える。この国は、19世紀の独立以来、石炭や鉄鉱石といった天然資源に恵まれる [b] を中心に工業化が進み、ヨーロッパ (Europe) 大陸で最初の産業革命を成し遂げた。しかしながら、重厚長大型産業が衰退するにつれ、[b] の経済力は衰え、代わって、港湾整備や情報産業の成長を背景に [c] が [a] 経済の中心となっており、近年は分離独立の要求を強めている。さらに、EUの本部が置かれているこの国の首都は、地理的には [c] に位置しているものの、周辺地域と異なりその住民のほとんどは、[b] と同じ言語を使用しており、一層複雑な状態となっている。

	a	b	c
①	イタリア	南部地域	北部地域
②	イタリア	北部地域	南部地域
③	ベルギー (Belgium)	南部地域	北部地域
④	ベルギー	北部地域	南部地域

問13 次の地図は陸半球を示している。地図の中心O点のおおよその経緯度について、最も適当なものを、下の①～④の中から一つ選びなさい。

19

	経度	緯度
①	東経0度	北緯48度
②	東経0度	南緯18度
③	東経30度	南緯18度
④	東経30度	北緯48度

総合科目－16

問14 時差に関する次の文章を読み、文章中の下線部 1, 2 の正誤について、その正誤の組み合わせとして最も適当なものを、下の①～④の中から一つ選びなさい。 **20**

日本のいくつかの新聞がアメリカで印刷・発行されている。ある新聞の場合、日本における朝刊の最終原稿締め切りが午前1時、それが通信衛星でアメリカに送られるのが午前2時である。そのときのニューヨーク（New York）時間は、日本との時差が14時間だから、1 正午である。その後、印刷されてトラックに積み込まれ、午後4時前後にはニューヨーク市内に配達されるので、ニューヨークに住む日本人は、2 1月1日の日付の入った日本の朝刊を12月31日の夕方に読むことができる。

	下線部 1	下線部 2
①	正	正
②	正	誤
③	誤	正
④	誤	誤

問15 海岸地形に関する次の文章を読み、下の問い(1)、(2)に答えなさい。

地球温暖化の影響とも言われる海面上昇により、将来の水没が心配されている海岸地域や島も少なくない。たとえば、水の都として知られ、世界文化遺産に登録されているイタリアの [a] では、満潮になると街中に海水が入ってくる。また、^{さんごしょう}珊瑚礁からなる島国で最高地点でも海拔 4 m ほどしかない南太平洋の [b] では、国民の国外移住さえ検討されている。このような水没の危険性が大きいところの海岸の地形を見てみると、上にも挙げた珊瑚礁のほか、低平な砂浜海岸などであることが多い。

- (1) 上の文章中の空欄 [a]，[b] に当てはまる都市名と国名の組み合わせとして最も適当なものを、次の①～④の中から一つ選びなさい。

21

	a	b
①	ナポリ	コモロ
②	ナポリ	ツバル
③	ヴェネツィア	コモロ
④	ヴェネツィア	ツバル

注) ナポリ (Naples), コモロ (Comoros), ツバル (Tuvalu), ヴェネツィア (Venice)

- (2) 上の文章中の下線部に示す地形の例として最も適当なものを、次の①～④の中から一つ選びなさい。

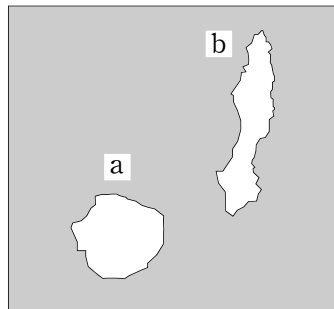
22

- ① ^{さし}砂嘴, ^{りくけい}陸繋砂州
 ② 砂嘴, 海岸段丘
 ③ 三角江, 陸繋砂州
 ④ 三角江, 海岸段丘

総合科目－18

問16 次の文章中の空欄 **a**，**b** に当てはまる島の名前の組み合わせとして正しいものを、下の①～④の中から一つ選びなさい。 **23**

日本の国土は6,000を超える島々から成り立っている。次の図の **a** と **b** の二つの島は相互の距離が約20kmと比較的近いところに位置する。この中の **a** には樹齢1,000年以上の杉の原生林が生い茂り、世界自然遺産に登録されている。一方、**b** は日本に初めて鉄砲（火縄銃）が伝えられたところとして知られる。また、この島には宇宙センターがあり、岬の先端の発射台の風景は「世界一美しいロケット発射場」と言われるほどである。



図

	a	b
①	いき 壱岐	つしま 対馬
②	対馬	壱岐
③	やくしま 屋久島	たねがしま 種子島
④	種子島	屋久島

問18 世界には上院と下院から構成される二院制度を持つ国もあれば、ただ一つの議院によって議会を構成している国もある。現在、一院制を採用している国を、次の①～④の中から一つ選びなさい。

25

- ① オーストラリア
- ② 日本
- ③ イタリア
- ④ スウェーデン (Sweden)

問19 立憲君主制とは、憲法に従って国政がおこなわれ、原則として君主の権力が憲法や議会によって制限を受ける制度のことである。現在、立憲君主制を採用している国を、次の①～④の中から一つ選びなさい。

26

- ① ドイツ (Germany)
- ② フランス
- ③ スペイン (Spain)
- ④ ポルトガル (Portugal)

問20 アメリカの大統領制に関する記述として最も適当なものを、次の①～④の中から一つ選びなさい。

27

- ① 大統領が拒否権を行使した法案を、議会は再可決できない。
- ② 大統領の任期は一定であり、大統領に議会解散権はない。
- ③ 大統領は議会により選出される。
- ④ 大統領が任命する閣僚の3分の2以上は、上院議員でなければならない。

問21 次の文章を読み、文章中の空欄 **a**，**b** に当てはまる語の組み合わせとして最も適当なものを、下の①～④の中から一つ選びなさい。 **28**

1648年の **a** 条約は近代ヨーロッパの国際関係の基礎を築いたと言われる。その条約は **b** の講和条約であった。

	a	b
①	ユトレヒト	ドイツ三十年戦争
②	ユトレヒト	スペイン継承戦争
③	ウェストファリア	ドイツ三十年戦争
④	ウェストファリア	スペイン継承戦争

注) ユトレヒト (Utrecht), ドイツ三十年戦争 (Thirty Years' War),
 スペイン継承戦争 (War of the Spanish Succession), ウェストファリア (Westphalia)

問22 アジア太平洋経済協力 (APEC) は、日本やアメリカなどアジア太平洋地域の12か国で1989年に発足した。APEC発足時から参加している国として正しいものを、次の①～④の中から一つ選びなさい。 **29**

- ① ベトナム
- ② カナダ
- ③ インド
- ④ アルゼンチン (Argentina)

問23 国際連合（UN）はその憲章第1条で国際連合の目的を示している。その中で一番目に挙げられているものは何か。最も適当なものを、次の①～④の中から一つ選びなさい。

30

- ① 文化遺産および自然遺産の保護
- ② 国際協調主義
- ③ 民族自決の実現
- ④ 国際の平和および安全の維持

問24 次の文章を読み、文章中の空欄 に当てはまる語として最も適当なものを、下の①～④の中から一つ選びなさい。

31

ラッセル（Bertrand Russell）やアインシュタイン（Albert Einstein）らの声明をきっかけにして、世界の科学者が集まり、核軍縮や平和問題について意見を交換する会議が開催された。この会議は、1957年の第1回の開催地の名前をとって、 会議と呼ばれる。この会議は核兵器廃絶に努力したことから、1995年にノーベル平和賞を受賞した。

- ① 京都
- ② マルタ（Malta）
- ③ ヤルタ（Yalta）
- ④ パグウォッシュ（Pugwash）

問26 1814年から1815年にかけて開催されたウィーン会議（Congress of Vienna）とその
帰結に関する記述として最も適当なものを，次の①～④の中から一つ選びなさい。

33

- ① 現在のオーストリア（Austria）からイタリアにかけての地域に，神聖ローマ帝国（Holy Roman Empire）が再建された。
- ② フランス革命（French Revolution）以前の領土や主権を正統なものとする正統主義が基本原則とされ，ヨーロッパの大国の勢力均衡が図られた。
- ③ 小国が分立していたドイツは，プロイセン（Prussia）を中心とするドイツ帝国として統一された。
- ④ ナポレオン（Napoleon Bonaparte）が開催した会議であり，オランダやスペインをフランス領とすることを他のヨーロッパ諸国に認めさせた。

問27 19世紀末から20世紀初めにかけての日本に関する出来事A～Dを年代順に並べたものとして正しいものを，下の①～④の中から一つ選びなさい。

34

- A：日英同盟（Anglo-Japanese Alliance）の締結
- B：日清戦争（First Sino-Japanese War）の開戦
- C：三国干渉
- D：大日本帝国憲法の発布

- ① A → B → C → D
- ② B → C → A → D
- ③ C → D → B → A
- ④ D → B → C → A

問28 19世紀末から20世紀初めにかけてのアフリカ (Africa) の植民地化に関する記述として最も適当なものを、次の①～④の中から一つ選びなさい。 35

- ① コンゴ自由国 (Congo Free State) は、ベルギー政府直轄の植民地となり、ベルギー領コンゴ (Belgian Congo) となった。
- ② 南アフリカ (South Africa) は、南アフリカ戦争* (South African War) の結果、フランスの植民地となった。
- ③ エチオピア (Ethiopia) は、ファショダ事件 (Fashoda Incident) の結果、オスマン帝国 (Ottoman Empire) の植民地となった。
- ④ チュニジア (Tunisia)、アルジェリア (Algeria) は相次いでイタリアの植民地となった。

* 別名、ブール戦争 (Boer War)

問29 第一次世界大戦後の国際社会に関する記述として最も適当なものを、次の①～④の中から一つ選びなさい。 36

- ① ロシア (Russia) では「血の日曜日事件」をきっかけに革命が起きた。
- ② ベルサイユ条約 (Treaty of Versailles) で、戦勝国側の海軍の軍備を制限することが合意された。
- ③ アメリカのウィルソン (Woodrow Wilson) 大統領の提唱により、国際連盟 (League of Nations) が設立された。
- ④ ドイツとソ連 (USSR) の間で相互不可侵を定めたロカルノ条約 (Locarno Pact) が締結された。

問30 第二次世界大戦後の第三世界に関する記述として最も適当なものを、次の①～④の中から一つ選びなさい。

37

- ① インドのネルー (Jawaharlal Nehru) と中国の周恩来 (Zhou Enlai) は、民主化の促進、人権擁護を柱とする平和五原則を発表した。
- ② 1960年にアフリカで相次いで独立国が誕生したことを受けて、翌年アジア・アフリカ会議が開催された。
- ③ ユーゴスラビア (Yugoslavia) 大統領のチトー (Tito) らの呼びかけによって、第一回非同盟諸国首脳会議が開催された。
- ④ キューバ (Cuba) ではキューバ危機 (Cuban Missile Crisis) の結果、アメリカと対立するカストロ (Fidel Castro) 政権が誕生した。

総合科目の問題はこれで終わりです。解答欄の **38** ～ **60** はマークしないでください。

この問題冊子を持ち帰ることはできません。