

平成25年度（2013年度）日本留学試験

総合科目

(80分)

I 試験全体に関する注意

1. 係員の許可なしに、部屋の外に出ることはできません。
2. この問題冊子を持ち帰ることはできません。

II 問題冊子に関する注意

1. 試験開始の合図があるまで、この問題冊子の中を見ないでください。
2. 試験開始の合図があったら、下の欄に、受験番号と名前を、受験票と同じように記入してください。
3. この問題冊子は、21ページあります。
4. 足りないページがあったら、手をあげて知らせてください。
5. 問題冊子には、メモや計算などを書いてもいいです。

III 解答用紙に関する注意

1. 解答は、解答用紙に鉛筆（HB）で記入してください。
2. 各問題には、その解答を記入する行の番号 **1**，**2**，**3**，…がついています。解答は、解答用紙（マークシート）の対応する解答欄にマークしてください。
3. 解答用紙に書いてある注意事項も必ず読んでください。

※ 試験開始の合図があったら、必ず受験番号と名前を記入してください。

受験番号			*				*					
名前												

問1 次の会話を読み、下の問い(1)～(4)に答えなさい。

よし子：「鉄の女」と呼ばれたイギリス（UK）のサッチャー（Margaret Thatcher）
元首相が亡くなりましたよね。おいくつだったのですか。

先生：11925年生まれで、87歳でした。

よし子：なぜ「鉄の女」と呼ばれたのでしょうか。

先生：ソ連（USSR）など当時の共産主義諸国に対して厳しい態度をとったからで
しょう。その後の2アルゼンチン（Argentina）とのフォークランド（マル
ビナス）紛争でも一歩も引かず、「鉄の女」のイメージが強まりました。政
策面では、サッチャー元首相は、「サッチャリズム」（Thatcherism）と呼ば
れる3新自由主義的改革をおこなった政治家として知られています。

よし子：日本でも4女性の社会進出がもっと進み、早く女性首相が生まれるといいで
すね。

注） フォークランド（Falklands）、マルビナス（Malvinas）

(1) 下線部1に関して、1925年は日本で選挙制度の改革がおこなわれた年である。この
改革に関する記述として最も適当なものを、次の①～④の中から一つ選びなさい。

1

- ① 全国を一つの選挙区とした比例代表制が採用された。
- ② 選挙権に出身地や居住に関する条件が設定された。
- ③ 25歳以上の男性に選挙権が与えられた。
- ④ 貴族院が廃止されて、民選議員からなる参議院が設置された。

総合科目－2

- (2) 下線部 2 に関して，アルゼンチンはどこか。正しい位置を，次の地図中の①～④の中から一つ選びなさい。

2



- (3) 下線部 3 に関して，サッチャー首相のおこなった新自由主義的改革はどれか。最も適当なものを，次の①～④の中から一つ選びなさい。

3

- ① 経済活性化のため，国営企業を民営化し，競争原理を導入した。
- ② 法人税や所得税を引き上げ，財政の再建を進めた。
- ③ 労働組合法を成立させ，労働者の生活状況の改善に努めた。
- ④ 共通カリキュラムや全国共通学力テストを廃止し，教育分野の規制を緩和した。

(4) 下線部 4 に関して，女子差別撤廃条約が1979年に国際連合（UN）の総会で採択された。日本は，これを1985年に批准し，それに伴い国内法を整備した。この国内法に関する記述として最も適当なものを，次の①～④の中から一つ選びなさい。 4

- ① 就職や昇進の機会における男女の平等化を企業に求めた。
- ② 国会の議席の一定数を女性に割り当てた。
- ③ 婚姻に際して夫婦別姓を選択できるようにした。
- ④ 出産した女性従業員に3年間の育児休暇を与えることを企業に義務づけた。

総合科目-4

問2 次の文章を読み、下の問い(1)~(4)に答えなさい。

1 イラン (Iran) は、中東 (Middle East) に位置する 2 イスラム共和制 (Islamic republic) の国家である。1979年に 3 イラン革命 が起き、パーレビ (Pahlavi) 国王が国外に逃亡し、現在の体制になった。エネルギー資源にも恵まれ世界屈指の 4 石油生産量や天然ガス埋蔵量 で注目されている。

(1) 下線部1に関して、イランはどこか。正しい位置を、次の地図中の①~④の中から一つ選びなさい。

5



- (2) 下線部 2 に関して、次の文章中の空欄 ～ に当てはまる語の組み合わせとして最も適当なものを、下の①～④の中から一つ選びなさい。 6

イスラム教 (Islam) は、 を聖典とし、 を徹底している。イスラム教は、主に二つの宗派に分かれるが、イランは が多数を占める。

	a	b	c
①	コーラン (クルアーン)	カースト制度	シーア派
②	コーラン (クルアーン)	偶像崇拜の禁止	シーア派
③	リグ・ヴェーダ	カースト制度	スンニ派
④	リグ・ヴェーダ	偶像崇拜の禁止	スンニ派

注) コーラン (Koran), クルアーン (Qur'an), カースト制度 (caste), シーア派 (Shia),
リグ・ヴェーダ (Rig Veda), スンニ派 (Sunni)

- (3) 下線部 3 に関して、イラン革命と同じ年に始まった出来事として正しいものを、次の①～④の中から一つ選びなさい。 7

- ① 湾岸戦争 (Gulf War)
- ② ベトナム戦争 (Vietnam War)
- ③ キューバ危機 (Cuban Missile Crisis)
- ④ ソ連のアフガニスタン (Afghanistan) 侵攻

総合科目－6

- (4) 下線部 4 に関して，次の文章中の空欄 **a**，**b** に当てはまる語の組み合わせとして最も適当なものを，下の①～④の中から一つ選びなさい。 8

イランの石油生産は **a** が担っている。2011年において，イランの石油生産量は，サウジアラビア (Saudi Arabia)，ロシア (Russia)，アメリカ (USA) に次いで世界第 4 位である。また，天然ガス埋蔵量は **b** に次いで世界第 2 位である。

	a	b
①	民間企業	ロシア
②	国営企業	ロシア
③	民間企業	サウジアラビア
④	国営企業	サウジアラビア

- 問 3 次の表は，経済思想（経済理論）とそれを代表する経済学者，その代表的な著作を組み合わせたものである。その組み合わせとして正しいものを，次の①～④の中から一つ選びなさい。 9

	経済思想	経済学者	代表的な著作
①	重農主義	ケネー	『経済表』
②	古典派経済学	リカード	『国富論』
③	マルクス経済学	アダム・スミス	『経済学および課税の原理』
④	新古典派経済学	ワルラス	『雇用・利子および貨幣の一般理論』

注) ケネー (François Quesnay), 経済表 (*Economic Table*), リカード (David Ricardo), 国富論 (*An Inquiry into the Nature and Causes of the Wealth of Nations*), アダム・スミス (Adam Smith), 経済学および課税の原理 (*On the Principles of Political Economy, and Taxation*), ワルラス (Léon Walras), 雇用・利子および貨幣の一般理論 (*The General Theory of Employment, Interest and Money*)

問4 次の文章を読み、下の問い(1), (2)に答えなさい。

1929年に始まった大恐慌は、世界の国々に大きな影響を与え、資本主義経済は大きな危機に直面した。アメリカでは、が実施され、公共事業をはじめとしたさまざまな景気刺激策がとられた。こうした不況に対してケインズ (John Maynard Keynes) は、政府がを増加させる経済政策をとるべきであると主張した。第二次世界大戦後には、世界各国でケインズの主張した経済政策が採用されるようになった。

(1) 上の文章中の空欄に当てはまる語として最も適当なものを、次の①～④の中から一つ選びなさい。 **10**

- ① 緊縮財政
- ② 所得倍増計画
- ③ 自由放任政策
- ④ ニューディール政策 (New Deal)

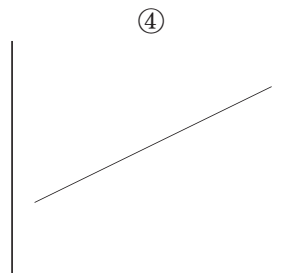

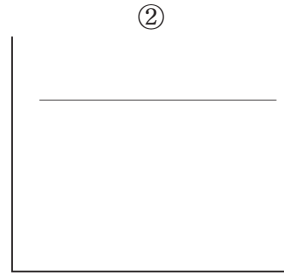
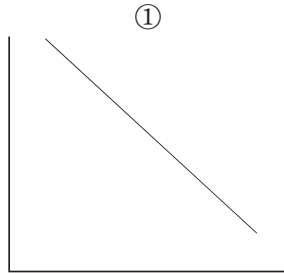
(2) 上の文章中の空欄に当てはまる語として最も適当なものを、次の①～④の中から一つ選びなさい。 **11**

- ① 貿易黒字
- ② 労働供給
- ③ 有効需要
- ④ 財政黒字

総合科目－8

問 5 ある財の取引が社会的に好ましくないとの判断から、政府がその財の供給に対して制限を課した場合、政府の意図に反して、取引量はほとんど、もしくはまったく変化せず、その価格が上がったのみであったとする。そのような財の需要曲線の形状として最も適当なグラフを、次の①～④の中から一つ選びなさい。ただし、縦軸は価格を、横軸は需要量を表すものとする。

12



問6 次の表は、一国経済における家計部門を示している。この場合の家計部門の可処分所得として正しい値を、下の①～④の中から一つ選びなさい。

13

所得	600
消費	350
租税	50
社会保険料	50
貯蓄	150

注) これ以外の費目は0とする。

- ① 450
- ② 500
- ③ 550
- ④ 600

問7 X国の名目GDP（国内総生産）は昨年1兆ドルであったが、今年は2兆ドルに増加した。また、X国の物価水準は昨年から今年にかけて25%上昇した。X国の今年の実質GDPの成長率として正しい値を、次の①～④の中から一つ選びなさい。

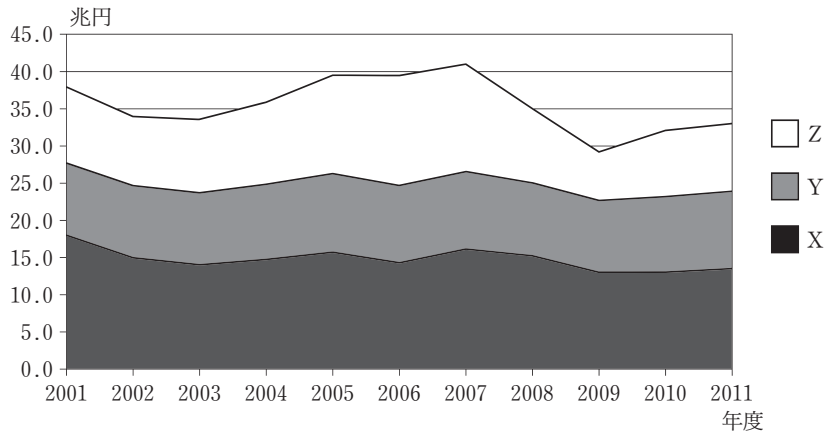
14

- ① 60%
- ② 75%
- ③ 100%
- ④ 125%

総合科目－10

問 8 次のグラフは、日本の主要な税目の税収の推移を示したものである。X～Zに当てはまる税目の組み合わせとして正しいものを、下の①～④の中から一つ選びなさい。

15



財務省ウェブサイトより作成

	X	Y	Z
①	法人税	消費税	所得税
②	消費税	所得税	法人税
③	所得税	消費税	法人税
④	所得税	法人税	消費税

問9 国債の発行に関する記述として最も適当なものを、次の①～④の中から一つ選びなさい。

16

- ① 国債は、基本的に中央銀行が引き受けた後、市中に売却される。
- ② 国債が大量に発行されると、デフレーションの危険が高まる。
- ③ 国債の発行は、将来世代への増税の可能性を低くする。
- ④ 国債が大量に発行されると、資金が国に集中し、民間投資資金が少なくなる。

問10 日本経済は1980年代後半から1990年代初頭までの期間において景気拡大を経験した。この期間の説明として最も適当なものを、次の①～④の中から一つ選びなさい。

17

- ① 郵政民営化を柱とする構造改革政策が進められ、自律的な経済成長を遂げた。
- ② 円安が急速に進み、輸入が減少して国内生産が増加した。
- ③ 市中金利が上昇し続け、財政赤字が急激に増加していった。
- ④ 株価や地価などの資産価格が上昇し、資産効果を通じて国内消費の拡大を支えた。

問11 経済連携協定（EPA）とは貿易の自由化に加え、投資、人の移動、知的財産の保護や競争政策におけるルール作り、さまざまな分野での協力の要素などを含む、幅広い経済関係の強化を目的とする自由貿易協定（FTA）のことである。

2012年末において、日本との間でEPAが発効している国を、次の①～④の中から一つ選びなさい。

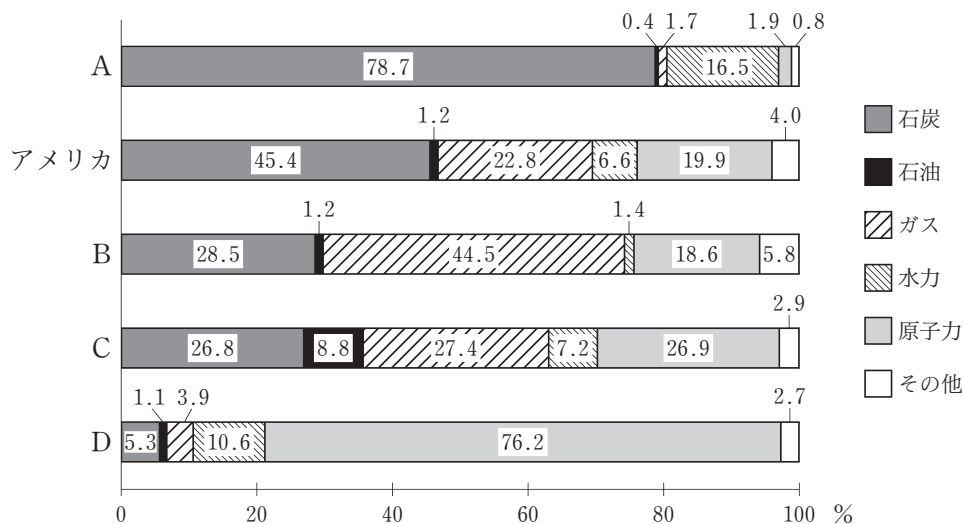
18

- ① 中国（China）
- ② ロシア
- ③ インド（India）
- ④ ブラジル（Brazil）

総合科目-12

問12 次の図は、2009年の5か国の発電電力量に占める電源構成を示している。図のA～Dに当てはまる国名の組み合わせとして最も適当なものを、下の①～④の中から一つ選びなさい。

19



『エネルギー白書2012』より作成

	A	B	C	D
①	中国	フランス	日本	イギリス
②	中国	イギリス	日本	フランス
③	日本	フランス	中国	イギリス
④	日本	イギリス	中国	フランス

注) フランス (France)

問13 次の表は、1970年、1980年、1990年、2000年、2009年の各年における、日本、フランス、イギリス、ドイツ（Germany）の食料自給率（カロリーベース）を示している。この中でフランスの食料自給率を示しているものを、次の表の①～④の中から一つ選びなさい。

20

単位：％

	1970年	1980年	1990年	2000年	2009年
①	104	131	142	132	121
②	60	53	48	40	40
③	68	76	93	96	93
④	46	65	75	74	65

農林水産省ウェブサイトより作成

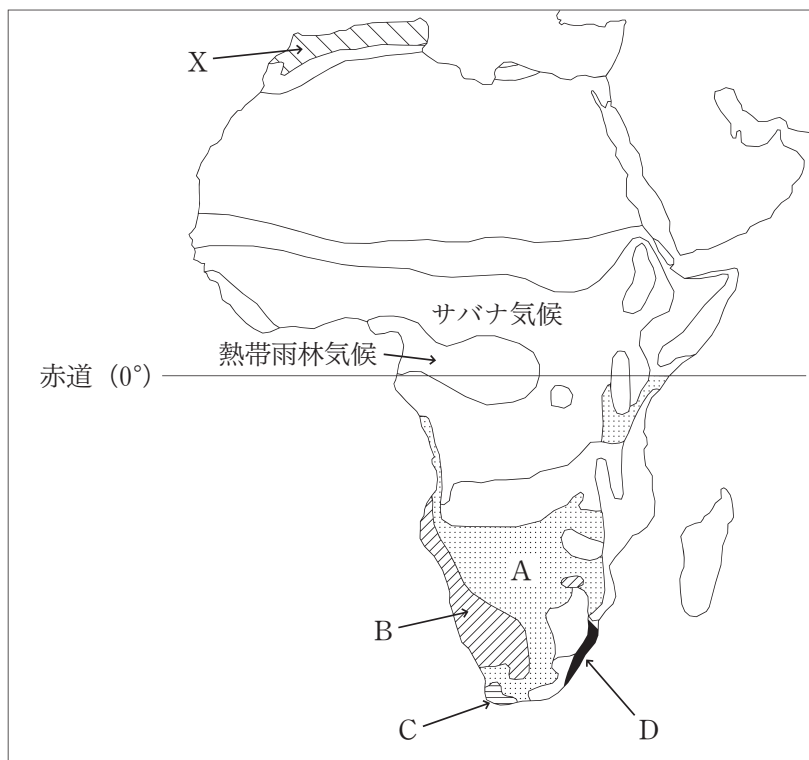
問14 東京を9月1日の午後11時（標準時は東経135度に基づく）発の航空便でシンガポール（Singapore）を經由してシドニー（Sydney）へ旅をした。シンガポールまでは7時間を要した。同地で3時間の乗り継ぎ待ちをした後、シドニーに向けて出発した。シドニーまでは7時間を要した。シドニー到着時の現地時間（標準時は東経150度に基づく）として正しいものを、次の①～④の中から一つ選びなさい。

21

- ① 9月2日 午後5時
- ② 9月2日 午後2時
- ③ 9月2日 午前5時
- ④ 9月2日 午前2時

問15 次の地図は、アフリカ (Africa) の気候区を示している。アフリカでは赤道をはさみ北半球側と同じ気候区が南半球側にも見られる。次の地図中の北半球側に見られる X と同じ気候区として正しいものを、下の①～④の中から一つ選びなさい。

22



- ① A
- ② B
- ③ C
- ④ D

問16 次の文章を読み、下の問い(1), (2)に答えなさい。

地震が起こる要因はさまざまである。災害が広範囲に及ぶ地震は、1 プレートとプレートが接する境界付近を震源とするものに多い。こうした地震によって生じる津波は、海水が高波となって海岸に押し寄せるといって、2 高潮と似ているが、そのメカニズムは大きく異なっている。

(1) 上の文章中の下線部 1 に関して、日本付近では四つのプレートが境界を接しており、その中の一つは太平洋プレートである。残りの三つのプレートとして正しいものを、次の①～④の中から一つ選びなさい。 **23**

- ① ユーラシアプレート、フィリピン海プレート、インド・オーストラリアプレート
- ② ユーラシアプレート、フィリピン海プレート、北アメリカプレート
- ③ ユーラシアプレート、北アメリカプレート、インド・オーストラリアプレート
- ④ フィリピン海プレート、北アメリカプレート、インド・オーストラリアプレート

注) 太平洋プレート (Pacific Plate), ユーラシアプレート (Eurasian Plate),
フィリピン海プレート (Philippine Sea Plate),
インド・オーストラリアプレート (Indo-Australian Plate),
北アメリカプレート (North American Plate)

(2) 上の文章中の下線部 2 に関して、高潮が発生する最大の要因として最も適当なものを、次の①～④の中から一つ選びなさい。 **24**

- ① 狭い範囲への一時的かつ大量の降雨
- ② 台風などの強い低気圧の通過
- ③ 防潮堤による海水の堰き止め
- ④ 太陽や月の引力による潮汐 (tides) 作用

総合科目－16

問17 次の表は、日本の4都道県（北海道，東京都，新潟県，沖縄県）の農業面の土地利用（2011年）を示したものである。この中で沖縄県を示すものを、次の表の①～④の中から一つ選びなさい。

25

単位：%

	水田率（注1）	耕地率（注2）	耕地利用率（注3）
①	2.2	17.2	88.2
②	3.9	3.5	91.6
③	19.4	14.7	99.4
④	88.5	13.8	86.1
全国	54.2	12.2	91.9

総務省統計局ウェブサイトより作成

注1) 水田率 = (水田面積 / 耕地面積) × 100

注2) 耕地率 = (耕地面積 / 総土地面積) × 100

注3) 耕地利用率 = (作付延面積 / 耕地面積) × 100

問18

試験問題として成立していますが、
著作権上の都合により本問題のウェブ掲載はいたしません。

問19 次の文章を読み、下の問い(1), (2)に答えなさい。

日本の国政選挙において、一票の格差が問題になっている。例えば小選挙区制の下で、都市地域の選挙区Xの有権者数が10万人であるのに対して、農村地域の選挙区Yの有権者数が4万人であった。選挙区Xでは当選者の獲得票数は4万票であり、選挙区Yでは当選者の獲得票数は2万票であった。

(1) 選挙区Yの1票は選挙区Xの1票の何倍の重さを持っているとみなされるか。正しいものを、次の①～④の中から一つ選びなさい。 **27**

- ① 2.5倍
- ② 2倍
- ③ 0.5倍
- ④ 0.4倍

(2) 小選挙区制と比例代表制を比較した場合の小選挙区制の特徴を記したものとして最も適当なものを、次の①～④の中から一つ選びなさい。 **28**

- ① 小選挙区制は、連立政権を作り出す傾向が強い。
- ② 小選挙区制は、死票を少なくする傾向が強い。
- ③ 小選挙区制は、議会に議席を持つ政党数を増加させる傾向が強い。
- ④ 小選挙区制は、政党の得票率と獲得議席率の差を大きくする傾向が強い。

総合科目－18

問20 次の文章中の空欄 **a**，**b** に当てはまる語の組み合わせとして最も適当なものを，下の①～④の中から一つ選びなさい。 **29**

1985年にソ連共産党書記長となったゴルバチョフ（Mikhail Gorbachev）は，対外的にはアメリカとの関係改善に努め，国内では市場経済の導入，**a** 制の導入などの民主化を進めた。この国内改革は **b** と呼ばれている。1990年の憲法改正の後，ゴルバチョフはソ連の大統領に選出された。

	a	b
①	複数政党	グラスノスチ
②	一党独裁	グラスノスチ
③	複数政党	ペレストロイカ
④	一党独裁	ペレストロイカ

注) グラスノスチ (glasnost)，ペレストロイカ (perestroika)

問21 次の文章中の空欄 **a**，**b** に当てはまる語の組み合わせとして最も適当なものを，下の①～④の中から一つ選びなさい。 **30**

オンブズマン制度とは，行政機関の活動について法を守っているかを監視・調査し，行政機関の改善や公務員の懲戒^{ちょうかい}などを政府・議会に勧告する制度のことである。19世紀初め，**a** で創設され，各国に普及した。日本では，**b** での導入が進んでいる。

	a	b
①	スウェーデン	国政
②	スウェーデン	地方自治体
③	イギリス	国政
④	イギリス	地方自治体

注) スウェーデン (Sweden)

問22 1950年代後半、日本の外務省が発表した日本外交の三原則に含まれないものを、次の①～④の中から一つ選びなさい。

31

- ① 自由主義諸国との協調
- ② 国連中心主義
- ③ 武器輸出の禁止
- ④ アジア (Asia) の一員としての立場の堅持^{けんじ}

問23 人道的介入 (humanitarian intervention) とは、一般的に、他国で生じている国内・民族紛争に対して、国家や地域機構などの国際社会が主体となって、人権侵害を阻止するために軍事的に介入することであるとされている。人道的介入がおこなわれた紛争事例として最も適当なものを、次の①～④の中から一つ選びなさい。

32

- ① チェチェン紛争 (Chechen Wars)
- ② コソボ紛争 (Kosovo War)
- ③ カシミール紛争 (Kashmir conflict)
- ④ 北アイルランド紛争 (Civil disturbances in Northern Ireland)

問24 国際連盟 (League of Nations) は、第一次世界大戦後のパリ講和会議 (Paris Peace Conference) に基づき1920年に発足した、集団安全保障制度を備えた世界的平和機構である。この国際連盟に、発足後一度も加盟しなかった国家を、次の①～④の中から一つ選びなさい。

33

- ① 日本
- ② ソ連
- ③ アメリカ
- ④ イタリア (Italy)

問25 イギリスは19世紀半ば、世界の工場と呼ばれた。当時のイギリスの主要な輸出品として最も適当なものを、次の①～④の中から一つ選びなさい。

34

- ① 綿製品
- ② 毛織物
- ③ 麻織物
- ④ 生糸 (raw silk and silk yarn)

問26 フランス革命とナポレオン戦争 (Napoleonic Wars) 後の混乱を処理するために開かれたウィーン会議 (Congress of Vienna) の結果に関する記述として最も適当なものを、次の①～④の中から一つ選びなさい。

35

- ① スペイン (Spain) の革命政府が承認され、共和政体が国際的に認められた。
- ② オーストリア (Austria) やプロイセン (Prussia) の領土にまたがるドイツ連邦 (German Confederation) が生まれた。
- ③ ローマ教皇領 (Papal States) がイタリア王国に併合され、イタリアの統一が達成された。
- ④ オランダ (Netherlands) とスイス (Switzerland) がフランスからの独立を認められた。

問27 日本で1920年代に起こった出来事として最も適当なものを、次の①～④の中から一つ選びなさい。

36

- ① ドイツ、イタリアと日独伊三国同盟 (Tripartite Pact) を締結した。
- ② ソ連との関係改善を果たし、条約を結んで、ソ連と国交を樹立した。
- ③ 日英同盟 (Anglo-Japanese Alliance) に基づき、第一次世界大戦に参戦した。
- ④ 日清戦争 (First Sino-Japanese War) で得た遼東半島 (Liaodong Peninsula) を三国干渉の結果、中国に返還した。

問28 第二次世界大戦直後のヨーロッパ (Europe) に関する記述として最も適当なものを、次の①～④の中から一つ選びなさい。 **37**

- ① ファシズム (fascism) から解放されたイタリアでは共産党が単独で政権をとった。
- ② フランスでは国民投票の結果、王政が廃止された。
- ③ イギリスでは「ゆりかごから墓場まで」といわれる社会保障制度が整備された。
- ④ ハンガリー (Hungary) やルーマニア (Romania) などの東ヨーロッパ諸国はアメリカからの経済援助を受け入れ、ソ連と対立した。

問29 第二次世界大戦後の日本の出来事A～Dを年代順に並べたものとして正しいものを、下の①～④の中から一つ選びなさい。 **38**

- A：日中平和友好条約 (Japan-China Peace and Friendship Treaty) 締結
- B：国際連合への加盟
- C：日ソ共同宣言 (Soviet-Japanese Joint Declaration) 調印
- D：サンフランシスコ講和条約 (Treaty of San Francisco) 調印

- ① A → D → C → B
- ② B → A → C → D
- ③ C → A → B → D
- ④ D → C → B → A

総合科目の問題はこれで終わりです。解答欄の **39** ～ **60** はマークしないでください。

この問題冊子を持ち帰ることはできません。