

平成26年度（2014年度）日本留学試験

# 総合科目

(80分)

## I 試験全体に関する注意

1. 係員の許可なしに、部屋の外に出ることはできません。
2. この問題冊子を持ち帰ることはできません。

## II 問題冊子に関する注意

1. 試験開始の合図があるまで、この問題冊子の中を見ないでください。
2. 試験開始の合図があったら、下の欄に、受験番号と名前を、受験票と同じように記入してください。
3. この問題冊子は、23ページあります。
4. 足りないページがあったら、手をあげて知らせてください。
5. 問題冊子には、メモや計算などを書いてもいいです。

## III 解答用紙に関する注意

1. 解答は、解答用紙に鉛筆（HB）で記入してください。
2. 各問題には、その解答を記入する行の番号 **1**，**2**，**3**，…がついています。解答は、解答用紙（マークシート）の対応する解答欄にマークしてください。
3. 解答用紙に書いてある注意事項も必ず読んでください。

※ 試験開始の合図があったら、必ず受験番号と名前を記入してください。

受験番号			*				*					
名前												

問1 次の文章を読み、下の問い(1)～(4)に答えなさい。

ロシア連邦 (Russian Federation) は、世界最大の国土面積を有する連邦国家である。ロシア連邦では、1首相も存在するが、権限のより大きな大統領を持つ制度が採用されている。また、2ロシア革命でロマノフ (Romanov) 王朝が倒された後に建国されたソビエト連邦 (USSR) の継承国とされる。第二次世界大戦後、ソ連とアメリカ (USA) は、3冷戦状態にあったが、1989年12月に、a のマルタ (Malta) 島沖で、ミハイル・ゴルバチョフ (Mikhail Gorbachev) がジョージH.W.ブッシュ (George H.W. Bush) と会談し、冷戦の終結が宣言された。現在のロシア連邦は、市場経済移行後の経済発展や天然ガスなどの豊富なエネルギー資源を背景に、再び影響力を拡大している。

(1) 下線部1に関して、ロシア連邦のような制度を採用している国として正しいものを、次の①～④の中から一つ選びなさい。

1

- ① フランス (France)
- ② イギリス (UK)
- ③ カナダ (Canada)
- ④ オーストラリア (Australia)

## 総合科目－2

(2) 下線部 2 に関して、ロシア革命に関する記述として最も適当なものを、次の①～④の中から一つ選びなさい。

2

- ① 革命後に発布された「権利の章典」は、王権を制限し、議会政治の基礎を作った。
- ② 革命の基本原則とされる自由や平等、所有権の不可侵を明記した「人権宣言」を採択した。
- ③ レーニン (Lenin) を指導者とする、世界で初めての本格的な社会主義革命であった。
- ④ スターリン (Stalin) が提唱した民族独立・民権伸張・民生安定を掲げる革命であった。

(3) 下線部 3 に関して、冷戦中に起こった出来事を年代順に並べたものとして正しいものを、次の①～④の中から一つ選びなさい。

3

- ① 朝鮮戦争の勃発<sup>ぼっぱつ</sup> → ベルリン封鎖 → キューバ危機 → プラハの春
- ② 朝鮮戦争の勃発 → キューバ危機 → ベルリン封鎖 → プラハの春
- ③ ベルリン封鎖 → 朝鮮戦争の勃発 → キューバ危機 → プラハの春
- ④ ベルリン封鎖 → プラハの春 → 朝鮮戦争の勃発 → キューバ危機

注) 朝鮮戦争 (Korean War), ベルリン封鎖 (Berlin Blockade),  
キューバ危機 (Cuban Missile Crisis), プラハの春 (Prague Spring)

(4) 上の文章中の空欄 a に当てはまる海域として正しいものを、次の①～④の中から一つ選びなさい。

4

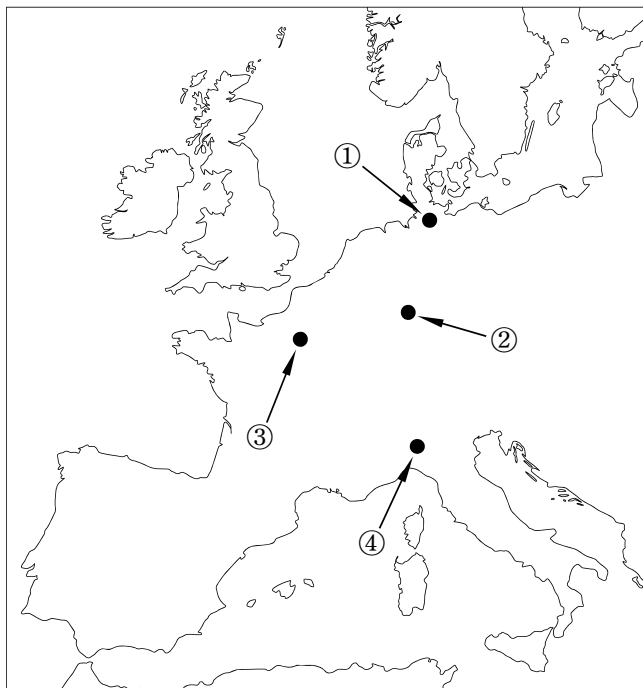
- ① 地中海
- ② 北海
- ③ バルト海
- ④ カリブ海

問2 次の文章を読み、下の問い(1)～(4)に答えなさい。

1 フランクフルト (Frankfurt) は、マイン (Main) 川流域に位置し、中世以来交通の要衝として知られる 2 ドイツ (Germany) の都市である。歴史的には、神聖ローマ帝国 (Holy Roman Empire) の皇帝の戴冠式が挙行され、19世紀に成立した 3 ドイツ連邦 (German Confederation) では連邦議会が置かれるなど、中欧における重要な都市として繁栄してきた。現在は、国際金融の中心地として知られ、4 欧州中央銀行 (ECB) の本部が置かれている。

- (1) 下線部1に関して、フランクフルトの位置として正しいものを、次の地図中の①～④の中から一つ選びなさい。

5



## 総合科目－4

(2) 下線部 2 に関して、今日のドイツは連邦制の国家である。ドイツの隣国も、国内の言語対立から1993年に連邦制へと移行した。この国として正しいものを、次の①～④の中から一つ選びなさい。

6

- ① フランス
- ② ベルギー (Belgium)
- ③ ポーランド (Poland)
- ④ デンマーク (Denmark)

(3) 下線部 3 に関して、ドイツ連邦に関する記述として最も適当なものを、次の①～④の中から一つ選びなさい。

7

- ① 神聖ローマ帝国の後継国家であり、皇帝はハンガリー (Hungary) 国王を兼ねた。
- ② プロイセン (Prussia) 国王が、ドイツ連邦の皇帝を兼ねた。
- ③ 世界で初めて社会権を保障した憲法を持つ民主国家であった。
- ④ ナポレオン戦争 (Napoleonic Wars) 後のウィーン会議 (Congress of Vienna) の結果、新たに組織された。

(4) 下線部 4 に関して、欧州中央銀行に関する記述として最も適当なものを、次の①～④の中から一つ選びなさい。

8

- ① 財政赤字に陥ったEU (欧州連合) 域内の国に対して、短期的な融資をおこなっている。
- ② 欧州議会の勧告に基づき、EU加盟各国の課税制度の調整をおこなっている。
- ③ 物価の安定を目的とし、ユーロ圏の金融政策を策定している。
- ④ 経営危機に陥ったEU域内の金融機関に対して、直接融資をおこなう義務を負っている。

問3 「市場の失敗」と言われる事例の説明として最も適当なものを，次の①～④の中から一つ選びなさい。

9

- ① 環境汚染をともなう私企業の生産活動は，私的費用（経済的費用）が社会的費用を超過するので，社会的に最適な水準を下回る。
- ② 消費者が対価を払わずにサービスを受けることが容易にできる場合，企業が市場を通じて当該サービスを十分に提供することは難しい。
- ③ 労働集約的な産業では，少数の企業しか存続し得ないので，競争的な市場が成立しにくい。
- ④ 特許の取得などによる他社製品との差別化が難しい産業では，過当競争が生じ，利潤が低下する傾向がある。

問4 GNP（国民総生産）とGDP（国内総生産）との関係について表現した式として正しいものを，次の①～④の中から一つ選びなさい。

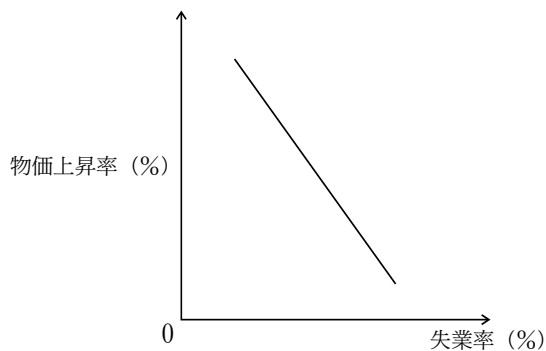
10

- ①  $GDP = GNP + \text{固定資本減耗}$
- ②  $GDP = GNP - \text{固定資本減耗}$
- ③  $GDP = GNP + \text{海外からの純所得}$
- ④  $GDP = GNP - \text{海外からの純所得}$

総合科目－6

問 5 下の文章は、次のグラフが示すような失業率と物価上昇率の負の関係を説明するものである。文章中の空欄 **a** ～ **c** に当てはまる語の組み合わせとして最も適当なものを、下の①～④の中から一つ選びなさい。

**11**



失業率の **a** は、労働力の不足を意味する。これは、供給面においては賃金の **b** から生産コストが高くなることを意味し、それにより物価上昇圧力となる。他方、需要面では所得の **c** を通じて需要が増大し、これが物価上昇圧力となる。

	a	b	c
①	上昇	低下	減少
②	低下	低下	増加
③	上昇	上昇	減少
④	低下	上昇	増加

問 6 日本の2014年度の一般会計予算における歳出の中で最も額の多い項目を、次の①～④の中から一つ選びなさい。 **12**

- ① 公共事業
- ② 国債費
- ③ 社会保障
- ④ 地方交付税交付金

問 7 外国為替市場でX国通貨がY国通貨に対して上昇しているとする。その要因として最も適当なものを、次の①～④の中から一つ選びなさい。 **13**

- ① X国の方がY国よりも、物価上昇率が低かった。
- ② X国よりもY国の景気がよくなった。
- ③ X国のY国に対する貿易収支が赤字になった。
- ④ X国の国内金利がY国の国内金利より低くなった。

問 8 1985年9月に先進5か国財務相・中央銀行総裁会議（G5）が開催され、行き過ぎたドル高を是正するため、各国が協調して行動することが確認された。このG5に参加していない国を、次の①～④の中から一つ選びなさい。 **14**

- ① イギリス
- ② フランス
- ③ 西ドイツ
- ④ イタリア (Italy)



## 総合科目－8

問9 次の文章A～Cは、日本とアメリカの間の貿易を巡る紛争について述べたものである。これらを年代順に並べ替えたものとして正しいものを、下の①～④の中から一つ選びなさい。

15

A：アメリカの自動車メーカーや自動車産業の労働組合は、アメリカ政府に対して急増する日本車輸入を制限するよう求めた。アメリカ政府は日本政府を通じて日本の自動車メーカーに対して輸出自主規制を求め、日本側もこれに応じて自主規制を表明した。

B：アメリカでは日本からの繊維輸入に制限をかけることを公約にした候補が大統領に就任し、日本側に輸出自主規制するよう強硬に求めた。そこで、日本政府は国内の反対を抑えアメリカ側の要求を受け入れ、日米繊維協定に調印した。

C：アメリカの半導体メーカーが対日ダンピングを提訴したことを受けて、アメリカ政府は日本政府に協議を求めた。その結果、日本市場の開放・日本政府によるダンピング事前防止などを主内容とする日米半導体協定が締結された。

- ① A → B → C
- ② A → C → B
- ③ B → A → C
- ④ B → C → A

問10 日本経済は1950年代中頃<sup>ごろ</sup>から1970年代初頭までの期間において高度経済成長を経験した。この期間の記述として最も適当なものを、次の①～④の中から一つ選びなさい。

16

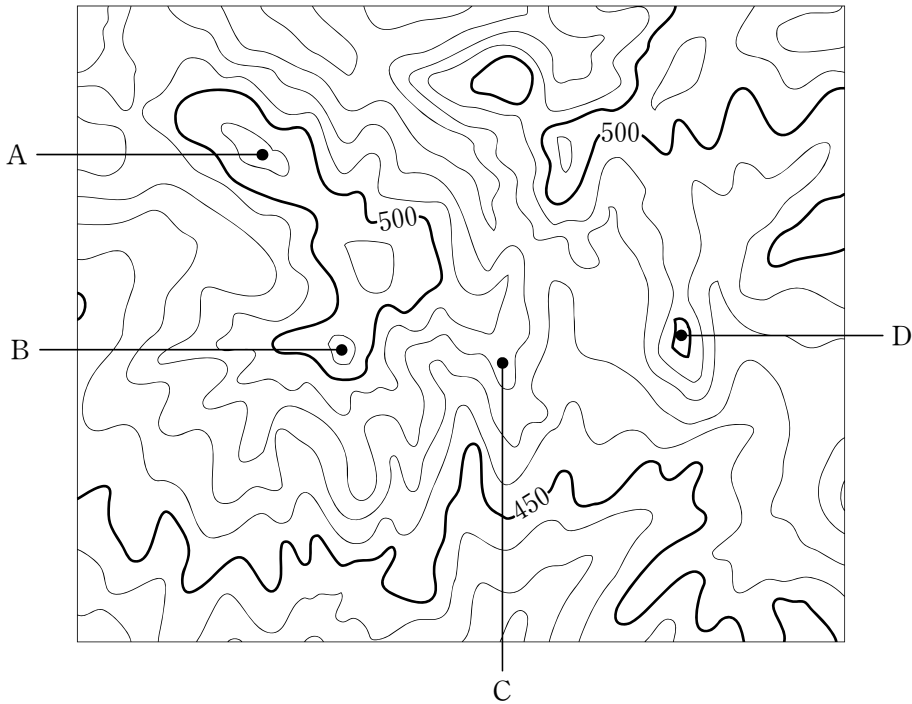
- ① 国内需要が拡大して景気が拡大したことを背景に、消費税が導入された。
- ② 東京オリンピックの開催に向けて、新幹線や高速道路の整備が進んだ。
- ③ 東京圏から地方への人口流出が進み、地域間の経済格差が縮小した。
- ④ 変動相場制のもとで円安ドル高となり、輸出主導で国内生産が増大した。

問11 次の文章を読み、文章中の空欄 **a** ～ **c** に当てはまる語の組み合わせとして最も適当なものを、下の①～④の中から一つ選びなさい。 **17**

ヨーロッパ (Europe) の社会保障制度はその特徴によって二つに大別できる。イギリスや北欧諸国では、国民の最低限度の生活の保障を目標とし、**a** を原則とするので、国民の租税負担率は **b** なる。他方、ドイツやフランスなど大陸諸国では、社会保険制度を軸に、**c** を原則としている。

	a	b	c
①	均一拠出・均一給付	高く	所得に応じた拠出, 拠出に応じた給付
②	均一拠出・均一給付	低く	所得に応じた拠出, 拠出に応じた給付
③	所得に応じた拠出, 拠出に応じた給付	高く	均一拠出・均一給付
④	所得に応じた拠出, 拠出に応じた給付	低く	均一拠出・均一給付

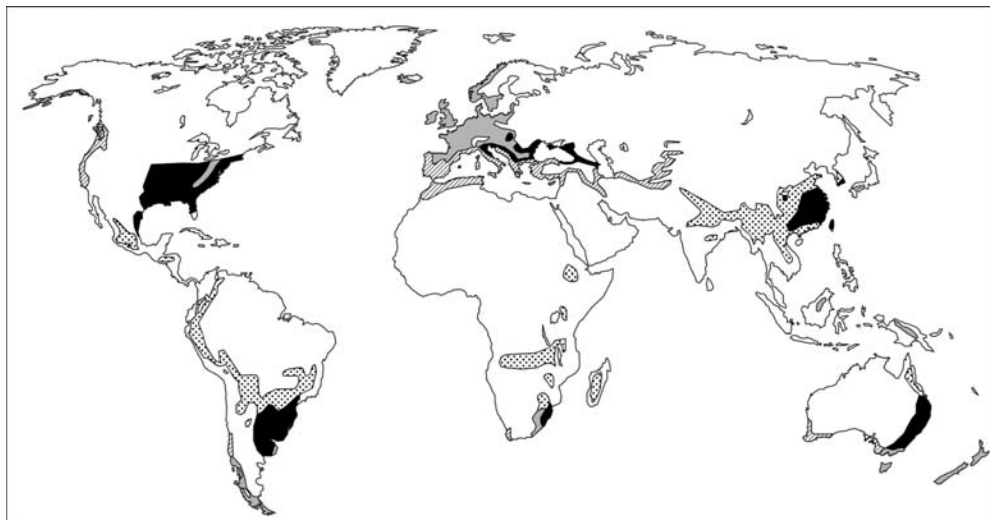
問14 次の地図は、等高線を用いて山地の地形を描いたものである。図中の点A～Dの海拔高度の説明として正しいものを、下の①～④の中から一つ選びなさい。

**20**

- ① AとBは同じ海拔高度である。
- ② CとDは同じ海拔高度である。
- ③ 最も海拔高度が高いのはCである。
- ④ 最も海拔高度が低いのはDである。

総合科目－14

問15 次の地図は、ケッペン (Wladimir Peter Köppen) の気候区分に従って温帯に見られる四つの気候 (温暖夏雨気候, 温暖湿潤気候, 西岸海洋性気候, 地中海性気候) の範囲を大まかに示したものである。ただし, 日本の部分については気候区の着色がなされていない。これらの地図に関する下の問い(1), (2)に答えなさい。



(1) 日本（北海道を除く）の気候は地図中のA～Dの中のどの気候区分に属するか。最も適当なものを、次の①～④の中から一つ選びなさい。

**21**

- ① A
- ② B
- ③ C
- ④ D

(2) 夏の降水量が少ないため、乾燥に強いオリーブやコルクガシなどの硬葉樹が見られる気候区分は地図中のA～Dのどれか。最も適当なものを、次の①～④の中から一つ選びなさい。

**22**

- ① A
- ② B
- ③ C
- ④ D

問16 「エジプトはナイルの賜物たまもの (Egypt is the gift of the Nile)」と言われるが、ナイル川流域にある国を、次の①～④の中から一つ選びなさい。

**23**

- ① アルジェリア (Algeria)
- ② ザンビア (Zambia)
- ③ エチオピア (Ethiopia)
- ④ ナイジェリア (Nigeria)

総合科目－16

問17 次の表は、海外在留日本人数（2001年，2006年，2011年）について，2011年において日本人数の多い上位7か国の推移を示したものである。表中のX国とY国はそれぞれこの国か。その組み合わせとして正しいものを，下の①～④の中から一つ選びなさい。

**24**

海外在留日本人数(人)

	2001	2006	2011
アメリカ	312,936	370,386	397,937
中国	53,357	125,417	140,931
X	41,309	59,285	74,679
イギリス	51,896	60,751	63,011
カナダ	34,446	44,158	56,891
Y	73,492	64,802	56,767
タイ	22,731	40,249	49,983

外務省ウェブサイトより作成

	X	Y
①	ドイツ	ブラジル
②	ドイツ	インドネシア
③	オーストラリア	ブラジル
④	オーストラリア	インドネシア

注) タイ (Thailand), ブラジル (Brazil), インドネシア (Indonesia)

問18 王権神授説を批判し，統治の起源や目的を論じる中で，自然権を守るために契約に基づく政府の樹立を主張し，名誉革命を擁護した著作は何か。その著者と著作の組み合わせとして正しいものを，次の①～④の中から一つ選びなさい。

25

	著者	著作
①	フーゴー・グロティウス	『戦争と平和の法』(1625年)
②	トマス・ホッブズ	『リヴァイアサン』(1651年)
③	ジョン・ロック	『統治二論』(1690年)
④	ジャン＝ジャック・ルソー	『社会契約論』(1762年)

注) フーゴー・グロティウス (Hugo Grotius), トマス・ホッブズ (Thomas Hobbes),  
ジョン・ロック (John Locke), ジャン＝ジャック・ルソー (Jean-Jacques Rousseau)

問19 アメリカの大統領制に関する説明として正しいものを，次の①～④の中から一つ選びなさい。

26

- ① 大統領は国民の直接選挙によって選ばれる。
- ② 大統領は議会の解散権を持つ。
- ③ 大統領は議会に対する法案提出権を持つ。
- ④ 大統領は議会が可決した法案に対する拒否権を持つ。

総合科目－18

問20 現代の日本は、普通選挙制度を採用しているが、国民が実際に国政選挙で選挙権を持つためには、備えていなければならない条件がある。その条件として正しいものを、次の①～④の中から一つ選びなさい。 **27**

- ① 日本国内に居住していること
- ② 満20歳以上であること
- ③ 納税者であること
- ④ 選挙人名簿への登録を申請していること

問21 日本の社会保障制度は四つの柱からなるとされる。これら四つの柱に該当しないものを、次の①～④の中から一つ選びなさい。 **28**

- ① 最低賃金
- ② 社会保険
- ③ 公的扶助
- ④ 公衆衛生



問22 日本と国際組織の関係に関する記述として最も適当なものを、次の①～④の中から一つ選びなさい。

**29**

- ① 日本は国際捕鯨委員会 (International Whaling Commission) に加盟している。
- ② 日本は国連安全保障理事会 (UN Security Council) の常任理事国である。
- ③ 日本はNAFTA (北米自由貿易協定) に加盟している。
- ④ 日本はASEAN (東南アジア諸国連合) に加盟している。

問23 1990年代初頭に勃発した湾岸戦争 (Gulf War) の説明として最も適当なものを、次の①～④の中から一つ選びなさい。

**30**

- ① 国連安全保障理事会の武力行使容認決議がないまま戦争が開始された。
- ② イラク (Iraq) は石油資源の確保などを目的にイスラエル (Israel) に侵攻し、併合を宣言した。
- ③ アメリカやイギリスに加えて、アラブ (Arab) 諸国も参加する多国籍軍が編成された。
- ④ 戦争は約2か月で終了し、停戦協定が結ばれてフセイン (Saddam Hussein) 体制は崩壊した。

問25 地球環境問題に関する次の文章を読み、下の問い(1), (2)に答えなさい。

1997年、京都で **a** が開催され、**b** 削減の数値目標を定めた京都議定書が採択された。その内容は、2008年から2012年までの間に先進国全体で1990年比5%以上の削減をおこなうが、途上国は削減義務を負わない、というものであった。しかし、排出量の多い **c** が批准せず、また経済発展が著しい中国とインドが対象国に含まれなかったため削減義務がない、などの課題を抱えていた。

- (1) 上の文章中の空欄 **a** ～ **c** に当てはまる語の組み合わせとして最も適当なものを、次の①～④の中から一つ選びなさい。 **32**

	a	b	c
①	国連環境開発会議	フロンガス	ロシア
②	国連環境開発会議	温室効果ガス	ロシア
③	気候変動枠組条約第3回締約国会議	フロンガス	アメリカ
④	気候変動枠組条約第3回締約国会議	温室効果ガス	アメリカ

注) 気候変動枠組条約第3回締約国会議 (COP3)

- (2) 自然環境保護に関する国際条約の名称とその内容の組み合わせとして正しいものを、次の①～④の中から一つ選びなさい。 **33**

	名称	内容
①	バーゼル条約	絶滅の恐れのある動植物の国際取引の禁止
②	ラムサール条約	水鳥の生息地である湿地の保全・保護
③	ワシントン条約	オゾン層の保護
④	ウィーン条約	有害廃棄物の国境を越える移動・処分に対する規制

注) バーゼル条約 (Basel Convention), ラムサール条約 (Ramsar Convention),  
ワシントン条約 (Washington Convention), ウィーン条約 (Vienna Convention)

問26 フランス革命直前のフランスの社会や政治機構に関する記述として最も適切なものを、次の①～④の中から一つ選びなさい。 **34**

- ① 一部の階級が特権を享受する身分制社会であった。
- ② 国王の権限が制限された立憲君主制であった。
- ③ 国民主権が憲法に明記された共和制であった。
- ④ 奴隷労働に支えられた大農園を特徴とする社会であった。

問27 香港 (Hong Kong) は1997年、イギリスから中国に返還された。香港がイギリスの統治下に置かれるきっかけになった出来事として正しいものを、次の①～④の中から一つ選びなさい。 **35**

- ① アヘン戦争 (First Opium War)
- ② 太平天国の乱 (Taiping Rebellion)
- ③ 義和団事件 (Boxer Rebellion)
- ④ 第一次世界大戦

問28 日露戦争 (Russo-Japanese War) 終結後の日本と諸外国との関係に関する記述として最も適切なものを、次の①～④の中から一つ選びなさい。 **36**

- ① ドイツは、フランスとロシアの軍事力に対抗するため、日本と軍事同盟を結んだ。
- ② ロシアとは講和条約の締結後も満州 (Manchuria) において武力衝突が続いた。
- ③ イギリスはロシアの脅威が取り除かれたと判断したため、日英同盟の解消を申し出た。
- ④ 門戸開放を唱えるアメリカでは日本人移民排斥運動が起こるなど、日本とアメリカの関係が悪化した。

問29 第二次世界大戦後のアフリカ（Africa）に関する記述として最も適当なものを、次の①～④の中から一つ選びなさい。 **37**

- ① 1950年代に先進国から資本が流入した南アフリカ（South Africa）が、アフリカの経済成長を牽引した。
- ② 1960年に多くの独立国が誕生して、この年は「アフリカの年」と呼ばれた。
- ③ ほとんどの国が、1970年代に開発独裁と呼ばれる体制の下で経済発展を遂げた。
- ④ 冷戦の影響で、北部の社会主義国と南部の資本主義国の間で対立が続いた。

問30 第二次世界大戦後の日本に関する出来事A～Dを年代順に並べたものとして正しいものを、下の①～④の中から一つ選びなさい。 **38**

A：沖縄返還協定調印

B：経済協力開発機構（OECD）加盟

C：日本国憲法公布

D：サンフランシスコ平和条約（San Francisco Peace Treaty）調印

- ① A → C → B → D
- ② B → C → A → D
- ③ C → D → B → A
- ④ D → A → C → B

総合科目の問題はこれで終わりです。解答欄の **39** ～ **60** はマークしないでください。

この問題冊子を持ち帰ることはできません。