

総合科目

（80分）

I 試験全体に関する注意

1. 係員の許可なしに、部屋の外に出ることはできません。
2. この問題冊子を持ち帰ることはできません。

II 問題冊子に関する注意

1. 試験開始の合図があるまで、この問題冊子の中を見ないでください。
2. 試験開始の合図があったら、下の欄に、受験番号と名前を、受験票と同じように記入してください。
3. この問題冊子は、21ページあります。
4. 足りないページがあったら、手をあげて知らせてください。
5. 問題冊子には、メモや計算などを書いてもいいです。

III 解答用紙に関する注意

1. 解答は、解答用紙に鉛筆（HB）で記入してください。
2. 各問題には、その解答を記入する行の番号 **1**，**2**，**3**，…がついています。解答は、解答用紙（マークシート）の対応する解答欄にマークしてください。
3. 解答用紙に書いてある注意事項も必ず読んでください。

※ 試験開始の合図があったら、必ず受験番号と名前を記入してください。

受験番号			*				*						
名前													

問1 次の会話を読み、下の問い(1)～(4)に答えなさい。

学生：先日テレビで、中東 (Middle East) などからの難民が 1ハンガリー (Hungary) のブダペスト (Budapest) 東駅に大勢集まり、駅周辺は一時混乱したというニュースを見ました。なぜこのような事態になったのでしょうか。

先生：難民の多くはシリア (Syria) 出身だと言われています。2010年末から始まった 2「アラブの春」 (Arab Spring) の影響を受けて、シリアでは内戦が生じたため、多数の国民が国外へ逃れていきました。特に、経由地のハンガリーでは列車で国境を越えて 3ドイツ (Germany) や北欧諸国 (Nordic countries) へ向かおうとする難民が殺到したことで混乱が起こり、警官隊がブダペスト東駅を一時的に封鎖したようです。

学生：そうだったのですか。難民を受け入れる側はどのような対応をとっているのでしょうか。

先生：ヨーロッパ (Europe) 各国への難民申請は100万人を超えるとの予想もあります。4EUではそれらの難民を各EU加盟国で分担する案などを中心に対応が協議されています。

総合科目-2

- (1) 下線部 1 に関して、ハンガリーの位置として正しいものを、次の地図中の①～④の中から一つ選びなさい。

1



- (2) 下線部 2 に関して、「アラブの春」に関する記述として最も適切なものを、次の①～④の中から一つ選びなさい。

2

- ① 経済格差や独裁に対する民衆の不満の高まりを背景とする民主化運動である。
- ② イスラームの教えに即した政治体制を目指そうとするイスラーム革命である。
- ③ 共産党支配に対して経済活動の自由を求める自由化運動である。
- ④ パレスチナ (Palestine) 国家の樹立を目指す汎アラブ (Pan-Arab) 運動である。

(3) 下線部 3 に関して，ヨーロッパにおけるドイツ経済に関する記述として最も適当なものを，次の①～④の中から一つ選びなさい。

3

- ① 豊かな土地と温暖な気候に恵まれたヨーロッパ最大の農業大国である。
- ② 高品質な工業製品と共通通貨に支えられた輸出大国である。
- ③ 充実した社会保障の下，出生率が高く，生産年齢人口比率が上昇している。
- ④ 原油や天然ガスなど豊富な天然資源と高騰する資源価格で潤う資源大国である。

(4) 下線部 4 に関して，EUに関する記述として最も適当なものを，次の①～④の中から一つ選びなさい。

4

- ① 1948年にベルギー (Belgium) やオランダ (Netherlands) を中心に設立された，資本主義国間の経済協力機構であり，旧社会主義国は参加していない。
- ② ソ連 (USSR) を中心とする共産圏 (東側諸国) に対抗するための軍事同盟であり，北大西洋条約により1949年に設立された。
- ③ 1960年にイギリス (UK) を中心に設立された自由貿易連合であり，域外に対する共通関税は設定されていない。
- ④ 国家主権の一部を委譲された政治・経済統合体であり，マーストリヒト (Maastricht) 条約により1993年に発足した。

総合科目－4

問2 次の会話を読み、下の問い(1)～(4)に答えなさい。

A：2015年のラグビー・ワールドカップでは、1 ニュージーランド (New Zealand) と 2 オーストラリア (Australia) の間で決勝がおこなわれ、ニュージーランドが勝ちましたね。

B：準決勝に進出したのは他にも 3 南アフリカ (South Africa)、アルゼンチン (Argentina) と、南半球のチームばかりでした。

A：次回のワールドカップの開催国である日本は、その南アフリカや 4 サモア (Samoa) にも勝ちましたね。

B：そうですね。次回の大会が楽しみです。

(1) 下線部1に関して、ニュージーランドに関する記述として最も適当なものを、次の①～④の中から一つ選びなさい。

5

- ① 製造業が盛んであり、産業別の就業者割合では、第二次産業が最大である。
- ② 原子力発電の導入を進め、原子力が最大のエネルギー源となっている。
- ③ 輸出品目の中で最大の割合を占めるのは酪農製品である。
- ④ オーストラリアと共通の通貨を用いており、経済的には同国と一体化している。

(2) 下線部2に関して、オーストラリアの政治制度に関する記述として最も適当なものを、次の①～④の中から一つ選びなさい。

6

- ① 外交を大統領が担当し、内政を首相が担当する半大統領制が採用されている。
- ② 儀礼的な存在の大統領の下、内閣が議会に責任を負っている。
- ③ 国民の直接選挙で選出される大統領を元首とする共和制国家である。
- ④ 議院内閣制が採用されており、下院で過半数を獲得した政党あるいは政党連合の党首が首相となる。

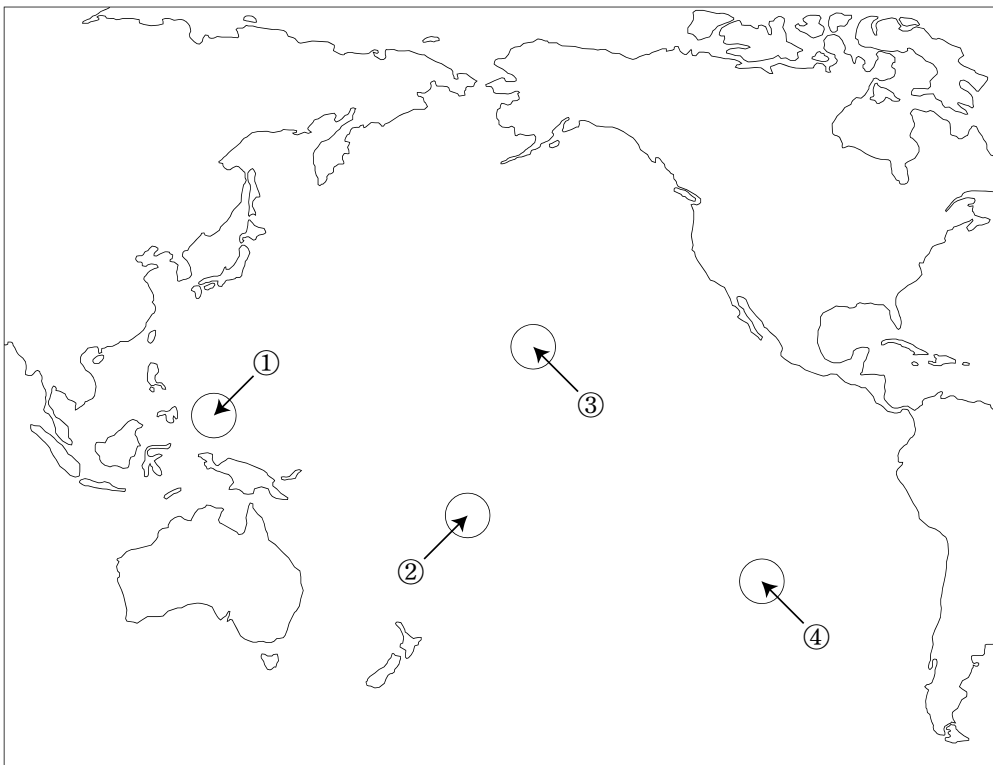
- (3) 下線部 3 に関して，南アフリカチームは1995年のラグビー・ワールドカップで初めて優勝した。そのときに開催国南アフリカの大統領として優勝カップを手渡した人物の名前として正しいものを，次の①～④の中から一つ選びなさい。

7

- ① ナセル (Gamal Abdel Nasser)
- ② サダト (Anwar Sadat)
- ③ マンデラ (Nelson Mandela)
- ④ エンクルマ (Francis Nwia Kofia Nkrumah)

- (4) 下線部 4 に関して，サモアのある場所として正しいものを，次の地図中の①～④の中から一つ選びなさい。

8



総合科目－6

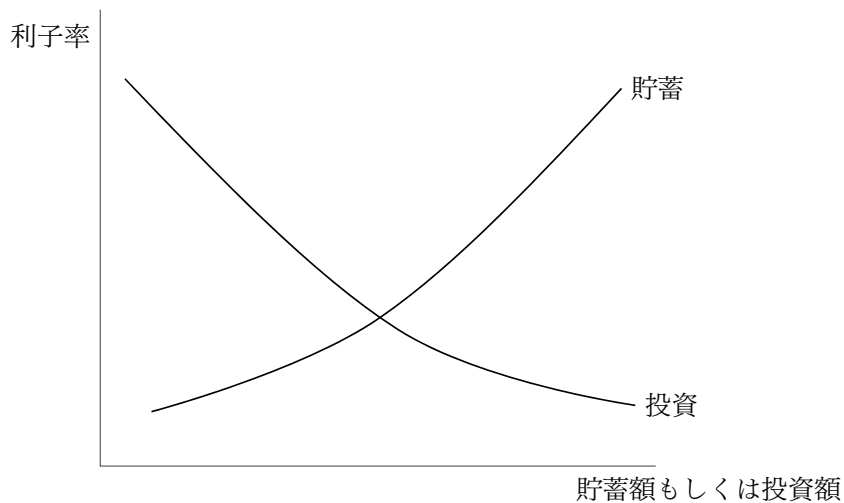
問3 国際分業の利益と自由貿易の意義を説明し、比較生産費説を唱えたイギリスの経済学者リカード（David Ricardo）の著書の名前を、次の①～④の中から一つ選びなさい。

9

- ① 『経済学および課税の原理』
- ② 『諸国民の富』
- ③ 『経済学の国民的体系』
- ④ 『雇用・利子および貨幣の一般理論』

問4 貸付資金市場においては一般の財市場と同様に、右上がりの供給曲線と右下がりの需要曲線が交わる点で価格が定まり、その価格によって需給が均衡すると考えられる。その場合の価格を「利率」、供給を「貯蓄」、需要を「投資」と置きかえて考えれば、当該市場での需給の均衡とは「貯蓄と投資とが均衡した状態」を意味する。このような貸付資金市場の説明として適当ではないものを、下の①～④の中から一つ選びなさい。

10



- ① 政府が利率を均衡水準よりも低く抑えれば、計画された投資額の減少を招く。
- ② 貯蓄超過は、余剰な貸付資金が借入れ先を求めることで、利率を下落させる。
- ③ 投資に対する予想収益が高まり投資が活発になれば、均衡利率は上昇する。
- ④ 利率収入への課税が強化され貯蓄意欲が減退すると、実現する投資額も減少する。

総合科目－8

問5 家計の経済活動に関する記述として最も適当なものを、次の①～④の中から一つ選びなさい。

11

- ① 経済が好況になると家計の貯蓄が増加し、国全体の消費支出は減少する。
- ② 所得税が増税されると、家計の消費支出は増加する。
- ③ 一般に所得が多いほど、家計の消費支出に占める食料費の割合は低下する。
- ④ 家計が保有する株式や不動産の価値が上昇すると、家計の消費支出は減少する。

問6 株式に関する記述として最も適当なものを、次の①～④の中から一つ選びなさい。

12

- ① 株式を保有できるのは個人に限られており、法人は株式を保有できない。
- ② 株価は企業の業績とは無関係に、政府の政策によって決まる。
- ③ 企業の業績が悪い場合、株主に配当が支払われないこともある。
- ④ 株式を保有する投資家を株主と呼び、株主総会に出席する義務を負っている。

問7 デフレ・スパイラルに関する説明として最も適当なものを、次の①～④の中から一つ選びなさい。

13

- ① 不況であるにもかかわらず物価が持続的に上昇し、不況が深刻化する現象
- ② 物価の上昇と下落とが約1年周期で繰り返される現象
- ③ 金融引き締め政策をおこなっているにもかかわらず、景気が好転せず、物価の下落が止まらない現象
- ④ 物価水準の低下と実体経済の縮小とが相互に作用して、不況の悪循環をもたらす現象

問 8 為替相場の変動は、企業の収益に影響を与える。日本のある企業が、来期のユーロ圏での業績予想に関して、現地での売り上げが5億ユーロ、想定為替レートが1ユーロ=120円と発表した。1年後の決算発表では売り上げは予想と同じであったが、為替レートが1ユーロ=140円だった。円に換算した場合、当初の予想と比べて実際の業績はどうなったか。正しいものを、次の①～④の中から一つ選びなさい。 **14**

- ① 50億円の増加
- ② 100億円の増加
- ③ 50億円の減少
- ④ 100億円の減少

問 9 1990年代の日本の金融市場に関する出来事として最も適当なものを、次の①～④の中から一つ選びなさい。 **15**

- ① 新たに公正取引委員会が設立され、金融機関に対する検査・監督が強化された。
- ② 不良債権問題や金融自由化による混乱に対応するため、護送船団方式と呼ばれる金融行政がとられた。
- ③ アメリカ (USA) のサブプライムローン危機 (subprime mortgage crisis) に端を発した金融危機により、金融機関の破綻が相次いだ。
- ④ フリー (free) ・フェア (fair) ・グローバル (global) という包括的な理念のもと、日本版金融ビッグバンが開始された。

総合科目－10

問10 APEC（アジア太平洋経済協力）に参加している国として正しいものを、次の

①～④の中から一つ選びなさい。

16

- ① チリ（Chile）
- ② アルゼンチン
- ③ ブラジル（Brazil）
- ④ ウルグアイ（Uruguay）

問11

試験問題として成立していますが、
著作権上の都合により本問題のウェブ掲載はいたしません。

問12

試験問題として成立していますが、
著作権上の都合により本問題のウェブ掲載はいたしません。

問13 イギリスでは1942年に公表されたベバリッジ報告（Beveridge Report）に基づき、第二次世界大戦後の社会保障制度が整備された。そうした社会保障制度を端的に表す標語として最も適当なものを、次の①～④の中から一つ選びなさい。

19

- ① アメとムチの政策
- ② 第三の道
- ③ バリアフリー（barrier-free）社会
- ④ ゆりかごから墓場まで

問14 次の地図中に矢印で示された島は、複数の国が分割して領有している。その島を領有する国の組み合わせとして正しいものを、下の①～④の中から一つ選びなさい。

20



	島名	国名
①	ボルネオ島	ベトナム, フィリピン
②	ニューギニア島	インドネシア, オーストラリア
③	イスパニョーラ島	ハイチ, ドミニカ共和国
④	アイルランド島	アイルランド, アイスランド

注) ボルネオ (Borneo), ベトナム (Viet Nam), フィリピン (Philippines),
 ニューギニア (New Guinea), インドネシア (Indonesia), イスパニョーラ (Hispaniola),
 ハイチ (Haiti), ドミニカ共和国 (Dominican Republic), アイルランド (Ireland),
 アイスランド (Iceland)

問15 次の文章を読み，下の問い(1)，(2)に答えなさい。

日本の南西部に位置する九州地方には，さまざまな観光地がある。九州中央部の阿蘇山もその一つで，世界有数の大きさを誇る [a] や噴煙をあげる火山の姿が観光客を惹きつけている。また，長崎半島の西方に浮かぶ通称「軍艦島」が2015年に世界遺産に登録された。この島は，かつて日本のエネルギーを支えた [b] の生産で栄えていたが，エネルギー政策の転換によって現在では無人島となっている。

(1) 上の文章中の空欄 [a] に当てはまる地形の名前として正しいものを，次の①～④の中から一つ選びなさい。 **21**

- ① カルデラ (caldera)
- ② カール (cirque)
- ③ フィヨルド (fjord)
- ④ カルスト (karst)

(2) 上の文章中の空欄 [b] に当てはまる資源の名前として正しいものを，次の①～④の中から一つ選びなさい。 **22**

- ① 薪まき
- ② 石炭
- ③ 石油
- ④ 天然ガス

総合科目－14

問16 次の表は、2014年末における日本からの直接投資残高と日本への直接投資残高の上位5か国とその額を示したものである。表中のX国として正しいものを、下の①～④の中から一つ選びなさい。

23

単位：億円

日本からの直接投資残高		日本への直接投資残高	
国名	金額	国名	金額
アメリカ	455,174	アメリカ	62,446
中国	124,579	オランダ	27,765
オランダ	112,374	フランス	26,721
X	92,626	シンガポール	16,221
オーストラリア	73,170	X	15,122

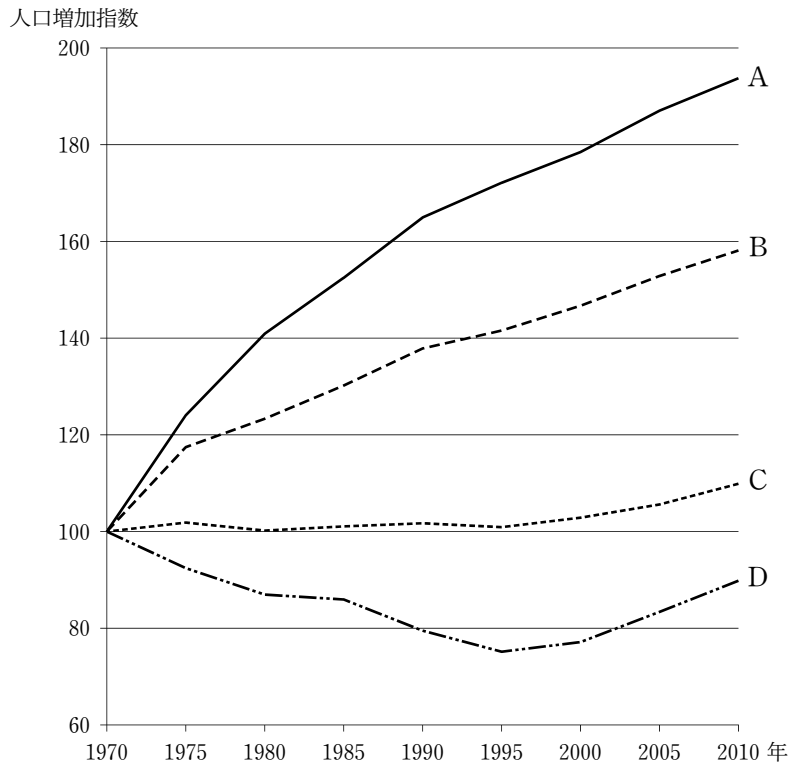
日本銀行ウェブサイトより作成

注) 中国 (China), シンガポール (Singapore)

- ① イギリス
- ② インドネシア
- ③ ロシア (Russia)
- ④ 韓国 (South Korea)

問17 次のグラフは、東京都の人口に関して1970年の人口を100としてその後の推移を示したものである。グラフ中のA～Dは都心から10km未満の地域、10km以上20km未満の地域、20km以上30km未満の地域、30km以上40km未満の地域のいずれかを示している。都心から10km未満の地域を示しているものを、下の①～④の中から一つ選びなさい。

24



東京都ウェブサイトより作成

- ① A
- ② B
- ③ C
- ④ D

総合科目－16

問18 ドイツの社会学者マックス・ウェーバー (Max Weber) は、支配とは人びとが権力に正当性を認めることによって成り立つものとした上で、正当性のタイプによって支配を三つに分類した。その中で、「支配者が持つ超人的な能力や資質に基づく支配」を示すものとして正しいものを、次の①～④の中から一つ選びなさい。 **25**

- ① 武力的支配
- ② 伝統的支配
- ③ 合法的支配
- ④ カリスマ (charisma) 的支配

問19 現在のヨーロッパ諸国で大統領を国家元首としている国を、次の①～④の中から一つ選びなさい。 **26**

- ① フランス
- ② オランダ
- ③ スペイン (Spain)
- ④ スウェーデン (Sweden)

問20 日本国憲法は立法、行政、司法の三権の分立による抑制と均衡を定めている。それに関する記述として最も適当なものを、次の①～④の中から一つ選びなさい。 **27**

- ① 裁判官に対する弾劾裁判所は国会が設置する。
- ② 最高裁判所長官は国会が指名する。
- ③ 内閣不信任決議権は参議院のみにある。
- ④ 最高裁判所は内閣総理大臣の罷免権を有する。

問21 政党制に関する説明として最も適当なものを，次の①～④の中から一つ選びなさい。

28

- ① 多党制の長所は，政権が安定するので，政策の継続性が保たれる点である。
- ② 二大政党制の長所は，政権が安定しやすく，政治責任の所在がはっきりしている点である。
- ③ 多党制の短所は，政権が長期化するので，政権の腐敗を防止できない点である。
- ④ 二大政党制の短所は，政権政党の交代が頻繁に起こり，政治責任の所在がはっきりしない点である。

問22 日本国憲法は第21条の中で検閲を禁止している。その理由として最も適当なものを，次の①～④の中から一つ選びなさい。

29

- ① 人身の自由の保障
- ② 国家機密の守秘
- ③ 表現の自由の保障
- ④ 経済活動の自由の保障

問23 1989年に冷戦の終結を宣言した，アメリカとソ連の首脳会談がおこなわれた場所として正しいものを，次の①～④の中から一つ選びなさい。

30

- ① ポツダム (Potsdam)
- ② マルタ (Malta)
- ③ ヤルタ (Yalta)
- ④ ミュンヘン (Munich)

総合科目－18

問24 カナダ (Canada) の東部に位置するケベック (Quebec) 州が唯一の公用語として定めている言語を、次の①～④の中から一つ選びなさい。 **31**

- ① 英語 (English)
- ② フランス語 (French)
- ③ ドイツ語 (German)
- ④ スペイン語 (Spanish)

問25 第二次世界大戦後の「人口爆発」と呼ばれる現象に関する記述として最も適当なものを、次の①～④の中から一つ選びなさい。 **32**

- ① 人口爆発の過程で人口動態は少産少死型から多産多死型へと転換する。
- ② 人口増加の割合は途上国よりも先進国の方が大きい。
- ③ 労働人口が急激に増加する結果、貧困層が減少する。
- ④ 医療の進歩や公衆衛生の改善による死亡率の低下が主要な要因である。

問26 環境と開発に関する世界委員会 (WCED) が1987年に作成した報告書『我ら共有の未来 (Our Common Future)』では、「将来の世代の欲求を満たしつつ、現在の世代の欲求も満足させるような開発」が提唱されている。この理念を表す言葉として最も適当なものを、次の①～④の中から一つ選びなさい。 **33**

- ① 経済成長
- ② 技術開発
- ③ 持続可能な開発
- ④ グローバル・コモンズ (global commons)

問27 1804年にフランスの皇帝に即位したナポレオン (Napoleon Bonaparte) に関する記述として最も適当なものを、次の①～④の中から一つ選びなさい。 34

- ① カトリックの保護や男女の平等を定めたナポレオン法典を公布した。
- ② イギリスとの通商を禁ずる大陸封鎖令を大陸諸国に発した。
- ③ モスクワ (Moscow) を攻略し、ロシア帝国全土を支配下に置いた。
- ④ ワーテルローの戦い (Battle of Waterloo) でスペインに敗れ、退位した。

問28 19世紀末から第一次世界大戦にかけてのアメリカの対外関係に関する記述として最も適当なものを、次の①～④の中から一つ選びなさい。 35

- ① キューバ (Cuba) の独立運動をきっかけにスペインと戦争し、フィリピンなどを獲得した。
- ② ラテンアメリカ (Latin America) 諸国に対して善隣外交と呼ばれる友好的な政策を展開した。
- ③ アフリカ (Africa) の植民地化を進めた結果、イギリスとの間でファショダ事件 (Fashoda Incident) が起こった。
- ④ 中国市場での権益を守るため、他の列強を誘い、日本が日清戦争 (Sino-Japanese War) で獲得した領土の中国への返還を求めた。

問29 江戸時代末期，日本は「鎖国」から「開国」へと外交・通商政策を転換した。そうした転換とその後の欧米列強との貿易に関する記述として最も適当なものを，次の①～④の中から一つ選びなさい。

36

- ① 貿易が始まった当初は，日本の輸出超過となり，国内の物価が上昇した。
- ② 開港されたのは長崎だけであったため，貿易高はほぼ変わらなかった。
- ③ 他の列強に先駆けて，南下政策を進めるロシアと通商条約を締結した。
- ④ 欧米列強との間で結ばれた条約では，互いに関税を免除することが定められた。

問30 冷戦期のアジア（Asia）における次の出来事A～Dを年代順に並べたものとして正しいものを，下の①～④の中から一つ選びなさい。

37

A：ニクソン（Richard Nixon）大統領の中国訪問

B：朝鮮戦争（Korean War）の休戦成立

C：ベトナム戦争の終結

D：ASEANの設立

- ① A → B → C → D
- ② B → D → A → C
- ③ C → D → B → A
- ④ D → B → C → A

問31 冷戦終結後に発生した地域紛争や民族対立に関する記述として最も適当なものを、次の①～④の中から一つ選びなさい。

38

- ① ソマリア (Somalia) では人種隔離政策をめぐる内戦が発生し、国連 (UN) PKO部隊が派遣された。
- ② 石油資源を求めてイラク (Iraq) に侵攻したイラン (Iran) は、多国籍軍による空爆を受けた。
- ③ コソボ (Kosovo) 紛争では、国連の決議がないままNATO軍による空爆がおこなわれた。
- ④ チェコスロバキア (Czechoslovakia) では民族間の武力衝突が発生し、チェコ (Czech Republic) とスロバキア (Slovakia) に分離した。

総合科目の問題はこれで終わりです。解答欄の **39** ～ **60** はマークしないでください。

この問題冊子を持ち帰ることはできません。

