

# 総合科目

(80分)

## I 試験全体に関する注意

1. 係員の許可なしに、部屋の外に出ることはできません。
2. この問題冊子を持ち帰ることはできません。

## II 問題冊子に関する注意

1. 試験開始の合図があるまで、この問題冊子の中を見ないでください。
2. 試験開始の合図があったら、下の欄に、受験番号と名前を、受験票と同じように記入してください。
3. この問題冊子は、23ページあります。
4. 足りないページがあったら、手をあげて知らせてください。
5. 問題冊子には、メモや計算などを書いてもいいです。

## III 解答用紙に関する注意

1. 解答は、解答用紙に鉛筆（HB）で記入してください。
2. 各問題には、その解答を記入する行の番号 **1**，**2**，**3**，…がついています。解答は、解答用紙（マークシート）の対応する解答欄にマークしてください。
3. 解答用紙に書いてある注意事項も必ず読んでください。

※ 試験開始の合図があったら、必ず受験番号と名前を記入してください。

|      |  |  |   |  |  |  |   |  |  |  |  |  |  |
|------|--|--|---|--|--|--|---|--|--|--|--|--|--|
| 受験番号 |  |  | * |  |  |  | * |  |  |  |  |  |  |
| 名前   |  |  |   |  |  |  |   |  |  |  |  |  |  |

問1 次の文章を読み、下の問い(1)~(4)に答えなさい。

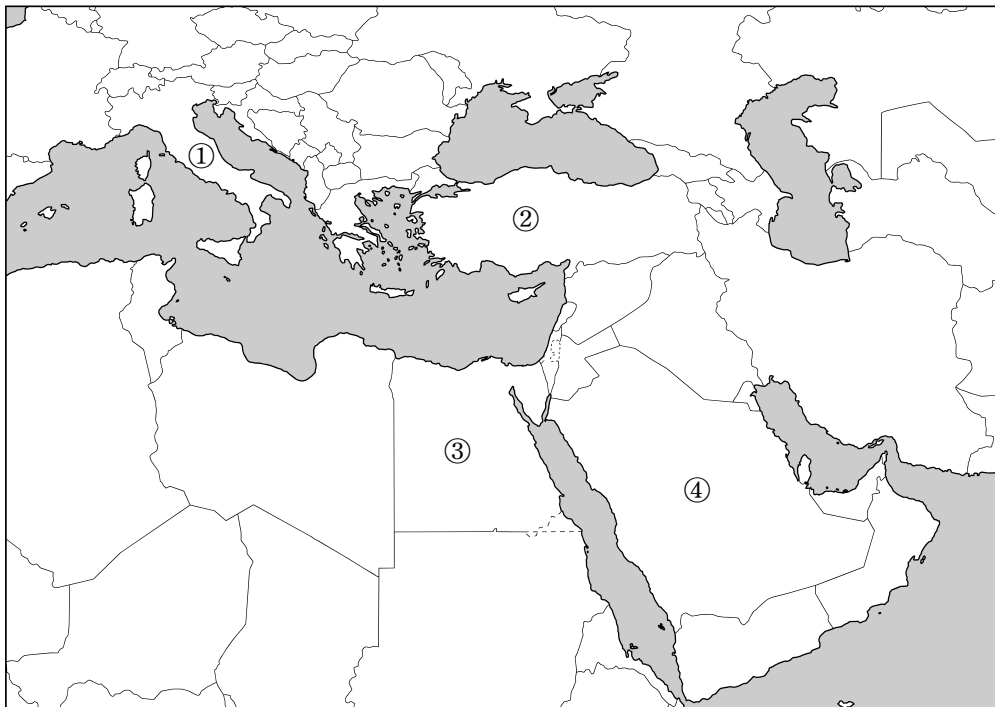
1トルコ共和国 (Republic of Turkey) は、ヨーロッパ (Europe) とアジア (Asia) の二つの地域に領土を有する国で、21923年、トルコ建国の父と言われるケマル・アタテュルク (Mustafa Kemal Atatürk) を指導者として成立した。

現在のトルコは、イスラームと民主主義の両立を果たし、「イスラーム民主主義の優等生」と呼ばれている。また、3比較的安定した経済発展を遂げてきた。

一方、外交面では、4NATO (北大西洋条約機構) に加盟しているが、EU (欧州連合) への加盟は実現していない。

- (1) 下線部1に関して、トルコの位置として正しいものを、次の地図中の①~④の中から一つ選びなさい。

1



## 総合科目－2

- (2) 下線部 2 に関して、1923年は日本では関東大震災が起こった年である。この時期に生じた歴史的出来事を年代順に並べたものとして正しいものを、次の①～④の中から一つ選びなさい。

**2**

- ① 第一次世界大戦の勃発<sup>ぼっぱつ</sup> → ロシア革命 → 関東大震災 → 世界恐慌の発生  
② ロシア革命 → 第一次世界大戦の勃発 → 世界恐慌の発生 → 関東大震災  
③ ロシア革命 → 第一次世界大戦の勃発 → 関東大震災 → 世界恐慌の発生  
④ 第一次世界大戦の勃発 → 世界恐慌の発生 → ロシア革命 → 関東大震災

注) ロシア革命 (Russian Revolution), 世界恐慌 (Great Depression)

- (3) 下線部 3 に関して、次の表は、日本、トルコ、アラブ首長国連邦 (UAE)、中国 (China) における購買力平価に基づく一人当たりGDP (国内総生産) の推移を示したものである。トルコに当てはまるものを、下の①～④の中から一つ選びなさい。

**3**

単位：ドル

|   | 1990年  | 1995年  | 2000年  | 2005年  | 2010年  |
|---|--------|--------|--------|--------|--------|
| A | 74,017 | 77,467 | 84,975 | 84,338 | 56,245 |
| B | 19,230 | 22,922 | 25,938 | 30,441 | 33,741 |
| C | 4,439  | 5,411  | 9,321  | 11,512 | 16,166 |
| D | 980    | 1,860  | 2,915  | 5,053  | 9,239  |

世界銀行ウェブサイトより作成

- ① A  
② B  
③ C  
④ D

(4) 下線部 4 に関して，2016年現在NATOに加盟していない国を，次の①～④の中から一つ選びなさい。

4

- ① ギリシャ (Greece)
- ② フランス (France)
- ③ アメリカ (USA)
- ④ スイス (Switzerland)

## 総合科目－4

問 2 次の文章を読み、下の問い(1)～(4)に答えなさい。

メキシコ (Mexico) は、北米大陸に位置する 1 連邦制の共和国 であり、 2 人口が1億人を超える国 の一つである。経済面では隣国アメリカとの関係が深く、 3 NAFTA (北米自由貿易協定) の発効以降、アメリカとの関係がさらに深まっている。日本とはスペイン (Spain) の植民地時代から400年以上の交流の歴史があり、日本がアジア以外の国と 4 平等条約 を締結した最初の相手国である。

(1) 下線部 1 に関して、メキシコと同様に連邦制をとる共和国を、次の①～④の中から一つ選びなさい。

5

- ① サウジアラビア (Saudi Arabia)
- ② ドイツ (Germany)
- ③ シンガポール (Singapore)
- ④ ニュージーランド (New Zealand)

(2) 下線部 2 に関して、人口が1億人を超える国を、次の①～④の中から一つ選びなさい。

6

- ① ブラジル (Brazil)
- ② フランス
- ③ エジプト (Egypt)
- ④ アルゼンチン (Argentina)

(3) 下線部 3 に関して，NAFTAに関する記述として最も適当なものを，次の①～④の中から一つ選びなさい。

7

- ① 対外共通関税の導入により，ブロック経済化を目指したものである。
- ② 関税の段階的撤廃や非関税障壁の除去を目指したものである。
- ③ 労働者の移動の自由や共通農業政策の実施を目指したものである。
- ④ 共通通貨の導入により，域内の金融政策の一元化を目指したものである。

(4) 下線部 4 に関して，日本はメキシコと平等条約を締結する前に，列強と不平等条約を締結していた。そうした不平等条約に関する記述として最も適当なものを，次の①～④の中から一つ選びなさい。

8

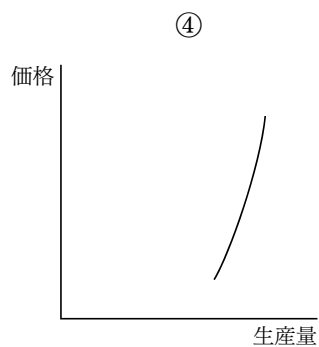
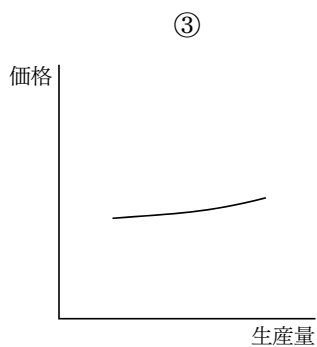
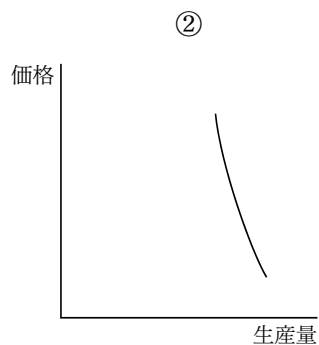
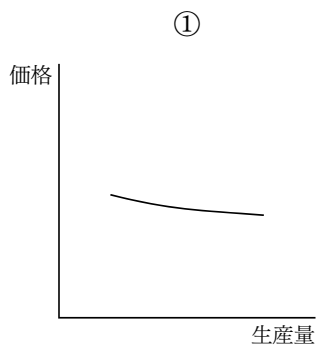
- ① 日本と条約を結んだ国の言語も，日本の公用語として認めるものであった。
- ② 日本の最高裁判所の裁判官に外国人を任命しなかった。
- ③ 日本は関税自主権を持たず，相手国に領事裁判権を認めるものであった。
- ④ 外国人が日本に来ることは認められたが，日本人が相手国に行くことは認められなかった。

総合科目-6

問3 次の記述を説明するグラフとして最も適当なものを、下の①～④の中から一つ選びなさい。

9

農作物は、作付け量を簡単に変更できないため、価格が上昇しても生産量を大きく増やすことはできない。



問4 農家は翌年用のタネイモ（原材料）分を除き，今年収穫したジャガイモすべてを5,000円で加工会社に販売した。加工会社はこれをすべてポテトチップスに加工し，小売店に12,000円で販売した。小売店はこれを今年中に消費者にすべて販売して，その売り上げが18,000円であった。上の一連の取引で，今年のGDPに計上されるのはいくらか。正しいものを，次の①～④の中から一つ選びなさい。

**10**

- ① 5,000円
- ② 12,000円
- ③ 18,000円
- ④ 35,000円

問5 一般的に物価は好景気の時に上昇しやすいが，不景気であるにもかかわらず物価が上昇することがある。この現象の名称として正しいものを，次の①～④の中から一つ選びなさい。

**11**

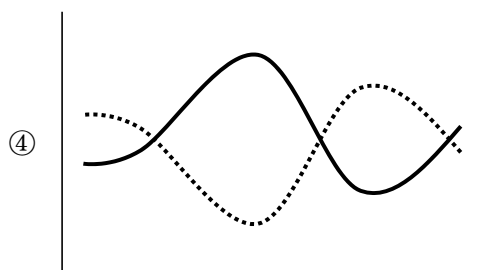

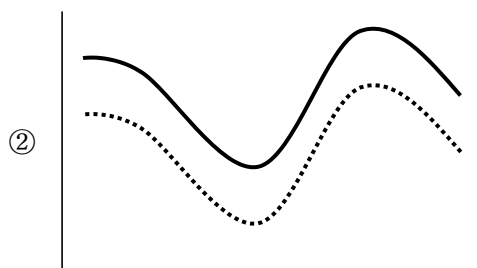
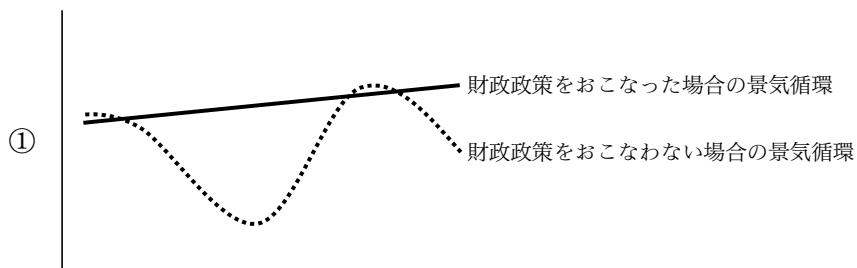
- ① ハイパー・インフレーション (hyperinflation)
- ② スタグフレーション (stagflation)
- ③ デフレーション (deflation)
- ④ デイマンド・プル・インフレーション (demand-pull inflation)



総合科目－8

問 6 財政政策には景気循環の波を平準化する機能があるとされる。このことを表す図として最も適当なものを、次の①～④の中から一つ選びなさい。なお、横軸を時間、縦軸を景気の指標、点線が財政政策をおこなわない場合の景気循環、実線が財政政策をおこなった場合の景気循環を示すものとする。

12



問7 株式会社の説明として最も適当なものを、次の①～④の中から一つ選びなさい。

**13**

- ① 株式会社が倒産しても、株主の法的責任は出資額を超えることはない。
- ② 資金の調達手段は、株式の発行に限られる。
- ③ 株式会社の従業員のみが、その会社の株式を保有できる。
- ④ 日本では株式会社の中で、従業員が100名未満の会社を合資会社という。

問8 1973年、日本は変動為替相場制に移行した。その後1970年代に生じた日本経済の変化として最も適当なものを、次の①～④の中から一つ選びなさい。

**14**

- ① 円安の進行により輸入品価格が上昇し、第一次石油危機に見舞われた。
- ② 超低金利政策がとられ、いわゆるバブル経済が発生した。
- ③ IMF（国際通貨基金）8条国へ移行し、資本の自由化が進んだ。
- ④ 円高に対応すべく、電機・自動車産業を中心に一層の経営合理化に努めた。

問9 WTO（世界貿易機関）は1995年に設立されたが、この機関の設立を促した事情として最も適当なものを、次の①～④の中から一つ選びなさい。

**15**

- ① 設立以前には紛争処理に関する手続きの実効性が十分には確保されていなかったため、その手続きを強化する必要が生じた。
- ② 基軸通貨としてのドルの国際的信用の低下に伴い、国際通貨問題に多国間協議で対応する必要が生じた。
- ③ 経済がグローバル化するに従い、公平で課税もれのない国際的な課税制度を構築する必要が生じた。
- ④ 世界的な自由貿易体制が完成し、FTA（自由貿易協定）に代表される二国間や特定地域内の通商関係を強化する必要が生じた。

問11 欧州自由貿易連合（EFTA）は、欧州経済共同体（EEC）に加盟していなかった国によって1960年に発足した。EFTAの原加盟国として正しいものを、次の①～④の中から一つ選びなさい。

**17**

- ① フランス
- ② イギリス
- ③ イタリア（Italy）
- ④ ルクセンブルク（Luxembourg）

問12 日本の労働環境に関する記述として最も適当なものを、次の①～④の中から一つ選びなさい。

**18**

- ① 男女雇用機会均等法によって、現在では大企業の管理職の約半数は女性が占めている。
- ② 労働基準法改正以降、すべての職種において同一労働同一賃金の原則がとられている。
- ③ 高齢化社会に対応するため、定年の延長など高齢者の雇用機会の拡大が図られている。
- ④ 労働力不足を解消するため、すべての産業部門で外国人労働者の受け入れが積極的に進められている。

問13 次の表は、アメリカ、中国、日本、ロシア（Russia）について、一人当たりの二酸化炭素（CO<sub>2</sub>）排出量、GDP 1ドル当たりのCO<sub>2</sub>排出量、およびCO<sub>2</sub>排出量の増減率（いずれも2013年）を示したものである。表中のA～Dに当てはまる国の組み合わせとして正しいものを、下の①～④の中から一つ選びなさい。

**19**

|                                       | A     | B     | C    | D    |
|---------------------------------------|-------|-------|------|------|
| 一人当たりのCO <sub>2</sub> 排出量（トン）         | 16.18 | 10.79 | 9.70 | 6.60 |
| GDP 1ドル当たりのCO <sub>2</sub> 排出量（キログラム） | 0.35  | 0.70  | 0.30 | 0.64 |
| CO <sub>2</sub> 排出量の増減率（%）            | 0.3   | -1.5  | 0.7  | 6.3  |

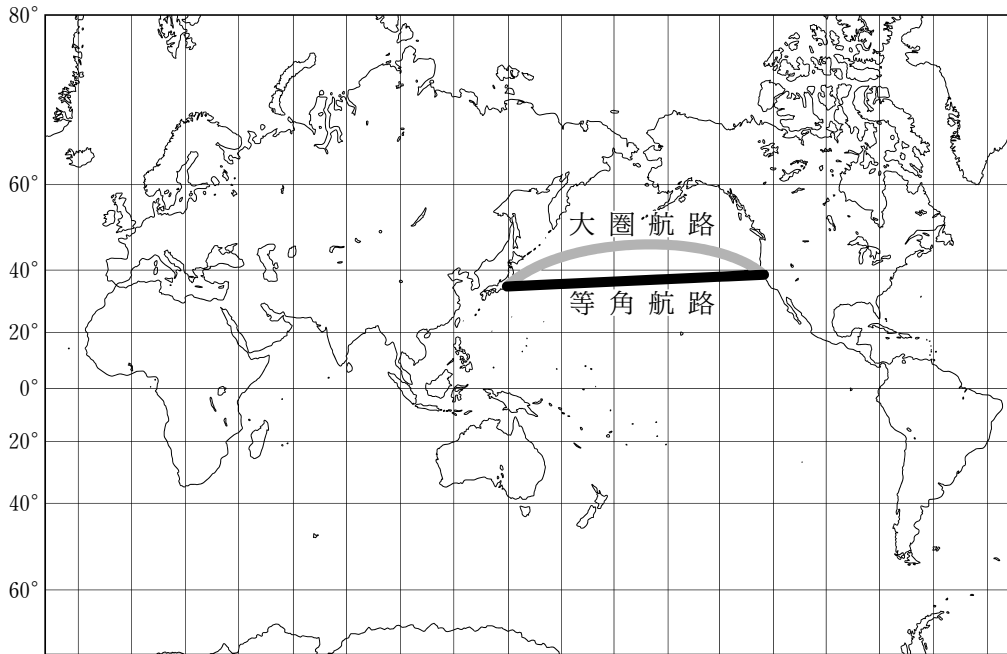
注) GDPは2005年の為替レートで算出

CO<sub>2</sub>排出量の増減率は1990年を基準とした年平均

IEAウェブサイトより作成

|   | A    | B    | C    | D    |
|---|------|------|------|------|
| ① | アメリカ | ロシア  | 日本   | 中国   |
| ② | 中国   | アメリカ | ロシア  | 日本   |
| ③ | 日本   | 中国   | アメリカ | ロシア  |
| ④ | ロシア  | 日本   | 中国   | アメリカ |

問14 次の地図は、メルカトル図法で描かれた世界地図である。この図法あるいはこの地図に関する記述として最も適当なものを、下の①～④の中から一つ選びなさい。 **20**



- ① 北緯60度上の緯線の長さは赤道の長さのほぼ2倍に拡大して描かれている。
- ② 同一の経度帯ではゆがみがなく、面積がほぼ正しく描かれている。
- ③ 等角航路とはある地点から別の地点への最短航路を表すものである。
- ④ 大圏航路で進めば経線に対して常に一定の角度を保てるため、海図に適している。

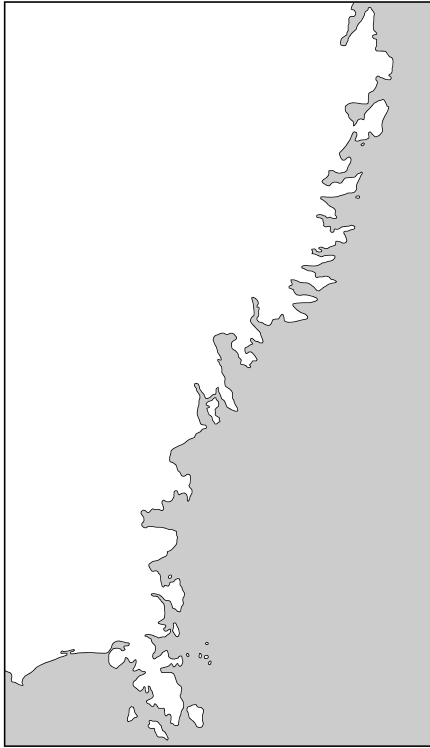
総合科目－14

問15 東京，ロンドン (London)，ニューヨーク (New York) 間には時差がある。東京－ロンドン間，東京－ニューヨーク間，ニューヨーク－ロンドン間の中で，時差が最も大きい区間と最も小さい区間の組み合わせとして正しいものを，次の①～④の中から一つ選びなさい。ただし，各都市の標準子午線は，東京が東経135度，ロンドンが0度，ニューヨークが西経75度であり，サマータイムは考慮しないものとする。

**21**

|   | 最も大きい区間   | 最も小さい区間     |
|---|-----------|-------------|
| ① | 東京－ロンドン   | 東京－ニューヨーク   |
| ② | 東京－ロンドン   | ニューヨーク－ロンドン |
| ③ | 東京－ニューヨーク | 東京－ロンドン     |
| ④ | 東京－ニューヨーク | ニューヨーク－ロンドン |

問16 次の地図は、日本のある地方の海岸線を描いたものである。このような海岸線の地形名称として最も適当なものを、下の①～④の中から一つ選びなさい。ただし、地図の上方が北で、左方が陸地側、右方が海洋側である。

**22**

- ① リアス海岸
- ② フィヨルド (fjord)
- ③ 海岸段丘
- ④ 三角州 (デルタ)

問18 次の表は、2013年における天然ガスの産出と輸出に関して上位5か国を示したものである。表中のX国として正しいものを、下の①～④の中から一つ選びなさい。 **24**

天然ガスの産出（10億立方フィート）

| 国    | 産出量     | %     |
|------|---------|-------|
| アメリカ | 24,334  | 20.1  |
| X    | 22,139  | 18.3  |
| イラン  | 5,696   | 4.7   |
| カタール | 5,598   | 4.6   |
| カナダ  | 5,129   | 4.2   |
| 世界計  | 121,283 | 100.0 |

天然ガスの輸出（10億立方フィート）

| 国     | 輸出量    | %     |
|-------|--------|-------|
| X     | 7,801  | 20.4  |
| カタール  | 4,432  | 11.6  |
| ノルウェー | 3,630  | 9.5   |
| カナダ   | 2,912  | 7.6   |
| オランダ  | 2,376  | 6.2   |
| 世界計   | 38,302 | 100.0 |

注) イラン (Iran), カタール (Qatar), カナダ (Canada), ノルウェー (Norway)  
アメリカエネルギー情報局ウェブサイトより作成

- ① ドイツ
- ② 中国
- ③ ロシア
- ④ イギリス



総合科目－18

問19 次の文を読み、文中の空欄 **a** に当てはまる語として最も適当なものを、下の①～④の中から一つ選びなさい。 **25**

第一次世界大戦後から第二次世界大戦開始までのヨーロッパでは、ドイツやイタリアなどで、共産主義を敵視し、自由主義や民主主義の考え方を否定する **a** が生まれた。

- ① 覇権主義 (hegemonism)
- ② ファシズム (fascism)
- ③ 絶対主義 (absolutism)
- ④ 無政府主義 (anarchism)

問20 各国の政治体制に関する記述として最も適当なものを、次の①～④の中から一つ選びなさい。 **26**

- ① イギリスは立憲君主制で、首相は貴族院議員の中から互選で選出される。
- ② フランスは大統領制と議院内閣制の混合型で、大統領は議会によって選ばれる儀礼的な存在である。
- ③ アメリカは大統領制で、大統領は連邦議会に議席を持たず、法案提出権も持たない。
- ④ ロシアは議院内閣制で、首相は議会に対して解散権を持ち、議会は内閣に対する不信任決議案を提出できる。

問21 日本国憲法が定めている国会の権限として適当でないものを，次の①～④の中から一つ選びなさい。

**27**

- ① 憲法改正の承認
- ② 予算の議決
- ③ 条約の承認
- ④ 弾劾裁判所の設置

問22 日本の内閣総理大臣に関する記述として最も適当なものを，次の①～④の中から一つ選びなさい。

**28**

- ① 国会議員と兼職することはできない。
- ② 国務大臣の罷免権を有する。
- ③ 国民の直接選挙で選出される。
- ④ 両院協議会によって不信任案が可決されると，辞職しなければならない。

問23 日本国憲法第20条は，「国及びその機関は，宗教教育その他いかなる宗教的活動もしてはならない」ことを規定している。この規定が意味しているものとして最も適当なものを，次の①～④の中から一つ選びなさい。

**29**

- ① 学問の自由
- ② 国民主権
- ③ 政教分離
- ④ 民事不介入

問24 日本国憲法は、国民の権利に加えて、国民の義務を三つ定めている。その義務の一つを、次の①～④の中から一つ選びなさい。 **30**

- ① 社会奉仕の義務
- ② 兵役の義務
- ③ 勤労の義務
- ④ 法律を尊重し擁護する義務

問25 国民が裁判に直接参加する制度としてアメリカには陪審制 (jury system) がある。この制度の説明として最も適当なものを、次の①～④の中から一つ選びなさい。 **31**

- ① 陪審員が有罪・無罪を認定し、有罪の場合の量刑は、陪審員と裁判官が決定する。
- ② 陪審員と裁判官が有罪・無罪を認定し、有罪の場合の量刑は、裁判官が決定する。
- ③ 裁判官が有罪・無罪を認定し、有罪の場合の量刑は、陪審員が決定する。
- ④ 陪審員が有罪・無罪を認定し、有罪の場合の量刑は、裁判官が決定する。

問26 フランス革命 (French Revolution) とナポレオン戦争 (Napoleonic Wars) 後の混乱を收拾し、国際秩序を回復することを目的として、1814年から1815年にかけてウィーン会議 (Congress of Vienna) が開かれた。この会議で示された国際秩序の原則として最も適当なものを、次の①～④の中から一つ選びなさい。

**32**

- ① 公開外交
- ② 勢力均衡
- ③ 民族自決
- ④ 集団安全保障

問27 日本における環境問題対策に関する次の出来事A～Dを年代順に並べたものとして正しいものを、下の①～④の中から一つ選びなさい。

**33**

- A：地球温暖化対策税の導入
- B：環境基本法の制定
- C：公害対策基本法の制定
- D：循環型社会形成推進基本法の制定

- ① A → D → B → C
- ② B → A → C → D
- ③ C → B → D → A
- ④ D → C → A → B

問28 アメリカの南北戦争（Civil War）に関する記述として最も適当なものを、次の

①～④の中から一つ選びなさい。

**34**

- ① 発端は北部のフランス系住民と南部のイギリス系住民との間の主導権争いである。
- ② 北部諸州は州権の強化と奴隷制の存続を求めた。
- ③ 南部諸州は綿花など農産物をヨーロッパに輸出していたため自由貿易を支持した。
- ④ 1860年の大統領選挙に当選したワシントン（George Washington）は奴隷解放宣言を発した。

問29 ドイツ帝国のヴィルヘルム2世（Wilhelm II）に関する記述として最も適当なものを、次の①～④の中から一つ選びなさい。

**35**

- ① 大規模に艦隊を増強するなど、「世界政策」と呼ばれる対外膨張政策をとった。
- ② 社会主義思想の浸透を防ぐため、社会主義者鎮圧法を制定した。
- ③ 「文化闘争」と呼ばれるカトリックへの敵対的な政策をとった。
- ④ ドイツ統一を巡るオーストリア（Austria）との戦いに勝ち、ドイツ帝国を建国した。

問30 第一次世界大戦後に生じた情勢変化に関する記述として適当でないものを、次の

①～④の中から一つ選びなさい。

**36**

- ① ヴェルサイユ（Versailles）条約で国際連盟（League of Nations）の設立が決まった。
- ② 東欧（Eastern Europe）では新たな独立国が生まれた一方、アジア各地では民族自決の機運が高まった。
- ③ 日本はマーシャル諸島（Marshall Islands）やその他いくつかの太平洋の島の委任統治権を得た。
- ④ 米西戦争（Spanish-American War）後に、アメリカはフィリピン（Philippines）を植民地にした。

問31 第二次世界大戦初期の出来事として最も適当なものを、次の①～④の中から一つ選びなさい。

**37**

- ① アイルランド (Ireland) はイギリスに侵入され、その保護国とされた。
- ② フランスはドイツに宣戦布告し、ザール (Saar) 地方を併合した。
- ③ オーストリアはイタリアに侵入し、イタリア北部を併合した。
- ④ ポーランド (Poland) はドイツとソ連 (USSR) に侵入され、両国に分割占領された。

問32 冷戦が始まった時期の出来事に関する記述として最も適当なものを、次の①～④の中から一つ選びなさい。

**38**

- ① アメリカはベトナム戦争 (Vietnam War) に介入し、北爆を開始した。
- ② アメリカはヨーロッパ諸国の経済復興を支援するマーシャルプラン (Marshall Plan) を発表した。
- ③ ソ連寄りの政権を支援するため、ソ連はアフガニスタン (Afghanistan) に侵攻した。
- ④ ソ連はゴルバチョフ (Mikhail Gorbachev) の下、新思考外交を唱え、東欧諸国への援助を始めた。

総合科目の問題はこれで終わりです。解答欄の **39** ～ **60** はマークしないでください。

この問題冊子を持ち帰ることはできません。

