

平成26年度（2014年度）日本留学試験

# 総合科目

( 8 0 分)

## I 試験全体に関する注意

1. 係員の許可なしに、部屋の外に出ることはできません。
2. この問題冊子を持ち帰ることはできません。

## II 問題冊子に関する注意

1. 試験開始の合図があるまで、この問題冊子の中を見ないでください。
2. 試験開始の合図があったら、下の欄に、受験番号と名前を、受験票と同じように記入してください。
3. この問題冊子は、23ページあります。
4. 足りないページがあったら、手をあげて知らせてください。
5. 問題冊子には、メモや計算などを書いてもいいです。

## III 解答用紙に関する注意

1. 解答は、解答用紙に鉛筆（HB）で記入してください。
2. 各問題には、その解答を記入する行の番号 **1** , **2** , **3** , …がついています。解答は、解答用紙（マークシート）の対応する解答欄にマークしてください。
3. 解答用紙に書いてある注意事項も必ず読んでください。

※ 試験開始の合図があったら、必ず受験番号と名前を記入してください。

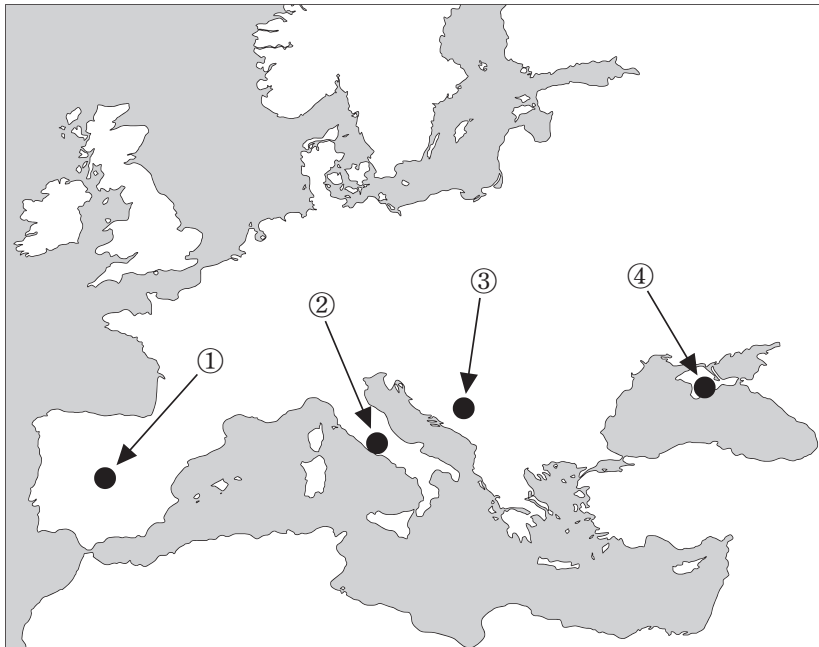
受験番号			*				*						
名前													

問1 次の文章を読み、下の問い(1)~(4)に答えなさい。

2014年は第一次世界大戦が勃発<sup>ぼっぱつ</sup>して100年目に当たる年である。戦争のきっかけは、ヨーロッパ (Europe) の火薬庫と呼ばれたバルカン半島 (Balkan Peninsula) にある、1 サライェヴォ (Sarajevo) でオーストリア (Austria) の帝位継承者夫妻が暗殺されたことである。当初は、短期間に終結すると思われたが、戦争は、2 長期戦となった。主戦場であったヨーロッパにとどまらず、3 アジア (Asia) やアフリカ (Africa) にも影響が及んだ。総力戦となったこの戦争は、1919年1月から開かれたパリ講和会議 (Paris Peace Conference) において締結された講和条約によって終結した。同時に、この会議では、4 戦後の国際体制の構築が目指された。

(1) 下線部1に関して、サライエヴォの位置として正しいものを、次の地図中の①~④の中から一つ選びなさい。

1



## 総合科目ー2

(2) 下線部 2 に関して、戦争が長期化する中で交戦国はさまざまな秘密外交をおこなった。これに関する記述として最も適当なものを、次の①～④の中から一つ選びなさい。

2

- ① オスマン帝国 (Ottoman Empire) は経済支援を受けることを条件として、連合国側に立って参戦した。
- ② アメリカ (USA) はソ連 (USSR) に対日参戦を要求し、見返りに東ヨーロッパへの勢力拡大を容認した。
- ③ ドイツ (Germany) のヴィルヘルム 2 世 (Wilhelm II) は、フランス (France) にアルザス・ロレーヌ (Alsace-Lorraine) 地方の割譲を約束した。
- ④ イギリス (UK) のバルフォア (Balfour) 外相は、パレスチナ (Palestine) にユダヤ人 (Jewish people) のための民族的郷土 (ナショナル・ホーム) を建設することを約束した。

(3) 下線部 3 に関して、第一次世界大戦期の日本経済に関する記述として最も適当なものを、次の①～④の中から一つ選びなさい。

3

- ① 世界的な船不足と船賃の高騰により、造船業や海運業の景気がよくなった。
- ② 軽工業を中心に産業革命が起こり、絹糸の輸出が急増した。
- ③ 増大する電力需要に対応するため、原子力発電所が建設された。
- ④ 軍需産業に資源を振り向けるため、民需産業が統制され、食糧は配給制となった。

(4) 下線部 4 に関して、第一次世界大戦後の国際社会に関する記述として最も適当なものを、次の①～④の中から一つ選びなさい。

4

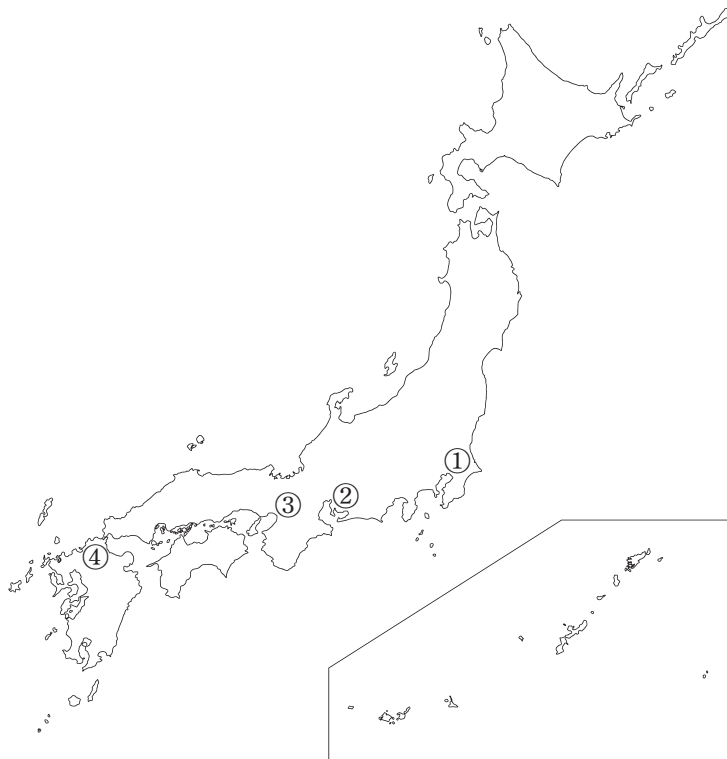
- ① ドルに代わり、ポンドを基軸通貨とする国際金融体制が構築された。
- ② 国際連盟 (League of Nations) が設立され、国際協調体制の推進が図られた。
- ③ 民族自決の原則に基づき、アフリカでは多くの独立国が誕生した。
- ④ ヨーロッパにおいては伝統的な勢力均衡による平和の維持が図られた。

問2 次の文章を読み、下の問い(1)～(4)に答えなさい。

第二次世界大戦後の日本では、生産設備が破壊されたことにより供給能力が著しく低下し、物不足が深刻になった。政府は、生産の復興策として、1石炭・鉄鋼・電力などの増産に重点を置く a をとった。その財源は b によってまかなわれたためインフレーションが激化した。このインフレーションは、2ドッジ・ライン (Dodge Line) と呼ばれる一連の経済政策でおさまった。また生産復興と並行して、経済民主化政策として財閥解体、3農地改革、労働関係の改革がおこなわれた。

(1) 下線部1に関して、日本を代表する産炭地であった筑豊炭田の位置として正しいものを、次の地図中の①～④の中から一つ選びなさい。

5



総合科目-4

(2) 上の文章中の空欄 **a** , **b** に当てはまる語の組み合わせとして最も適当なものを, 次の①~④の中から一つ選びなさい。

**6**

	a	b
①	傾斜生産方式	民間の貯蓄
②	傾斜生産方式	日本銀行による債券引き受け
③	殖産興業政策	民間の貯蓄
④	殖産興業政策	日本銀行による債券引き受け

(3) 下線部 **2** に関して, ドッジ・ラインの説明として最も適当なものを, 次の①~④の中から一つ選びなさい。

**7**

- ① 農家の収入を確保するため, 国が買い取る米の価格を高く設定した。
- ② 自由貿易を推進するため, 関税を撤廃した。
- ③ 税負担の公平を期すため, 間接税を中心とする税体系を採用した。
- ④ 経済安定九原則を実現するため, 歳出削減や単一為替レートの設定をおこなった。

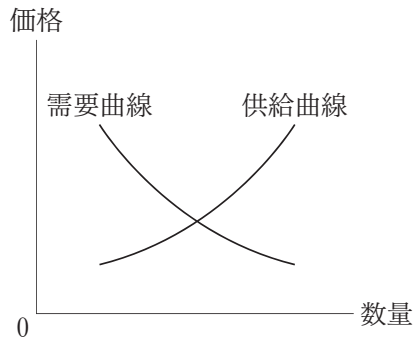
(4) 下線部 **3** に関して, それぞれの改革で実施されたことの組み合わせとして最も適当なものを, 次の①~④の中から一つ選びなさい。

**8**

	農地改革	労働関係の改革
①	自作農の創出	労働組合法の制定
②	自作農の創出	産業報国会の設立
③	集団農場の創出	労働組合法の制定
④	集団農場の創出	産業報国会の設立

問3 ある財Xの市場について需要曲線，供給曲線が次の図のようであるとする。これに関する記述として最も適当なものを，下の①～④の中から一つ選びなさい。

9



- ① 超過需要があるときは，価格が上昇する。
- ② 超過供給があるときは，価格が上昇する。
- ③ 消費者の所得が増大すると，需要曲線は左に移動する。
- ④ 財Xの材料費が上昇すると，供給曲線は右に移動する。

## 総合科目－6

問 4 日本の財政の仕組みや財政政策に関する記述として最も適当なものを，次の①～④の中から一つ選びなさい。

10

- ① 予算は国会の審議を経ることなく内閣の責任で執行できる。
- ② 租税は中央政府が徴収する直接税と，地方自治体が徴収する間接税に分かれる。
- ③ 財政政策とは，市場を通じては供給されないが，生活にとって不可欠な財を提供することである。
- ④ 所得分配の不平等を是正するために，収入面では所得税に累進課税制度が採用され，支出面では社会保障制度が整えられている。

問 5 日本の国債に関する記述として最も適当なものを，次の①～④の中から一つ選びなさい。

11

- ① 日本の国債の大部分は，海外の投資家によって保有されている。
- ② 2000年度以降，国債残高は減少し続けている。
- ③ 日本銀行が市場で大量に国債を購入すると，金利が低下する。
- ④ 国債は，一般の企業の株式に比べると，リスクが高い投資対象である。

問 6 通貨や金融制度に関する記述として正しいものを，次の①～④の中から一つ選びなさい。

12

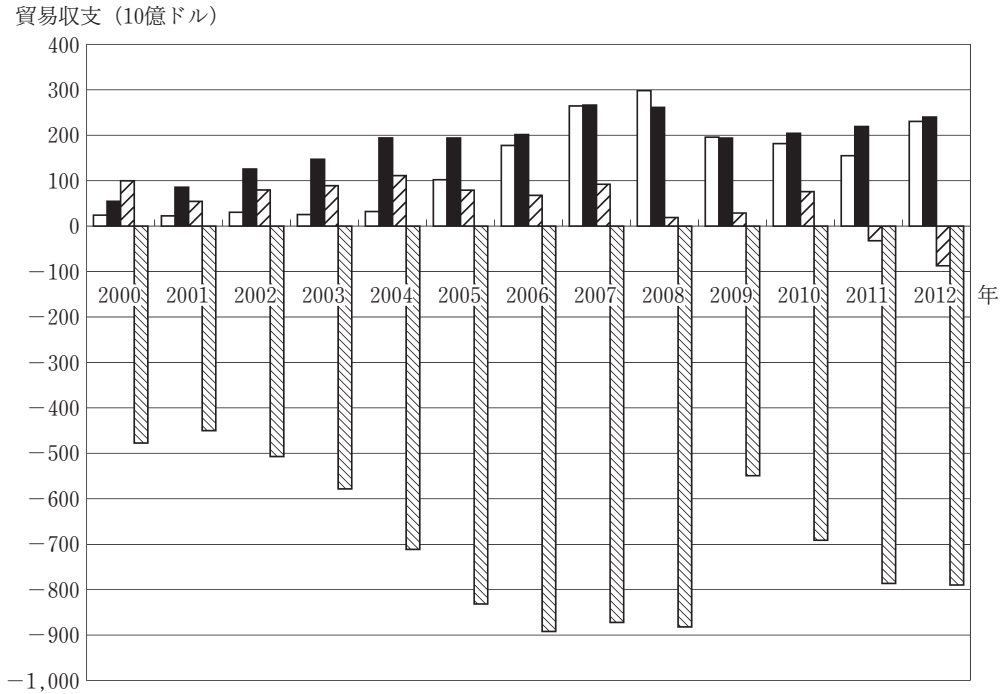
- ① 中央銀行が公開市場操作によって民間部門のマネーサプライを増加させる機能のことを信用創造機能という。
- ② 通貨は，中央銀行券と硬貨からなる現金通貨と，当座預金など金融機関に預金として存在する預金通貨によって構成される。
- ③ 日本銀行は日本における唯一の発券銀行であるとともに，金融政策を実施する主体であり，民間企業へ直接融資をおこなう。
- ④ 日本は1971年までは金本位制度を採用していたが，ブレトン・ウッズ（Bretton Woods）体制の崩壊と同時に金兌換<sup>だかん</sup>を停止し，管理通貨制度へと移行した。



総合科目-8

問7 次のグラフは、日本、アメリカ、ドイツ、中国（China）の貿易収支の推移を示したものである。日本を示すグラフを、次の①～④の中から一つ選びなさい。

13

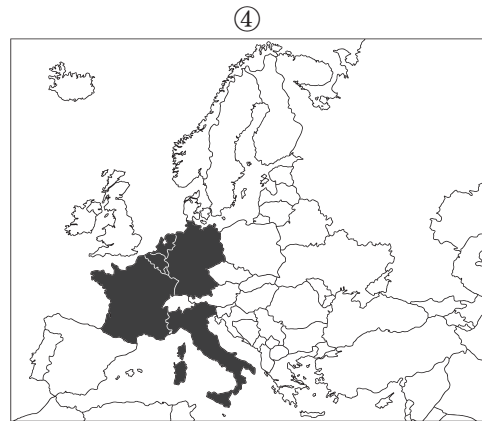
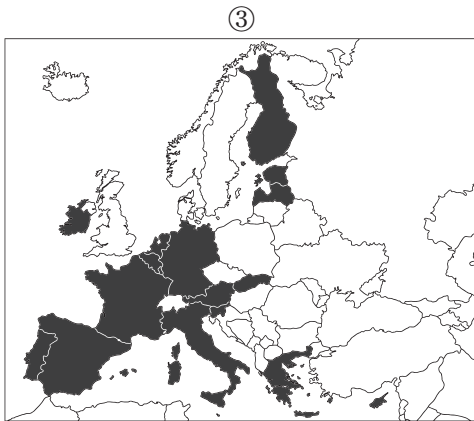
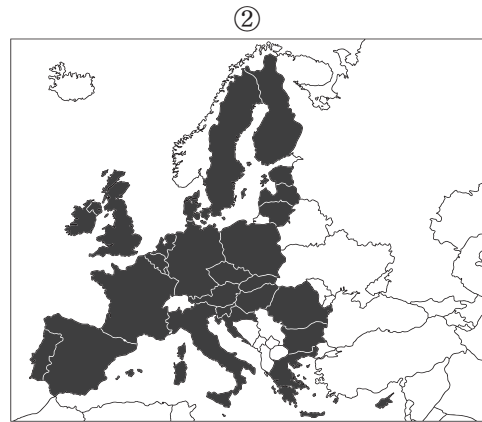
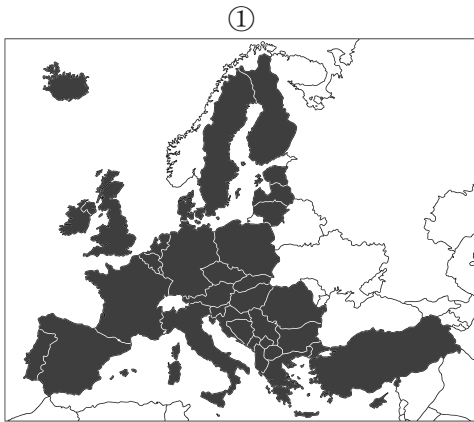


WTOウェブサイトより作成

- ①
- ②
- ③
- ④

問 8 2014年1月現在, EU (欧州連合) 加盟国の中でユーロを導入している諸国 (網掛け部分) を示している地図として正しいものを, 次の①～④の中から一つ選びなさい。

14



総合科目－12

問11 次の文章は、リカード (David Ricardo) の比較生産費説に関して説明したものである。この文章を読み、下の問い(1), (2)に答えなさい。

世界は、X国とY国の2国だけで構成され、衣類とワインの二つの財だけが生産されているものとする。次の表で示された2国の全体の労働量 (X国：90人，Y国：225人) で、それぞれの国が衣類とワインを1単位ずつ生産するとすれば、世界全体では、衣類が2単位，ワインが2単位生産される。仮に、X国とY国が、それぞれ、自国内で生産費が相対的に安い財に生産を特化し、衣類とワインを貿易したとする。この場合、世界全体の衣類の生産量は  単位となり，ワインの生産量は  単位となる。その結果，衣類とワインの生産と消費が増加し，自由貿易の下で国際分業の利益が生まれる。

単位：人

	X国	Y国
衣類1単位の生産に必要な労働量	40	150
ワイン1単位の生産に必要な労働量	50	75

(1) 上の文章中の空欄  ，  に当てはまる数値の組み合わせとして正しいものを，次の①～④の中から一つ選びなさい。

**17**

	a	b
①	1.80	3.00
②	2.15	3.80
③	2.25	3.00
④	2.50	2.75

- (2) リカードは、国際分業の利益を重視し自由貿易を主張した。これに対して、まだ競争力は弱いが将来的に大きく成長することが期待される産業の保護の必要性を主張した経済学者の名前を、次の①～④の中から一つ選びなさい。

**18**

- ① リスト (Friedrich List)
- ② アダム・スミス (Adam Smith)
- ③ マルサス (Thomas Robert Malthus)
- ④ シュンペーター (Joseph Schumpeter)

- 問12 地球儀に関する記述として最も適当なものを、次の①～④の中から一つ選びなさい。

**19**

- ① 地球儀は、地図と違って、地表面上の距離、方位、面積、形状を同時に正しく表現できる。
- ② 地球儀は球形の立体模型なので、経線が南北の位置関係を示し、緯線が東西の位置関係を示している。
- ③ 小縮尺の地球儀を作るのは難しいが、大縮尺のものであれば比較的簡単に作ることができる。
- ④ 地球儀の歴史は地図よりも古く、現存する最古の地球儀は古代ギリシャ (Greece) で作られたものである。

問14 アメリカ本土（ハワイ，アラスカを除く）は四つの標準時に分かれており，それぞれの間には1時間の時差がある。東海岸に位置するニューヨーク（New York）を午前7時発の飛行機で出発して，西海岸に位置するサンフランシスコ（San Francisco）に午前10時に到着したとすれば，移動に何時間を要したことになるか。正しいものを，次の①～④の中から一つ選びなさい。

**21**

- ① 4時間
- ② 5時間
- ③ 6時間
- ④ 7時間

注) ハワイ (Hawaii)，アラスカ (Alaska)

問15 次の文を読み，文中の空欄 **a** に当てはまる国名として正しいものを，下の①～④の中から一つ選びなさい。

**22**

ドナウ川 (Danube) はドイツのシュヴァルツヴァルト (Black Forest) に源を發し，バイエルン (Bavaria) 地方を東に向かって流れ，ウィーン (Vienna) からブダペスト (Budapest) を経てルーマニア (Romania) と **a** の国境を流れて黒海 (Black Sea) に注いでいる。

- ① イタリア
- ② トルコ (Turkey)
- ③ スロバキア (Slovakia)
- ④ ブルガリア (Bulgaria)

問17 「国王は君臨すれども統治せず」とは、ある国の議会政治における国王の地位を象徴的に示した言葉として知られている。この国とはどこか。正しいものを、次の①～④の中から一つ選びなさい。

24

- ① ドイツ
- ② ロシア
- ③ ベルギー
- ④ イギリス

問18 法の支配 (rule of law) に関する説明として最も適当なものを、次の①～④の中から一つ選びなさい。

25

- ① 「議会で制定されるすべての法は自然法に合致しなければならない」という18世紀の原理
- ② 「権力者による恣意的な支配を否定し、治める者も治められる者も法によって拘束されなければならない」という原理
- ③ 「法律である限り、市民は悪法にも従わなければならない」というソクラテス (Socrates) が提示した市民社会の道徳原理
- ④ 「政治や行政をおこなうにあたり、為政者は議会で定められた法の内容、形式、手続きに従わなければならない」という原理

総合科目－18

問19 ナショナリズムに関する記述として最も適当なものを、次の①～④の中から一つ選びなさい。

26

- ① ナショナリズムによる民族紛争が存在するのは主として第三世界であり，ヨーロッパや北アメリカでは民族紛争は見られない。
- ② ナショナリズムは封建的で世襲的な権威を重視する前近代的な政治の論理を引き継いで発展してきたものである。
- ③ ナショナリズムは近代国民国家の成立とともに生み出されたものであり，歴史的に重要性を帯びてきたのは，18世紀以降のことである。
- ④ 現代の国家の大半は，民族自決の原理に基づいて成立しており，一つのネーションを単位として構成されていることをナショナリズムと呼ぶ。

問20

試験問題として成立していますが、  
著作権上の都合により本問題のウェブ掲載はいたしません。

問21 自由民主党総裁を首相として、1990年代後半に二次にわたって政権を担当し、省庁再編などの行政改革に力を入れた内閣として正しいものを、次の①～④の中から一つ選びなさい。

**28**

- ① 細川内閣
- ② 村山内閣
- ③ 橋本内閣
- ④ 小泉内閣

問22

試験問題として成立していますが、  
著作権上の都合により本問題のウェブ掲載はいたしません。



問23 ヨーロッパのさらなる統合を目指してEU諸国が2007年に調印した条約は、欧州理事会常任議長（EU大統領）を新たに設けることなどを定めた。その条約として正しいものを、次の①～④の中から一つ選びなさい。

30

- ① ローマ（Rome）条約
- ② リスボン（Lisbon）条約
- ③ マーストリヒト（Maastricht）条約
- ④ アムステルダム（Amsterdam）条約

問24 国際人道法は、戦争の手段や方法を規制する原則や規則、それに文民、病人や負傷した戦闘員、戦争捕虜のような人々の人道的保護を扱ったものである。国際人道法の例として最も適当なものを、次の①～④の中から一つ選びなさい。

31

- ① ジュネーブ（Geneva）諸条約
- ② パリ（Paris）不戦条約（ケロッグ・ブリアン条約）
- ③ 世界人権宣言（Universal Declaration of Human Rights）
- ④ 国際人権B規約（International Covenant on Civil and Political Rights）

注) ケロッグ・ブリアン条約（Kellogg-Briand Pact）

問25 次の文章を読み、下の問い(1), (2)に答えなさい。

国際連合（UN）は、世界平和の維持と諸国間の友好の促進などを目的として1945年に発足した国際機関であり、aの原理に基づいて世界平和の維持を図っている。国連憲章は国際連合の主要機関として、総会、安全保障理事会、b理事会、信託統治理事会、国際司法裁判所、事務局を設けている。その他に、国際連合との間に連携協定を有し、緊密な連携を保つ国際機関である国連専門機関が存在している。

- (1) 上の文章中の空欄a，bに当てはまる語の組み合わせとして最も適切なものを、次の①～④の中から一つ選びなさい。 32

	a	b
①	世界政府	人権
②	世界政府	経済社会
③	集団安全保障	人権
④	集団安全保障	経済社会

- (2) 下線部に関して、国連専門機関として正しくないものを、次の①～④の中から一つ選びなさい。 33

- ① 世界知的所有権機関（WIPO）
- ② 国際刑事裁判所（ICC）
- ③ 世界保健機関（WHO）
- ④ 国連教育科学文化機関（UNESCO）

問26 アメリカの独立が諸外国に与えた影響に関する説明として最も適当なものを、次の①～④の中から一つ選びなさい。 **34**

- ① アメリカ側に立って参戦したプロイセン (Prussia) で革命が起こった。
- ② アメリカ独立を引き金としてメキシコ (Mexico) で革命が起こった。
- ③ イギリス側に立って参戦したスペイン (Spain) は、カリブ海 (Caribbean Sea) の植民地を失った。
- ④ フランスはアメリカの独立を支援するため多くの戦費をつぎ込み、財政の悪化を招いた。

問27 明治時代における日本の近代国家建設に関する記述として最も適当なものを、次の①～④の中から一つ選びなさい。 **35**

- ① 厳格な三権分立の政治体制を確立するため、大統領制が採用された。
- ② 経済発展を目指し、すべての生産手段の国有化が進められた。
- ③ プロイセン憲法を参考にした憲法が制定され、立憲国家となった。
- ④ 議会が開設され、女性も含めた普通選挙が実施されるようになった。

問28 19世紀後半のアフリカに関する記述として最も適当なものを、次の①～④の中から一つ選びなさい。 **36**

- ① ビスマルク (Otto von Bismarck) が開催したベルリン (Berlin) 会議で、ヨーロッパ列強によるアフリカの分割の原則が定められた。
- ② アメリカの植民地であつたりベリア (Liberia) は、イタリアの支援を受けて独立を果たした。
- ③ フランスとドイツが衝突したファショダ (Fashoda) 事件の結果、エチオピア (Ethiopia) はフランスの植民地となった。
- ④ ニューヨークで開かれたパン・アフリカ会議 (Pan-African Congress) で、アフリカの植民地の再分割が話し合われた。

問29 世界恐慌に対して各国がとった政策に関する記述として最も適当なものを、次の①～④の中から一つ選びなさい。

**37**

- ① フランスは有効需要を創出するため、ニューディール政策を実施した。
- ② ドイツは緊縮財政に努め、インフレーションを克服した。
- ③ 日本はデフレーションを克服するため、金解禁を実施した。
- ④ イギリスはオタワ (Ottawa) 連邦会議を開催し、ブロック経済の体制を築いた。

問30 第一次石油危機 (Oil Crisis) とその影響に関する記述として最も適当なものを、次の①～④の中から一つ選びなさい。

**38**

- ① 産油国に対抗するため、先進国はOECD (経済協力開発機構) を設立した。
- ② 中東地域における戦争を契機として産油国による原油の輸出停止や価格の大幅な引き上げがなされた結果として生じた。
- ③ 湾岸戦争によって中東地域の石油生産施設が破壊され、石油供給が滞った結果として生じた。
- ④ 第一次石油危機を受けて、イギリスやアメリカでは経済活動に政府が積極的に介入する大きな政府を志向する政権が誕生した。

総合科目の問題はこれで終わりです。解答欄の **39** ～ **60** はマークしないでください。

この問題冊子を持ち帰ることはできません。