

平成22年度（2010年度）日本留学試験

総合科目

(80分)

I 試験全体に関する注意

1. 係員の許可なしに、部屋の外に出ることはできません。
2. この問題冊子を持ち帰ることはできません。

II 問題冊子に関する注意

1. 試験開始の合図があるまで、この問題冊子の中を見ないでください。
2. 試験開始の合図があったら、下の欄に、受験番号と名前を、受験票と同じように記入してください。
3. この問題冊子は、22ページあります。
4. 足りないページがあったら手をあげて知らせてください。
5. 問題冊子には、メモや計算などを書いてもいいです。

III 解答用紙に関する注意

1. 解答は、解答用紙に鉛筆（HB）で記入してください。
2. 各問題には、その解答を記入する行の番号 **1**，**2**，**3**，…がついています。解答は、解答用紙（マークシート）の対応する解答欄にマークしてください。
3. 解答用紙に書いてある注意事項も必ず読んでください。

※ 試験開始の合図があったら、必ず受験番号と名前を記入してください。

受験番号			*					*						
名前														

問1 次の会話を読み、下の問い(1)～(4)に答えなさい。

先生：2009年に、アメリカ（USA）のオバマ（Barack Obama）大統領が、核兵器のない世界に向けての姿勢と努力が評価され、1ノobel平和賞を受賞しましたね。

よし子：2被爆国である日本としては、核軍縮への流れは大歓迎ですね。

先生：そうですね。3核軍縮の国際協調体制を維持し、それをいっそう進めていく努力が必要です。

よし子：4核兵器以外の軍縮も、ぜひ進めていくべきですね。

(1) 下線部1に関して、オバマ大統領と同じように、核兵器廃絶への努力が評価され、1995年にノobel平和賞を受賞した組織として正しいものを、次の①～④の中から一つ選びなさい。

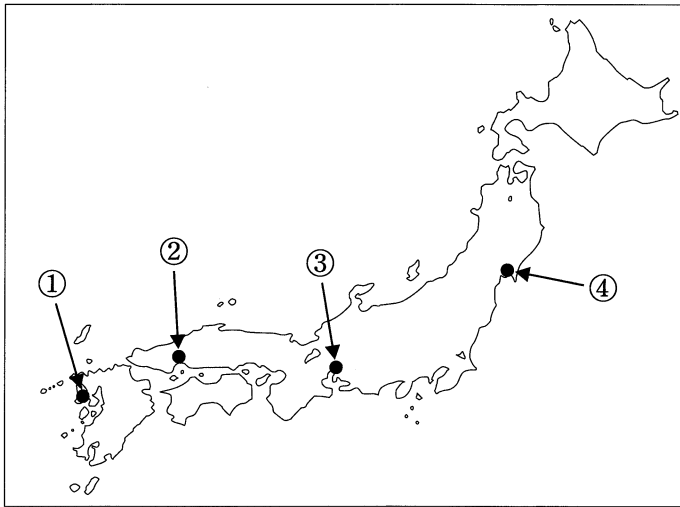
1

- ① グリーンピース（Greenpeace）
- ② 赤十字国際委員会
- ③ バンドン（Bandung）会議
- ④ パグウォッシュ（Pugwash）会議

総合科目－2

- (2) 下線部 2 に関して，被爆地の一つである広島の場合はどこか。正しい位置を，次の地図中の①～④の中から一つ選びなさい。

2



- (3) 下線部 3 に関して，次の文章中の空欄 [a]，[b] に当てはまる語の組み合わせとして最も適当なものを，下の①～④の中から一つ選びなさい。

3

[a] は1968年に署名が始まり，1970年に発効した。これは，既に核兵器を製造していたアメリカ，ソ連 (USSR)，イギリス (UK)，中国 (China)，および [b] の5か国のみに核兵器の保有を認め，それ以外の国への核兵器の拡散を防止しようとするものであった。

	a	b
①	NPT	インド
②	NPT	フランス
③	PTBT	インド
④	PTBT	フランス

注) インド (India)，フランス (France)

- (4) 下線部 4 に関して、次の表は、各国の軍事費の推移を表したものである。表中のA～Dの国名の組み合わせとして正しいものを、下の①～④の中から一つ選びなさい。

4

各国の軍事費の推移

単位：100万ドル

	1990年	1993年	1996年	1999年	2002年	2005年	2008年
A	457,641	402,369	337,941	329,416	387,297	503,353	548,531
B	13,147	15,331	16,606	21,626	33,436	44,911	63,643
日本	39,515	41,850	43,329	43,484	44,725	44,165	42,751
C	171,322	37,563	19,145	14,042	23,601	28,488	38,238
D	58,464	47,139	42,395	41,822	40,604	38,060	37,237

ストックホルム国際平和研究所ウェブサイトより作成

	A	B	C	D
①	ロシア	ドイツ	アメリカ	中国
②	ロシア	アメリカ	ドイツ	中国
③	アメリカ	ロシア	中国	ドイツ
④	アメリカ	中国	ロシア	ドイツ

注) ロシア (Russia), ドイツ (Germany)

注) ロシアの1990年はソ連

総合科目－4

問2 次の会話を読み、下の問い(1)～(3)に答えなさい。

父：最近の日本の選挙では、中年よりも若い世代の投票率が **a**。このような状態だと、政治への無関心が広がり、**b** が健全に形成されにくく、民主主義はうまく機能しなくなってしまう。若者は新聞もあまり読まないみたいだね。

よし子：そうかしら。1 若い世代の情報を集める方法が変わってきていることにお父さんが気づかないだけよ。

父：そうかな。いずれにしても、政府やマスコミは、もっと国民の 2 知る権利を満たすように努める必要があるね。

(1) 上の会話中の空欄 **a**、**b** に当てはまる語の組み合わせとして最も適切なものを、次の①～④の中から一つ選びなさい。 **5**

	a	b
①	高い	世論
②	高い	愛国心
③	低い	世論
④	低い	愛国心

- (2) 下線部 1 に関して、毎日の生活に必要な情報を得る手段は近年変化しており、世代によって差が見られる。このことに関して次の表から読み取れることは何か。最も適当なものを、下の①～④の中から一つ選びなさい。

6

毎日の生活に必要な情報を得る手段（複数回答形式）

単位：％

年度	新聞		雑誌		テレビ		パソコン(インターネット)	
	2001	2008	2001	2008	2001	2008	2001	2008
16～19歳	62.8	34.7	58.7	31.9	94.2	84.7	19.0	44.4
20代	73.5	41.8	47.0	19.0	93.9	81.0	24.7	48.1
30代	85.1	65.2	32.0	21.5	92.3	79.1	24.3	55.0
40代	95.0	78.8	32.2	21.9	91.7	83.7	15.7	47.4
50代	94.7	86.1	26.6	22.2	91.2	87.5	9.0	27.4
60歳以上	89.3	87.0	16.8	13.2	93.3	90.1	1.0	8.6

文化庁「国語に関する世論調査」平成20年度より作成

- ① 新聞や雑誌を利用しなくなった割合は、若い世代の方が高齢層よりも高い。
- ② 年齢が若いほど、テレビを利用し続けている割合は高い。
- ③ 最近でも高齢層は、テレビよりも新聞の方をよく利用している。
- ④ 年齢が若いほど、インターネットを利用する割合が高くなっている。

- (3) 下線部 2 に関して、「知る権利」を支える制度、および「知る権利」と対立する恐れのある権利の組み合わせとして最も適当なものを、次の①～④の中から一つ選びなさい。

7

	支える制度	対立する恐れのある権利
①	情報公開制度	プライバシー権
②	情報公開制度	報道の自由
③	オンブズマン制度	報道の自由
④	オンブズマン制度	プライバシー権

総合科目－6

問3 次の文章を読み、文章中の空欄 a ～ d に当てはまる語の組み合わせとして最も適当なものを、下の①～④の中から一つ選びなさい。

8

高賃金の地域Xと低賃金の地域Yが存在し、労働者の移動費用がかからないとすれば、地域間の賃金格差は次のように変化する。

労働者は高賃金を求め、地域Yから地域Xへ移動する。こうなると地域Yの労働供給が a し、地域Xの労働供給が b する。その結果、地域Yの賃金が c し、地域Xの賃金が d する。この過程は2地域の賃金格差がなくなるまで続く。

	a	b	c	d
①	増加	減少	上昇	下落
②	減少	増加	上昇	下落
③	増加	減少	下落	上昇
④	減少	増加	下落	上昇

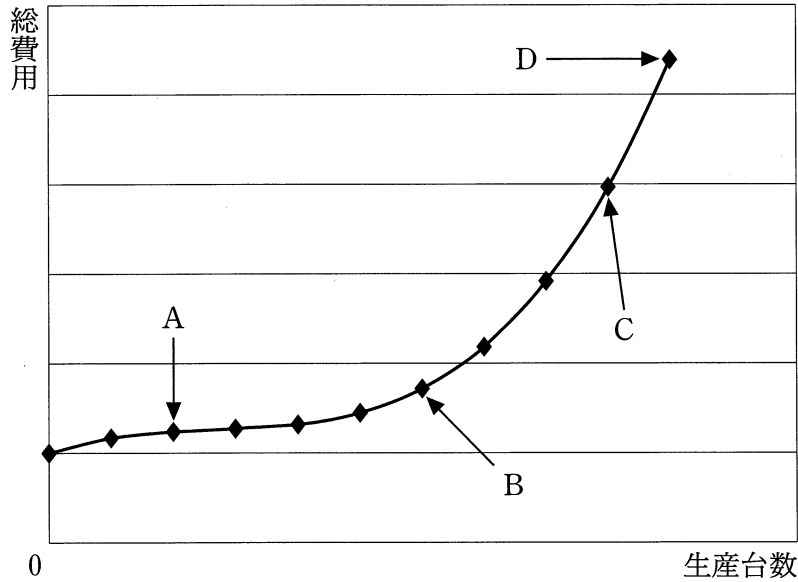
問4 次の文章を読み、X国の一人当たりのGNPの値として最も適当なものを、下の①～④の中から一つ選びなさい。

9

ある年のX国のGDPは4兆ドルであった。その中の5000億ドルはX国に住む外国人が生み出したものであった。また、その年にX国の国民が外国で生み出した付加価値の合計は1兆5000億ドルであった。なお、X国の人口は1億人とする。

- ① 4.0万ドル
- ② 4.5万ドル
- ③ 5.0万ドル
- ④ 5.5万ドル

問5 次のグラフは、コンピュータの生産台数と生産にかかった総費用を示している。グラフ上の点A～Dの中で、コンピュータ一台当たりの生産費用が最も小さくなるものを、下の①～④の中から一つ選びなさい。 10



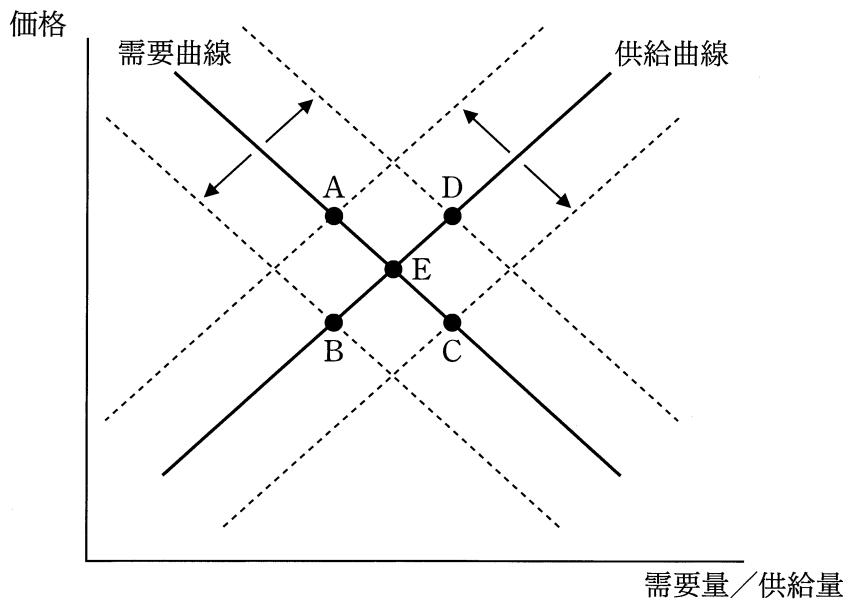
- ① A ② B ③ C ④ D

問6 日本における公正取引委員会の役割の説明として最も適当なものを、次の①～④の中から一つ選びなさい。 11

- ① 自由で公正な競争の確保を目的として、独占禁止法を運用する。
- ② 金融機関の破綻^{はたん}の抑止を目的として、金融再生法を運用する。
- ③ 公正な貿易の促進のために、輸出品の価格を監視する。
- ④ 金融機能の強化のために、証券取引所での不正な取引を監視する。

総合科目—8

問7 ある物品の需要曲線と供給曲線が次のグラフで表され、当初の均衡点はEであったとする。



次の経済変動X, Yがそれぞれ起きた場合、均衡点はどの点に移動するか。新たな均衡点の組み合わせとして最も適当なものを、下の①～④の中から一つ選びなさい。 **12**

X：賃金や原材料のコストが上昇する。

Y：需要が増加して供給を上回る。

	X	Y
①	A	B
②	A	D
③	C	B
④	C	D

問8 日本における租税や財政に関する説明として誤っているものを、次の①～④の中から一つ選びなさい。

13

- ① 税収に占める割合は直接税の方が間接税よりも大きい。
- ② 所得税の累進課税制度は、財政の役割の一つである所得の再分配という機能を担っている。
- ③ 財政赤字が急激に拡大した結果、GDPに対する債務残高の比率はG7の中で最大である。
- ④ 大規模な景気後退が生じた場合に、政府は国会の議決を経なくても補正予算を作成し、執行することができる。

問9 管理通貨制度に関する記述として正しいものを、次の①～④の中から一つ選びなさい。

14

- ① 金との交換が保証されている兌換紙幣だかんが発行される制度である。
- ② 世界のほとんどの国で19世紀に採用された制度である。
- ③ 民間の銀行も金を使って貨幣を造ることが許されている。
- ④ 通貨量を柔軟に調節できるが、通貨価値の不安定化やインフレーションの危険性がある。

問10 1929年に始まった大恐慌の際に、アメリカが採った政策に関する記述として正しいものを、次の①～④の中から一つ選びなさい。

15

- ① 全国産業復興法を制定し、生産力や購買力の回復を図った。
- ② 金本位制度を復活させ、物価の安定を図った。
- ③ 農業調整法を制定し、農作物の貿易自由化をおこなった。
- ④ ニューディール政策を実現するために、労働運動を弾圧した。

総合科目－10

問11 地域経済統合に関する説明として正しいものを、次の①～④の中から一つ選びなさい。

16

- ① WTO（世界貿易機関）の発足前に、イギリスなどが中心になってEFTAが結成された。
- ② WTOの発足後、EUを除けば、自由貿易協定などの地域統合の動きは少なくなった。
- ③ 2009年までにWTOに届けられた地域貿易協定数は、50協定以下にとどまっている。
- ④ 日本は自由貿易体制の恩恵を受けているので、いずれの国とも地域貿易協定を締結していない。

問12 それぞれの国の社会保障に関する記述として正しいものを、次の①～④の中から一つ選びなさい。

17

- ① アメリカでは社会保障の分野も民営化されており、公的な社会保障制度は存在しない。
- ② スウェーデン（Sweden）は国民の租税負担率が先進国の中でも高く、社会保障の財源に占める公費の割合が大きい。
- ③ フランスは世界で最初に社会保障制度が導入された国であり、現在も「ゆりかごから墓場まで」といわれる充実した社会保障制度が整備されている。
- ④ イギリスの社会保障制度は強制加入になっていないため、給付を受けない人が存在する。

問13 次の表は、異なる効果を持つ四つの政策A～Dの総費用、総便益、純便益、および純便益の所得層別分配を示したものである。

単位：億円

政策	総費用	総便益	純便益	純便益の分配	
				低所得層	高所得層
A	100	200	100	50	50
B	100	200	100	60	40
C	100	280	180	40	140
D	100	280	180	80	100

次のX、Yという二つの考え方を実現するための政策の組み合わせとして最も適当なものを、下の①～④の中から一つ選びなさい。

18

X：低所得層がより大きな割合の便益を受け取ることが望ましいという考え方

Y：低所得層がより大きな額の便益を受け取ることが望ましいという考え方

	X	Y
①	A	C
②	A	D
③	B	C
④	B	D

総合科目－12

問14 世界の気候に関する次の問い(1), (2)に答えなさい。

- (1) ケッペン (Köppen) の気候区分において、地中海性気候を示す地域として最も適当なものを、次の地図中の①～④の中から一つ選びなさい。

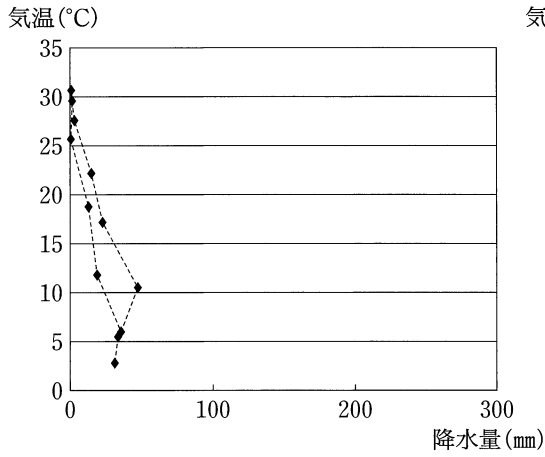
19



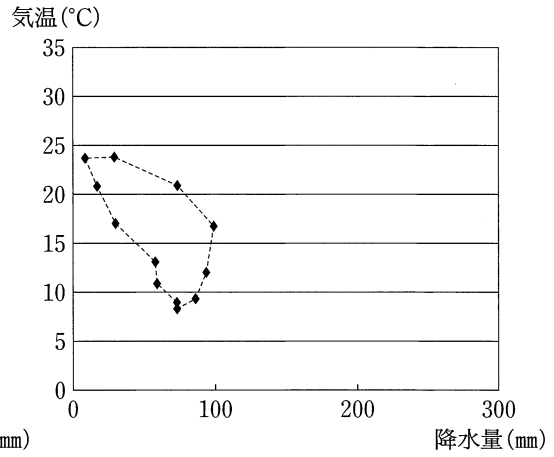
(2) 地中海性気候を示すハイサーグラフとして最も適当なものを、次の①～④の中から一つ選びなさい。

20

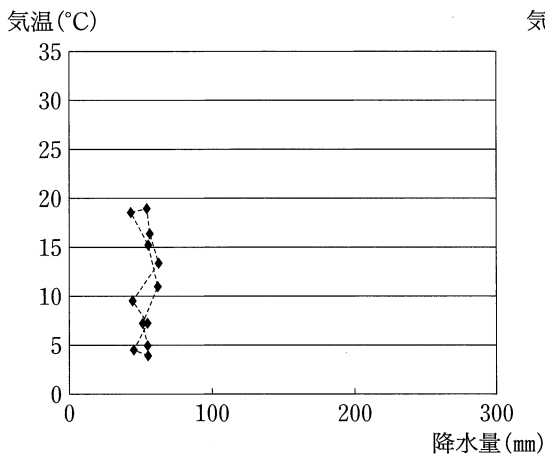
①



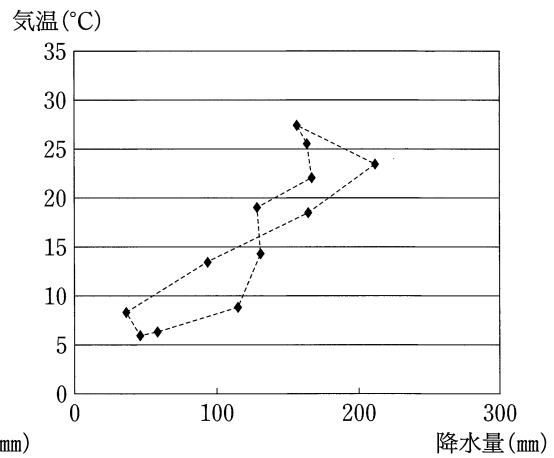
②



③



④



総合科目－14

問15 小麦に関する次の問い(1), (2)に答えなさい。

- (1) 次の表は、2006年における小麦の国別輸出货量（上位6か国）とその割合を示したものである。表中のXの国名として最も適当なものを、下の①～④の中から一つ選びなさい。

21

	万トン	%
アメリカ	2,338	18.5
カナダ (Canada)	1,850	14.7
X	1,658	13.1
オーストラリア (Australia)	1,498	11.9
ロシア	971	7.7
アルゼンチン (Argentina)	970	7.7
世界計	12,621	100.0

『世界国勢図会 2009/10年版』より作成

- ① 中国
- ② インド
- ③ フランス
- ④ ブラジル (Brazil)

- (2) 2006年において、小麦の世界貿易量は米の世界貿易量の約4倍である。小麦の貿易量が多い理由として適当でないものを、次の①～④の中から一つ選びなさい。

22

- ① 小麦は世界の多くの地域で消費されるため
- ② 米に比べて、小麦の用途が広いため
- ③ 米の生産量は小麦の生産量より少ないため
- ④ 米は熱帯性穀物で収穫が特定の地域と時期に偏っているため

問16 次の文章に基づいて、文章中の両都市間の距離を、下の①～④の中から一つ選びなさい。

23

ノルウェー (Norway) の首都オスロ (Oslo) とフィンランド (Finland) の首都ヘルシンキ (Helsinki) は、ともに北緯約60度に位置している。また経度はオスロが東経約10度、ヘルシンキが東経約25度に位置している。なお、赤道の全周は4万kmとする。

- ① 約400km ② 約800km ③ 約1,200km ④ 約1,500km

問17 次の表は、2008年におけるヨーロッパ (Europe) の3か国A～Cから日本が輸入した上位5品目と輸入額に占める割合を示している。A～Cに当てはまる国名の組み合わせとして最も適当なものを、下の①～④の中から一つ選びなさい。

24

単位：%

A国		B国		C国	
機械類	19.1	時計・同部品	24.1	医薬品	20.8
医薬品	8.3	医薬品	18.5	機械類	11.9
ぶどう酒	7.9	有機化合物	16.7	ダイヤモンド	10.6
有機化合物	7.0	機械類	13.8	有機化合物	6.2
バッグ類	5.8	科学光学機器	6.9	プラスチック	5.0

『日本国勢図会 2009/10年版』より作成

	A国	B国	C国
①	ドイツ	スイス	オランダ
②	ドイツ	イギリス	ベルギー
③	フランス	スイス	ベルギー
④	フランス	イギリス	オランダ

注) スイス (Switzerland), オランダ (Netherlands), ベルギー (Belgium)

総合科目－16

問18 民主制に関して、古代のアテネ（Athens）においておこなわれていた制度の記述として最も適当なものを、次の①～④の中から一つ選びなさい。 **25**

- ① 公的な仕事に従事する者は民衆の選挙によって選ばれなければならないという原則が確立し、近代民主制に受け継がれている。
- ② 人間は皆、生まれながらに平等だと考えられており、ポリスに住む全員に政治に参加する機会が与えられていた。
- ③ 民主制は、支配者が民衆のためになることを実行することを意味し、市民が政治に参加する機会は保証されていなかった。
- ④ 社会的には貧富の差や家柄の差などの不平等はあったが、市民には公的な討論に参加するという政治的平等性が与えられていた。

問19 アメリカの政治制度は、三権分立や連邦制などの特徴を有している。アメリカの政治の説明として最も適当なものを、次の①～④の中から一つ選びなさい。 **26**

- ① 大統領は連邦議会が可決した法案に対する拒否権を有している。
- ② 大統領は下院の解散権を有している。
- ③ 閣僚の過半数は連邦議会議員でなければならない。
- ④ 各州の権限は連邦政府から委託されたものに限定されている。

問20 次の国の中でその国家の政策として多文化主義（multiculturalism）を採用していない国はどれか。最も適当な国名を、次の①～④の中から一つ選びなさい。 **27**

- ① サウジアラビア（Saudi Arabia）
- ② スウェーデン
- ③ カナダ
- ④ オーストラリア

問21 ドイツの社会学者マックス・ウェーバー (Max Weber) が示した官僚制に関する記述として適当でないものを、次の①～④の中から一つ選びなさい。 **28**

- ① 人材の起用はその役職のための資格と適性に基づいておこなわれる。
- ② 責任の所在があいまいで、仕事の進め方が非効率的である。
- ③ 事業の運営は個人的利害が入り込まない規則に従っておこなわれる。
- ④ 民間企業にも見られる合理的で効率的な組織形成や運営の形態である。

問22 日本において地方自治体が制定する条例に関する説明として最も適当なものを、次の①～④の中から一つ選びなさい。 **29**

- ① 条例は地域の教育と福祉の分野に関してのみ制定できる。
- ② 条例の制定には、国会の承認が必要である。
- ③ 条例は法律の範囲内で制定されなければならない。
- ④ 条例の制定には、住民投票での過半数の同意が必要である。

問23 第一回の主要先進国首脳会議 (サミット) は1975年に開催された。その主要目的に関する説明として最も適当なものを、次の①～④の中から一つ選びなさい。 **30**

- ① 資本主義諸国が政治的、軍事的に結束を固めるため
- ② 石油危機 (Oil Crisis) 後の経済危機に対処するため
- ③ 資源ナショナリズムと食糧危機に対処するため
- ④ 国連 (UN) 総会が機能しなくなり、その役割を補完するため

総合科目－18

問24 日本の刑事裁判に関して述べた次の文章を読み、下の問い(1)、(2)に答えなさい。

日本の刑事裁判では最初の公判で、検察側の起訴状朗読が終わったあと裁判官は被告人に対して次のように告げる。

これから、今朗読された事実についての審理をおこないますが、審理に先立ち被告人に注意しておきます。

被告人には があります。(中略) もちろん、質問に対して答えるときには答えても構いませんが、被告人がこの法廷で述べたことは、被告人に有利、不利を問わず証拠として用いられることがありますので、そのことを念頭に置いて答えるようにしてください。

(1) 上の文章中の空欄 に当てはまる語として正しいものを、次の①～④の中から一つ選びなさい。 **31**

- ① 黙秘権
- ② 自己決定権
- ③ 裁判を受ける権利
- ④ 裁判官解職請求権

(2) ここで裁判官が述べている権利は次のどの権利に含まれるか。最も適当なものを、次の①～④の中から一つ選びなさい。 **32**

- ① 生存権
- ② 参政権
- ③ 社会権
- ④ 自由権

問25 次の文章を読み、下の問い(1), (2)に答えなさい。

1951年 [a] で、第二次世界大戦（WWII）の連合国側と日本の間で講和条約が締結され、日本とアメリカとの間では安全保障条約が締結された。その後、1960年には日米安全保障条約の改定をめぐり国論は二分し、新条約の発効後、[b] 内閣は総辞職した。次の池田^{はやと}勇人内閣は経済を重視する方針を打ち出した。

- (1) 上の文章中の空欄 [a], [b] に当てはまる語の組み合わせとして最も適切なものを、次の①～④の中から一つ選びなさい。 **33**

	a	b
①	ポツダム	吉田茂
②	ポツダム	岸 ^{のぶすけ} 信介
③	サンフランシスコ	吉田茂
④	サンフランシスコ	岸信介

注) ポツダム (Potsdam), サンフランシスコ (San Francisco)

- (2) 下線部に関して、その政策を象徴するスローガンとして最も適切なものを、次の①～④の中から一つ選びなさい。 **34**

- ① 構造改革
- ② 規制緩和
- ③ 列島改造
- ④ 所得倍増

総合科目－20

問26 近代ドイツの統一に関する次の文章を読み、文章中の空欄 **a**、**b** に当てはまる語の組み合わせとして最も適当なものを、下の①～④の中から一つ選びなさい。

35

19世紀、ドイツ統一を進める中で、大ドイツ主義と小ドイツ主義という二つの考え方が存在した。大ドイツ主義は **a** 領内のドイツ人地域やボヘミア (Bohemia) を含めてドイツの統一を進めようとした動きで、小ドイツ主義は **a** を含めず **b** を中心にドイツの統一を進めようとした動きである。

	a	b
①	スイス	プロイセン
②	スイス	バイエルン
③	オーストリア	プロイセン
④	オーストリア	バイエルン

注) プロイセン (Prussia), バイエルン (Bavaria), オーストリア (Austria)

問27 19世紀のメキシコ (Mexico) に関する次の文章を読み、文章中の空欄 **a**、**b** に当てはまる語の組み合わせとして最も適当なものを、下の①～④の中から一つ選びなさい。

36

19世紀のメキシコでは、**a** 出身の大統領ファレス (Benito Juárez) とその改革に反対する勢力との間で内戦状態となった。ヨーロッパのいくつかの国はこれに乗じてアメリカ (America) 大陸への進出を図るため軍事介入をおこなった。特にフランスの **b** はオーストリア皇帝の弟をメキシコ皇帝に即位させたが、結局、敗退した。

	a	b
①	先住民	ナポレオン3世
②	先住民	ルイ16世
③	スペイン	ルイ16世
④	スペイン	ナポレオン3世

注) ナポレオン3世 (Napoléon III), ルイ16世 (Louis XVI), スペイン (Spain)

問28 次の文章を読み、下の問い(1), (2)に答えなさい。

19世紀後半に、日本は近代国家の建設に着手した。さまざまな法律が制定され、1889年には 1憲法が発布された。法治国家としての仕組みを整えることは、 2幕末に結んだ条約を改正するために必要なことでもあった。

(1) 下線部 1 に関して、この憲法の説明として最も適当なものを、次の①～④の中から一つ選びなさい。 37

- ① 平等主義に基づき、男女の平等を明記した。
- ② 世界で最初に社会権の保障を明記した。
- ③ 連邦制の採用により、権力の分散化を図った。
- ④ 東アジア (East Asia) で最初の近代憲法であり、立憲君主制を採用した。

(2) 下線部 2 に関して、なぜ政府は条約の改正を目指したのか。その理由として最も適当なものを、次の①～④の中から一つ選びなさい。 38

- ① 国内の治安維持を理由として外国の軍隊の駐留を許していたから
- ② 日本に関税自主権がなく、外国に領事裁判権を認めていたから
- ③ 横浜や神戸などの租借が強要されていたから
- ④ 政府顧問として内閣に外国人を任用することが義務付けられていたから

総合科目－22

問29 第一次世界大戦（WW I）終結後の1920年代の出来事として最も適当なものを、
次の①～④の中から一つ選びなさい。

39

- ① ドイツは賠償金の支払いを免れた結果、経済は急速に復興した。
- ② ロシアでは再び帝政が復活した。
- ③ トルコ（Turkey）ではオスマン（Ottoman）帝国が滅亡し、トルコ共和国が誕生した。
- ④ アメリカは国際連盟（League of Nations）の常任理事国として国際社会の再建を主導した。

総合科目の問題はこれで終わりです。解答欄の **40** ～ **60** はマークしないでください。

この問題冊子を持ち帰ることはできません。