

平成23年度（2011年度）日本留学試験

# 総合科目

(80分)

## I 試験全体に関する注意

1. 係員の許可なしに、部屋の外に出ることはできません。
2. この問題冊子を持ち帰ることはできません。

## II 問題冊子に関する注意

1. 試験開始の合図があるまで、この問題冊子の中を見ないでください。
2. 試験開始の合図があったら、下の欄に、受験番号と名前を、受験票と同じように記入してください。
3. この問題冊子は、20ページあります。
4. 足りないページがあったら、手をあげて知らせてください。
5. 問題冊子には、メモや計算などを書いてもいいです。

## III 解答用紙に関する注意

1. 解答は、解答用紙に鉛筆（HB）で記入してください。
2. 各問題には、その解答を記入する行の番号 **1**，**2**，**3**，…がついています。解答は、解答用紙（マークシート）の対応する解答欄にマークしてください。
3. 解答用紙に書いてある注意事項も必ず読んでください。

※ 試験開始の合図があったら、必ず受験番号と名前を記入してください。

受験番号			*				*					
名前												

問1 次の会話を読み、下の問い(1)～(4)に答えなさい。

よし子：今日の授業では、エマニュエル・トッド (Emmanuel Todd) というフランス (France) の学者のことに触れていらっしゃいましたね。

先生：トッドは、現代のフランスを代表する知識人で、かつて 1 ソ連 (USSR) の崩壊を予想して有名になった人です。最近では、グローバルな 2 自由貿易の行き過ぎを批判しています。

よし子：近年、日本をはじめとする先進各国は 3 深刻なデフレーションに陥っていると、トッドは分析しているのですね。

先生：そうです。さらに、トッドは 4 経済のグローバル化の進展とデフレーションとの関係を指摘しています。

## 総合科目－2

- (1) 下線部 1 に関して、ソ連の崩壊を巡る次の出来事A～Dを年代順に並べたものとして正しいものを、下の①～④の中から一つ選びなさい。

1

A：ベルリン（Berlin）の壁の崩壊

B：ペレストロイカの開始

C：独立国家共同体（CIS）の創設

D：ゴルバチョフ（Mikhail Gorbachev）の共産党書記長就任

- ① A → C → B → D  
② B → D → C → A  
③ C → D → A → B  
④ D → B → A → C

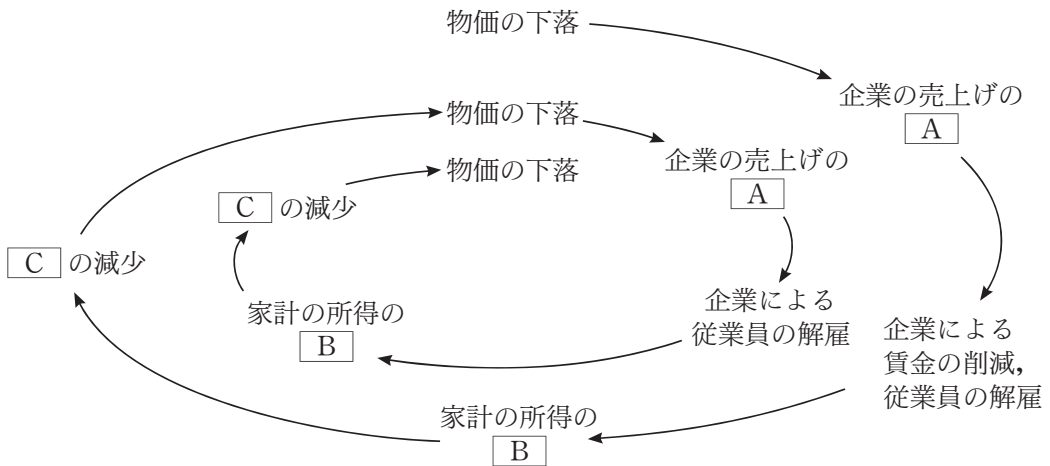
- (2) 下線部 2 に関して、自由貿易の利点の理論的根拠を提示したといわれる人物とその人物の著作の組み合わせとして最も適当なものを、次の①～④の中から一つ選びなさい。

2

	人物	著作
①	マルクス（Karl Marx）	『資本論』
②	リカード（David Ricardo）	『経済学および課税の原理』
③	リスト（Friedrich List）	『政治経済学の国民的体系』
④	ケインズ（John Maynard Keynes）	『雇用・利子および貨幣の一般理論』

(3) 下線部 3 に関して、日本ではデフレ・スパイラルと呼ばれる現象が生じたと指摘されている。デフレ・スパイラルを説明した次の図を見て、図中の空欄A～Cに当てはまる語の組み合わせとして最も適当なものを、下の①～④の中から一つ選びなさい。

**3**



	A	B	C
①	増大	増大	需要
②	増大	減少	供給
③	減少	増大	供給
④	減少	減少	需要

(4) 下線部 4 に関して、トッドが指摘している経済のグローバル化の進展と先進国のデフレーションとの関係の説明として最も適当なものを、次の①～④の中から一つ選びなさい。

**4**

- ① 新興国への投資が増大し、国内の地価や人件費が急激に上昇する。
- ② 新興国から大勢の移民が入国し、国内の需要が大幅に増大する。
- ③ 新興国から安い物品が大量に輸入され、国内の物価が下落する。
- ④ 新興国への輸出が大幅に増大し、国内への農産物や工業製品の供給が不足する。

## 総合科目－4

問2 次の文章を読み、下の問い(1)～(4)に答えなさい。

アフリカ (Africa) の西岸に位置するリベリア (Liberia) は、アメリカ (USA) からの解放奴隷が1847年に建国した共和国である。そのため、1政治制度などは、アメリカの影響を受けている。年間を通して気温は高く、季節風の影響で降水量の多い季節がある。気候区分は、a気候とサバナ気候に分かれる。リベリアは天然資源が豊富な国であり、また 2便宜置籍国としても知られている。

(1) リベリアはアフリカ各地が列強の植民地となった20世紀初めにも独立を維持した国である。この時期にリベリアとともに独立を維持した国はどこか。その国名として最も適当なものを、次の①～④の中から一つ選びなさい。

5

- ① エチオピア (Ethiopia)
- ② エジプト (Egypt)
- ③ モロッコ (Morocco)
- ④ カメルーン (Cameroon)

(2) 下線部1に関して、リベリアが参考にしたアメリカの政治制度の説明として最も適当なものを、次の①～④の中から一つ選びなさい。

6

- ① 一院制の議会在設置され、大統領制が採用されている。
- ② 二院制の議会在設置され、大統領制が採用されている。
- ③ 一院制の議会在設置され、議院内閣制が採用されている。
- ④ 二院制の議会在設置され、議院内閣制が採用されている。

(3) 上の文章中の空欄 **a** に当てはまる気候区分として最も適当なものを、次の①～④の中から一つ選びなさい。

**7**

- ① ステップ
- ② 熱帯雨林
- ③ 地中海性
- ④ 西岸海洋性

(4) 下線部 **2** に関して、特に先進国の船主は節税などを目的に、優遇税制を採っていたり規制が少なかったりする国に船籍を置くことが多い。このように事実上の船主の国籍と異なる国に船籍が置かれた船舶を便宜置籍船といい、船舶の誘致を図っている国を便宜置籍国という。便宜置籍国として知られる外航船舶保有量が最大の国として最も適当なものを、次の①～④の中から一つ選びなさい。

**8**

- ① ノルウェー (Norway)
- ② イギリス (UK)
- ③ パナマ (Panama)
- ④ シンガポール (Singapore)

## 総合科目－6

問3 資本主義経済における経済主体の説明として最も適当なものを、次の①～④の中から一つ選びなさい。

9

- ① 家計は、労働力を提供することで、企業と政府の提供する財・サービスを受ける。
- ② 資本主義経済の主な経済主体は、政府、家計、企業、地主の四つである。
- ③ 企業は、労働、資本、土地などの生産要素を用いて生産活動をおこなう。
- ④ 企業は利潤の一部を租税として政府に納め、政府への納税額に比例して公共サービスを受ける。

問4 株式会社に関する記述として最も適当なものを、次の①～④の中から一つ選びなさい。

10

- ① 株式会社は、利益が出なくても、株主に対して配当金を支払わなければならない。
- ② 株式会社は、株主に対して出資金を返済する義務はない。
- ③ 株式会社は、資金を調達する場合、株式を発行しなければならない。
- ④ 株式会社が倒産した場合、株主は出資額の範囲を超えて責任を負わなければならない。

問5 アメリカのレーガン (Ronald Reagan) 政権下では、厳しい金融引き締め、大規模な減税、軍事費の増額といった政策が採られた。その結果として生じたことの組み合わせとして最も適当なものを、次の①～④の中から一つ選びなさい。

11

	財政赤字	金利
①	拡大	高金利
②	拡大	低金利
③	縮小	高金利
④	縮小	低金利

問6 中央銀行の機能として正しくないものを、次の①～④の中から一つ選びなさい。

12

- ① 政府資金に関する業務をおこなう「政府の銀行」である。
- ② 民間企業への融資をおこなう「企業の銀行」である。
- ③ 現金通貨である銀行券を発行する「発券銀行」である。
- ④ 市中銀行との間で預金・貸出をおこなう「銀行の銀行」である。



## 総合科目－8

問7 国債発行に関する記述として最も適当なものを，次の①～④の中から一つ選びなさい。 **13**

- ① 日本では近年の行財政改革にもかかわらず，国債残高は一貫して増え続けている。
- ② アメリカでは財政再建がおこなわれ，2000年以降国債は発行されていない。
- ③ OECD加盟国以外では現在，国債は発行されていない。
- ④ ギリシャ（Greece）では2010年に財政危機が発生したが，これは国債残高が世界最大であったためである。

問8 日本では歳出全体から地方交付税交付金等および国債費を除いたものを「一般歳出」と呼ぶ。2008年度の一般歳出の中で一番割合が大きいものを，次の①～④の中から一つ選びなさい。 **14**

- ① 防衛費
- ② 公共事業費
- ③ 社会保障費
- ④ 文教および科学振興費

問9 世界銀行に関する記述として最も適当なものを，次の①～④の中から一つ選びなさい。 **15**

- ① スミソニアン（Smithsonian）協定によって，1945年に設立された。
- ② 先進国の多くは世界銀行に加盟していない。
- ③ IMFの一機関として外国為替相場の安定に貢献している。
- ④ 第二次世界大戦後の復興や途上国の開発のための長期融資を主な業務としてきた。

総合科目－10

問11 WTOの発足を決めたGATTのラウンドとして正しいものを、次の①～④の中から一つ選びなさい。

**17**

- ① ケネディ・ラウンド (Kennedy Round)
- ② 東京ラウンド
- ③ ドーハ・ラウンド (Doha Round)
- ④ ウルグアイ・ラウンド (Uruguay Round)

問12 次に示すA～Dの中に大都市の自動車の渋滞対策として適当なものが二つある。その組み合わせとして最も適当なものを、下の①～④の中から一つ選びなさい。

**18**

A：地下鉄，バス，鉄道などの公共交通機関をさらに整備する。

B：ガソリンへの課税を軽減する。

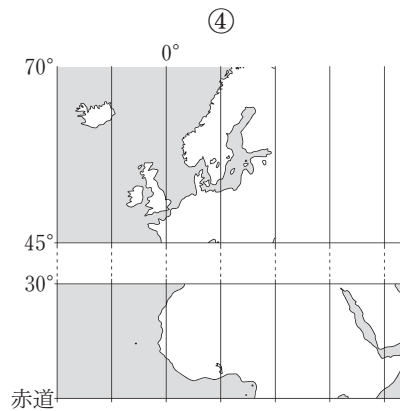
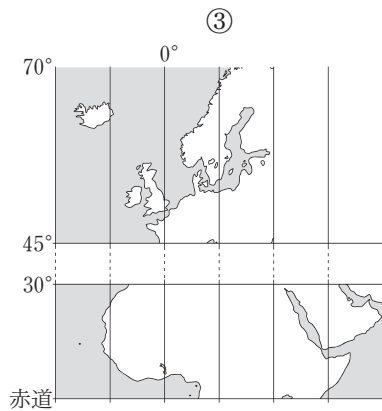
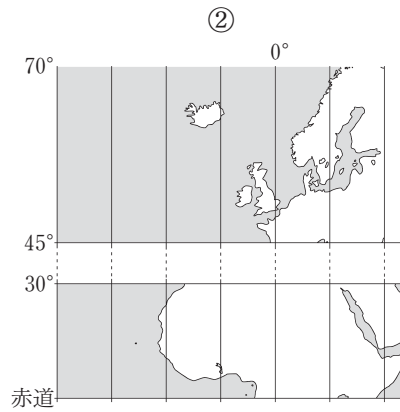
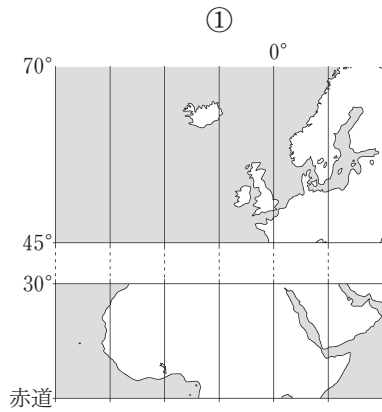
C：自動車の購入を希望する者に補助金を出す。

D：大都市に自動車を乗り入れる場合，料金を課す。

- ① AとB
- ② AとD
- ③ BとD
- ④ CとD

問13 次の図は、ヨーロッパ (Europe) の北緯45度から北緯70度までの海岸線と、アフリカの赤道から北緯30度までの海岸線、および15度間隔の経線を描いたものである。ヨーロッパとアフリカの位置関係を示す図として正しいものを、次の①～④の中から一つ選びなさい。

19



問14 世界の国や地域の標準時に関する記述として最も適当なものを、次の①～④の中から一つ選びなさい。 20

- ① 日本は、明石市を通る東経135度の子午線を基準にした標準時を全国で用いているため、日の出・日の入りの時刻は全国どこでも同一である。
- ② 標準時は国・地域ごとに定められているので、同じ経度の子午線が通過している南北に隣接する二つの国でも、それぞれ異なる標準時を用いている場合がある。
- ③ EUに加盟しているヨーロッパの国々では、経済的統合を図るためには時間も統一したほうがよいとの考え方から、同じ標準時を用いている。
- ④ アメリカではハワイ (Hawaii) とアラスカ (Alaska) を除く本土地域が四つの時間帯に分かれているため、東海岸のニューヨーク (New York) が午前10時のとき、西海岸のロサンゼルス (Los Angeles) では午後1時である。

問15 次の文章を読み、文章中の空欄 a、b に当てはまる国名の組み合わせとして最も適当なものを、下の①～④の中から一つ選びなさい。 21

エネルギー構成は国によって相違が見られる。発電量に占める原子力の割合が最も大きいのは、a である。近年は、太陽光やb で活発におこなわれている風力などを用いた発電も、再生可能エネルギーとして注目を集めている。

	a	b
①	アメリカ	デンマーク
②	アメリカ	ニュージーランド
③	フランス	デンマーク
④	フランス	ニュージーランド

注) デンマーク (Denmark), ニュージーランド (New Zealand)

問18 日本国憲法で定められた日本の国会の任務として正しいものを，次の①～④の中から一つ選びなさい。

**24**

- ① 条約の締結
- ② 予算案の提出
- ③ 内閣総理大臣の指名
- ④ 衆議院の解散の決定

問19 1925年に成立した日本の普通選挙法に関して，次の問い(1)，(2)に答えなさい。

(1) この普通選挙法で撤廃された選挙権の制限基準は何であったか。正しいものを，次の①～④の中から一つ選びなさい。

**25**

- ① 身分
- ② 国籍
- ③ 性別
- ④ 納税額

(2) 政府は，当時の国際情勢や国内情勢を考慮し，急進的な社会変革がおこなわれないように，普通選挙法の成立とほぼ同時に治安維持法を定めた。治安維持法とは，どのような思想や運動を取り締まる目的で導入されたものか。最も適当なものを，次の①～④の中から一つ選びなさい。

**26**

- ① 共産主義
- ② 軍国主義
- ③ 功利主義
- ④ 民主主義

問20 2002年に日本で制定された知的財産基本法の目的として最も適当なものを、次の①～④の中から一つ選びなさい。

**27**

- ① 新しい技術や製品，創作の複製を自由化し，それらが国家の枠を超えて世界中で容易に利用されるようにする。
- ② 新しい技術や製品，創作を国家が管理し，さまざまな開発や創造が国家の利益につながるようにする。
- ③ 知的財産の保護を図り，さまざまな開発や創造が活発におこなわれるようにする。
- ④ 著作権者による知的財産の占有をなくし，新しい技術や製品，創作が広く社会に共有されるようにする。

問21 日本における基本的人権や国民の権利に関する記述として最も適当なものを、次の①～④の中から一つ選びなさい。

**28**

- ① 思想や言論の自由は自由権に，財産権や職業選択の自由は社会権に属する。
- ② 環境権やプライバシー権，知る権利など，憲法に規定されていない諸権利は，新しい人権と呼ばれる。
- ③ 日本国憲法では，団結権・団体交渉権は認められているが，団体行動権は認められていない。
- ④ 日本国憲法は，子どもに教育を受けさせることを国民の義務としているが，教育を受ける権利については規定していない。

問22 日本の司法制度に関する記述として最も適当なものを、次の①～④の中から一つ選びなさい。

**29**

- ① 司法権の独立という観点から、司法権はすべて最高裁判所と下級裁判所に属する。
- ② プライバシー保護のため、すべての裁判は非公開でおこなわれる。
- ③ 政府の機能が拡大し、行政訴訟が増えたため、行政裁判所が新設された。
- ④ 法律や条令などが憲法に適合するか否かを判断する憲法裁判所が設置されている。

問23 日本の地方自治体がおこなう仕事は、法定受託事務と自治事務の2種類に分けられる。法定受託事務とは、本来国が果たすべき役割であるが、国民の利便性から地方自治体が処理する事務のことであり、自治事務とは、それ以外の、地方に固有の事務のことである。法定受託事務の例として最も適当なものを、次の①～④の中から一つ選びなさい。

**30**

- ① 都市計画の策定
- ② 病院開設の許可
- ③ 飲食店営業の許可
- ④ 戸籍・外国人登録の事務

問24 1993年に発効したマーストリヒト条約 (Maastricht Treaty) によって、EUが誕生した。これによって実施されたこととして最も適当なものを、次の①～④の中から一つ選びなさい。

**31**

- ① EU市民権の創設
- ② EU軍の創設
- ③ 共通農業政策
- ④ 域内諸国間の関税の撤廃

問25 1994年に発効した国連海洋法条約では、領海や排他的経済水域などに関する取り決めが明文化された。これに関する説明として最も適当なものを、次の①～④の中から一つ選びなさい。

**32**

- ① 基線から200海里の範囲は領海と定められ、領海には沿岸国の主権が及ぶ。
- ② 領海外は公海とされ、各国が自由に使用、航行できる。
- ③ 排他的経済水域の航行には沿岸国の許可が必要である。
- ④ 排他的経済水域では沿岸国が漁業や天然資源開発などの経済的主権を有する。



問26 プロイセン (Prussia) の首相で、ドイツ帝国の宰相をつとめたビスマルク (Otto von Bismarck) に関する記述として最も適当なものを、次の①～④の中から一つ選びなさい。

**33**

- ① フランスとの友好関係を背景に、東方への領土拡大を目指した。
- ② ウィーン (Vienna) 会議を主宰し、列強の勢力均衡を図った。
- ③ 貿易によって経済を活性化させるため、自由貿易を推進した。
- ④ 鉄血政策を展開して軍備を拡張する一方、国内では社会保険制度を整備した。

問27 1858年に調印された日米修好通商条約の内容として最も適当なものを、次の①～④の中から一つ選びなさい。

**34**

- ① 日本がヨーロッパ列強から攻撃を受けた際には、アメリカが日本を防衛する。
- ② アメリカは貿易に用いる港として長崎と神戸を99年間租借する。
- ③ 貿易は許可を受けた業者だけに限定され、貿易品目も食料品に限定される。
- ④ 日本に滞在するアメリカ人による日本人への犯罪は、アメリカの法律に基づいてアメリカの領事が裁判をおこなう。

問28 1902年に締結された日英同盟の目的に関する記述として最も適当なものを、次の①～④の中から一つ選びなさい。

**35**

- ① 覇権国となったアメリカに対抗するため
- ② ロシアの南下政策に対抗するため
- ③ ドイツの中国進出を阻止するため
- ④ 第一次世界大戦後の国際協調体制を維持するため

問29 日本の高度経済成長下の1960年代に制定された法律として最も適当なものを、次の

①～④の中から一つ選びなさい。

**36**

- ① 公害対策基本法
- ② 労働基準法
- ③ 石油備蓄法
- ④ 製造物責任（PL）法

問30 次のA～Dは国際的な機構や枠組みである。これらがつくられた順に並べるとどのようになるか。正しいものを、下の①～④の中から一つ選びなさい。

**37**

A：ASEAN

B：APEC

C：OPEC

D：NAFTA

- ① B → C → D → A
- ② B → D → A → C
- ③ C → A → B → D
- ④ C → D → B → A

総合科目の問題はこれで終わりです。解答欄の **38** ～ **60** はマークしないでください。

この問題冊子を持ち帰ることはできません。