

数学（80分）

【コース1（基本, Basic）・コース2（上級, Advanced）】

※ どちらかのコースを一つだけ選んで解答してください。

I 試験全体に関する注意

1. 係員の許可なしに、部屋の外に出ることはできません。
2. この問題冊子を持ち帰ることはできません。

II 問題冊子に関する注意

1. 試験開始の合図があるまで、この問題冊子の中を見ないでください。
2. 試験開始の合図があったら、下の欄に、受験番号と名前を、受験票と同じように記入してください。
3. コース1は1～13ページ、コース2は15～27ページにあります。
4. 足りないページがあったら、手をあげて知らせてください。
5. メモや計算などを書く場合は、問題冊子に書いてください。

III 解答方法に関する注意

1. 解答は、解答用紙に鉛筆(HB)で記入してください。
2. 問題文中のA, B, C, …には、それぞれ－(マイナスの符号)、または、0から9までの数が一つずつ入ります。あてはまるものを選び、解答用紙(マークシート)の対応する解答欄にマークしてください。
3. 同一の問題文中に \boxed{A} , \boxed{BC} などが繰り返し現れる場合、2度目以降は、 \boxed{A} , \boxed{BC} のように表しています。

解答に関する記入上の注意

- (1) 根号($\sqrt{\quad}$)の中に現れる自然数が最小となる形で答えてください。
(例： $\sqrt{32}$ のときは、 $2\sqrt{8}$ ではなく $4\sqrt{2}$ と答えます。)
- (2) 分数を答えるときは、符号は分子につけ、既約分数(reduced fraction)にして答えてください。

(例： $\frac{2}{6}$ は $\frac{1}{3}$ 、 $-\frac{2}{\sqrt{6}}$ は $-\frac{2\sqrt{6}}{6}$ と分母を有理化してから約分し、 $-\frac{\sqrt{6}}{3}$ と答えます。)

- (3) $\frac{\boxed{A}\sqrt{\boxed{B}}}{\boxed{C}}$ に $-\frac{\sqrt{3}}{4}$ と答える場合は、下のようにマークしてください。
- (4) $\boxed{DE}x$ に $-x$ と答える場合は、Dを－、Eを1とし、下のようにマークしてください。

【解答用紙】

A	<input checked="" type="radio"/>	0	1	2	3	4	5	6	7	8	9
B	<input type="radio"/>	0	1	2	<input checked="" type="radio"/>	4	5	6	7	8	9
C	<input type="radio"/>	0	1	2	3	<input checked="" type="radio"/>	5	6	7	8	9
D	<input checked="" type="radio"/>	0	1	2	3	4	5	6	7	8	9
E	<input type="radio"/>	0	<input checked="" type="radio"/>	2	3	4	5	6	7	8	9

4. 解答用紙に書いてある注意事項も必ず読んでください。

※ 試験開始の合図があったら、必ず受験番号と名前を記入してください。

受験番号			*				*					
名前												

数学 コース 1

(基本コース)

(コース2は 15 ページからです)

「解答コース」記入方法

解答コースには「コース1」と「コース2」がありますので、どちらかのコースを一つだけ選んで解答してください。「コース1」を解答する場合は、右のように、解答用紙の「解答コース」の「コース1」を○で囲み、その下のマーク欄をマークしてください。

< 解答用紙記入例 >

解答コース Course	
コース 1 Course 1	コース 2 Course 2
<input checked="" type="radio"/>	<input type="radio"/>

選択したコースを正しくマークしないと、採点されません。

数学-2

I

問 1 2 次関数

$$y = 3x^2 - 6$$

を考える。

- (1) $y = 3x^2 - 6$ のグラフを平行移動して、2 点 $(1, 5)$, $(4, 14)$ を通るようにする。このとき、このグラフを表す 2 次関数は

$$y = \boxed{\text{A}}x^2 - \boxed{\text{BC}}x + \boxed{\text{DE}} \quad \dots\dots\dots \textcircled{1}$$

である。このグラフは、 $y = 3x^2 - 6$ のグラフを x 軸方向に $\boxed{\text{F}}$, y 軸方向に $\boxed{\text{G}}$ 平行移動したものである。

- (2) 直線 $y = c$ に関して $y = 3x^2 - 6$ のグラフと対称なグラフを表す 2 次関数は

$$y = -\boxed{\text{H}}x^2 + \boxed{\text{I}}c + \boxed{\text{J}} \quad \dots\dots\dots \textcircled{2}$$

である。

2 次関数 $\textcircled{1}$ と $\textcircled{2}$ のグラフが共有点を 1 つだけもつとき、 $c = \boxed{\text{K}}$ であり、共有点の座標は $(\boxed{\text{L}}, \boxed{\text{M}})$ である。

注) 対称な : symmetric

- 計算欄 (memo) -

数学-4

問 2 白いカードが 4 枚, 赤いカードが 3 枚, 黒いカードが 3 枚あり, これら 10 枚のカードにはすべて異なる数字が記されている。

(1) 10 枚のカードから 2 枚のカードを選び, それらを 2 つの箱 A, B に 1 枚ずつ入れる。この入れ方は全部で $\boxed{\text{NO}}$ 通りある。

(2) 10 枚のカードから 2 枚のカードを選ぶ。2 枚とも同じ色となるような選び方は $\boxed{\text{PQ}}$ 通りあり, 2 枚の色が異なるような選び方は $\boxed{\text{RS}}$ 通りある。

次に, この 10 枚のカードを 1 つの箱に入れ, その中からカードを 1 枚ずつ 2 度取り出す。ただし, 最初に取り出したカードは箱に戻さないものとする。

(3) 取り出した 2 枚のカードが同じ色である確率は $\frac{\boxed{\text{T}}}{\boxed{\text{UV}}}$ である。

(4) 最初に取り出したカードの色が白か赤であり, 2 度目に取り出したカードの色が赤か黒である確率は $\frac{\boxed{\text{WX}}}{\boxed{\text{YZ}}}$ である。

- 計算欄 (memo) -

I の問題はこれで終わりです。

II

問 1 x の方程式

$$|x-3| + |x-6| = ax + b \quad \dots\dots\dots \textcircled{1}$$

が解をもつような実数 a, b について考えよう。

まず、 $\textcircled{1}$ の左辺を $y = |x-3| + |x-6|$ とおいて、絶対値の記号を用いずに表すと

$$\begin{aligned} x < \boxed{\text{A}} \text{ のとき,} & \quad y = -\boxed{\text{B}}x + \boxed{\text{C}} \\ \boxed{\text{A}} \leq x < \boxed{\text{D}} \text{ のとき,} & \quad y = \boxed{\text{E}} \\ \boxed{\text{D}} \leq x \text{ のとき,} & \quad y = \boxed{\text{F}}x - \boxed{\text{G}} \end{aligned}$$

となる。

次に、 xy 平面において、この関数のグラフと直線 $y = ax + b$ との共有点を考えると、次のことがわかる。

(i) $a = 1$ のとき、 $\textcircled{1}$ が解をもつような b の値の範囲は $b \geq \boxed{\text{HI}}$ である。

(ii) $b = 6$ のとき、 $\textcircled{1}$ が異なる 2 つの解をもつような a の値の範囲は $\boxed{\text{JK}} < a < \boxed{\text{L}}$ である。

注) 絶対値 : absolute value

- 計算欄 (memo) -

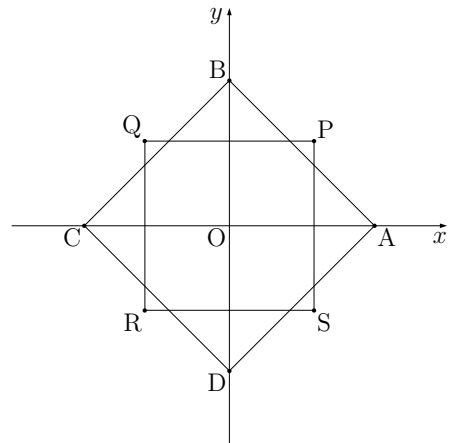
数学一8

問2 右図のような2つの正方形を考える。頂点の座標を

$$\begin{aligned} A(2t, 0), \quad B(0, 2t), \quad C(-2t, 0), \quad D(0, -2t), \\ P(4-t^2, 4-t^2), \quad Q(-4+t^2, 4-t^2), \\ R(-4+t^2, -4+t^2), \quad S(4-t^2, -4+t^2) \end{aligned}$$

とする。ただし、 $0 < t < 2$ である。

また、正方形 ABCD と正方形 PQRS の面積をそれぞれ S_1, S_2 とおく。



このとき

$$S_1 = \boxed{\text{M}} t^2, \quad S_2 = \boxed{\text{N}} (t^2 - \boxed{\text{O}})^2$$

である。

(1) $S_1 + S_2$ は $t = \sqrt{\boxed{\text{P}}}$ のとき最小値 $\boxed{\text{QR}}$ をとる。

(2) 次の文中の $\boxed{\text{W}}$, $\boxed{\text{X}}$ には、下の選択肢 ① ~ ⑨ の中から適するものを選び、他の $\boxed{\quad}$ には適する数を入れなさい。

$S_1 < S_2$ となる t の範囲を求めよう。

$S_1 < S_2$ とすると、 t は不等式

$$t^4 - \boxed{\text{ST}} t^2 + \boxed{\text{UV}} > 0$$

を満たす。この不等式から、 t^2 について $\boxed{\text{W}}$ を得る。

したがって、 $S_1 < S_2$ となるのは t が $\boxed{\text{X}}$ を満たすときである。

- | | | |
|---------------------------|----------------------|---------------------------|
| ① $t^2 < 4$ または $6 < t^2$ | ④ $4 < t^2 < 6$ | ⑦ $t^2 < 2$ または $8 < t^2$ |
| ② $2 < t^2 < 8$ | ⑤ $t^2 \neq 4$ | ⑧ $0 < t < 2$ |
| ③ $0 < t < \sqrt{2}$ | ⑥ $\sqrt{2} < t < 2$ | ⑨ $2 < t < \sqrt{6}$ |
| ④ $t \neq 2$ | | |

- 計算欄 (memo) -

II の問題はこれで終わりです。II の解答欄 Y , Z はマークしないでください。

III

n は正の整数, x, y は負でない整数とし, 次の x, y の方程式を考える。

$$x^2 - y^2 = n \quad \dots\dots\dots \textcircled{1}$$

このとき, ① の解を調べよう。

まず, ① を変形して

$$(x + y)(x - y) = n \quad \dots\dots\dots \textcircled{2}$$

を得る。

(1) $n = 8$ および $n = 9$ のとき, ① の解 (x, y) を求めると

$n = 8$ のとき, $(x, y) = (\boxed{\text{A}}, \boxed{\text{B}})$ であり,

$n = 9$ のとき, $(x, y) = (\boxed{\text{C}}, \boxed{\text{D}}), (\boxed{\text{E}}, \boxed{\text{F}})$ である。

ただし, $\boxed{\text{C}} < \boxed{\text{E}}$ となるように答えなさい。

(III) は次ページに続く)

- (2) 次の文中の **G** ~ **R** には, 下の選択肢 ① ~ ⑨の中から適するものを選びなさい。

次の文章は, 下の条件 ③が, ①が解をもつための必要十分条件であることの証明である。

証明 まず, (x, y) が ①を満たすとする。

x, y がともに偶数かともに奇数であれば, $x + y$ および $x - y$ は **G** である。よって, ②より, n は **H** の倍数となる。

次に, x, y の一方が偶数で, 他方が奇数であれば, $x + y$ および $x - y$ は **I** であるから, n は **J** である。

したがって

「 n が **H** の倍数か, または **J** である。」 …… ③

は, ①が解をもつための必要条件である。

逆に, n が条件 ③を満たすとする。

n が **H** の倍数であれば, $n = \text{H} k$ (k は正の整数) と表される。そこで, 例えば, $x + y = \text{K} k$, $x - y = 2$ とすれば, $(x, y) = (k + \text{L}, k - \text{M})$ となるので, ①は解をもつことになる。

また, n が **J** であれば, $n = \text{N} \ell + \text{O}$ (ℓ は負でない整数) と表される。そこで, 例えば, $x + y = \text{P} \ell + \text{Q}$, $x - y = 1$ とすれば, $(x, y) = (\ell + \text{R}, \ell)$ となるので, ①は解をもつことになる。

以上から, ①が解をもつための必要十分条件は ③である。

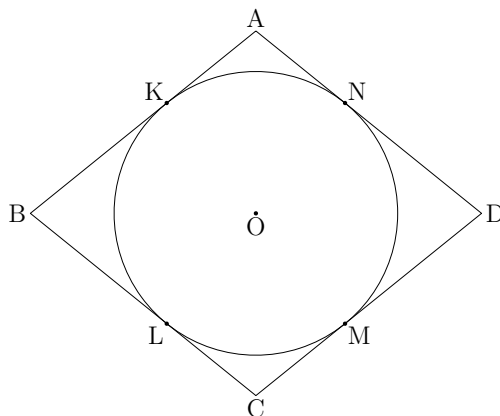
- ① 0 ② 1 ③ 2 ④ 3 ⑤ 4 ⑥ 5 ⑦ 6
 ⑧ 偶数 ⑨ 奇数 ⑩ 素数

III の問題はこれで終わりです。 **III** の解答欄 **S** ~ **Z** はマークしないでください。

IV

a は定数とする。1 辺の長さが a のひし形 ABCD を考える。

ひし形 ABCD の内接円 O の半径を r とし、図のように、円 O とひし形との接点をそれぞれ K, L, M, N とおく。また、ひし形からその内接円を除いた部分の面積を S とする。



このとき、 r の値の範囲と、 S の最大値を求めよう。

- (1) 次の文中の **A** ~ **C** には、下の選択肢 ① ~ ⑨の中から適するものを選びなさい。

$\angle ABO = \theta$ とおくと、 $OB = \mathbf{A}$ であるから、 $OK = \mathbf{B}$ である。したがって、 $(\cos \theta - \sin \theta)^2 \geq 0$ より、 r のとる値の範囲は

$$0 < r \leq \mathbf{C} \quad \dots\dots\dots \text{①}$$

である。

- | | | |
|---------------------|---------------------|-------------------------------|
| ① a | ④ $\frac{a}{2}$ | ⑦ $\frac{a}{3}$ |
| ② $a \sin \theta$ | ⑤ $a \cos \theta$ | ⑧ $a \tan \theta$ |
| ③ $a \sin^2 \theta$ | ⑥ $a \cos^2 \theta$ | ⑨ $a \sin \theta \cos \theta$ |
| | | ⑩ $a \tan^2 \theta$ |

(**IV**) は次ページに続く)

注) ひし形 : rhombus, 内接円 : inscribed circle

- (2) 次の文中の **D** ~ **F** には、下の選択肢 ① ~ ⑨の中から適するものを選びなさい。

面積 S を r を用いて表すと

$$S = \mathbf{D}$$

である。ここで、**D** の値を最大にする r の値 **E** は、①を満たす。したがって、 $r = \mathbf{E}$ のとき、 S は最大値 **F** をとる。

- | | | | | | | | |
|---|--------------------|---|--------------------------|---|---------------------------|---|--------------------------|
| ① | $2ar - \pi r^2$ | ④ | $ar - \frac{\pi}{2} r^2$ | ⑦ | $\frac{a}{2} r - \pi r^2$ | ⑩ | $\frac{ar - \pi r^2}{2}$ |
| ② | $\frac{2a}{\pi}$ | ⑤ | $\frac{a}{\pi}$ | ⑧ | $\frac{a}{2\pi}$ | ⑪ | |
| ③ | $\frac{4a^2}{\pi}$ | ⑥ | $\frac{a^2}{\pi}$ | ⑨ | $\frac{a^2}{4\pi}$ | ⑫ | |

IV の問題はこれで終わりです。**IV** の解答欄 **G** ~ **Z** はマークしないでください。

コース1の問題はこれですべて終わりです。解答用紙の **V** はマークしないでください。

解答用紙の解答コース欄に「コース1」が正しくマークしてあるか、
もう一度確かめてください。

この問題冊子を持ち帰ることはできません。

数学 コース 2

(上級コース)

「解答コース」記入方法

解答コースには「コース1」と「コース2」がありますので、どちらかのコースを一つだけ選んで解答してください。「コース2」を解答する場合は、右のように、解答用紙の「解答コース」の「コース2」を○で囲み、その下のマーク欄をマークしてください。

＜ 解答用紙記入例 ＞

解答コース Course	
コース 1 Course 1	<div style="border: 1px solid black; border-radius: 50%; padding: 2px; display: inline-block;"> コース 2 Course 2 </div>
○	●

選択したコースを正しくマークしないと、採点されません。

I

問 1 2 次関数

$$y = 3x^2 - 6$$

を考える。

- (1) $y = 3x^2 - 6$ のグラフを平行移動して、2 点 $(1, 5)$, $(4, 14)$ を通るようにする。このとき、このグラフを表す 2 次関数は

$$y = \boxed{\text{A}}x^2 - \boxed{\text{BC}}x + \boxed{\text{DE}} \quad \dots\dots\dots \text{①}$$

である。このグラフは、 $y = 3x^2 - 6$ のグラフを x 軸方向に $\boxed{\text{F}}$, y 軸方向に $\boxed{\text{G}}$ 平行移動したものである。

- (2) 直線 $y = c$ に関して $y = 3x^2 - 6$ のグラフと対称なグラフを表す 2 次関数は

$$y = -\boxed{\text{H}}x^2 + \boxed{\text{I}}c + \boxed{\text{J}} \quad \dots\dots\dots \text{②}$$

である。

2 次関数 ① と ② のグラフが共有点を 1 つだけもつとき、 $c = \boxed{\text{K}}$ であり、共有点の座標は $(\boxed{\text{L}}, \boxed{\text{M}})$ である。

注) 対称な : symmetric

- 計算欄 (memo) -

数学－18

問 2 白いカードが 4 枚，赤いカードが 3 枚，黒いカードが 3 枚あり，これら 10 枚のカードにはすべて異なる数字が記されている。

(1) 10 枚のカードから 2 枚のカードを選び，それらを 2 つの箱 A, B に 1 枚ずつ入れる。この入れ方は全部で $\boxed{\text{NO}}$ 通りある。

(2) 10 枚のカードから 2 枚のカードを選ぶ。2 枚とも同じ色となるような選び方は $\boxed{\text{PQ}}$ 通りあり，2 枚の色が異なるような選び方は $\boxed{\text{RS}}$ 通りある。

次に，この 10 枚のカードを 1 つの箱に入れ，その中からカードを 1 枚ずつ 2 度取り出す。ただし，最初に取り出したカードは箱に戻さないものとする。

(3) 取り出した 2 枚のカードが同じ色である確率は $\frac{\boxed{\text{T}}}{\boxed{\text{UV}}}$ である。

(4) 最初に取り出したカードの色が白か赤であり，2 度目に取り出したカードの色が赤か黒である確率は $\frac{\boxed{\text{WX}}}{\boxed{\text{YZ}}}$ である。

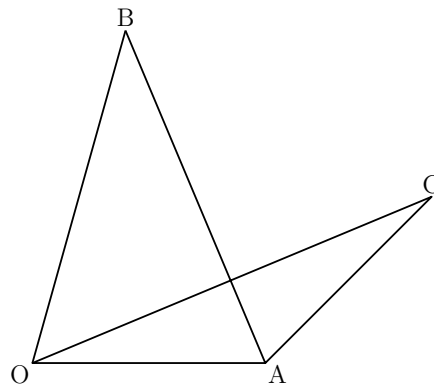
- 計算欄 (memo) -

I の問題はこれで終わりです。

II

問 1 右図のように、1 辺 OA を共有する三角形 OAB と三角形 OAC が、次の 2 つの条件を満たしているとする。

- (i) $\vec{OC} = x\vec{OA} + \frac{1}{2}\vec{OB}$
- (ii) 三角形 OAC の重心 G は線分 AB 上にある



このとき、 x の値を求め、 \vec{OG} を \vec{OA} と \vec{OB} を用いて表そう。

線分 OC と線分 AB の交点を D とおくと

$$\vec{OD} = \frac{x}{\boxed{\text{A}}}\vec{OA} + \frac{\boxed{\text{B}}}{\boxed{\text{C}}}\vec{OB}$$

となる。また、D は線分 AB 上にあるので、 $x = \frac{\boxed{\text{D}}}{\boxed{\text{E}}}$ を得る。

したがって

$$\vec{OG} = \frac{\boxed{\text{F}}}{\boxed{\text{G}}}\vec{OA} + \frac{\boxed{\text{H}}}{\boxed{\text{I}}}\vec{OB}$$

である。

特に、 $OA = 1$ 、 $OB = 2$ 、 $\angle AOB = 60^\circ$ のとき、 $OG = \frac{\sqrt{\boxed{\text{JK}}}}{\boxed{\text{L}}}$ となる。

注) 重心 : center of gravity

- 計算欄 (memo) -

数学-22

問 2 z は $|z| = 2$ を満たす複素数とする。原点を O とする複素数平面上で $1+z$, $1-\frac{1}{2}z$ を表す点をそれぞれ A , B とおく。

まず、複素数 z は

$$z = \boxed{\text{M}} (\cos \theta + i \sin \theta) \quad (-\pi \leq \theta < \pi)$$

と表すことができる。

(1) z が実数でないとき、三角形 OAB の面積 S は $S = \boxed{\text{N}}$ である。ただし、 $\boxed{\text{N}}$

には次の選択肢 ① ~ ⑧ の中から適するものを選びなさい。

したがって、 $\theta = \pm \frac{\boxed{\text{O}}}{\boxed{\text{P}}} \pi$ のとき S は最大になる。

$$\textcircled{0} \quad \frac{1}{2} \left| \sin \left(\theta + \frac{1}{3} \pi \right) \right| \quad \textcircled{1} \quad \frac{1}{2} |\sin \theta| \quad \textcircled{2} \quad \frac{1}{2} \left| \sin \left(\theta - \frac{1}{3} \pi \right) \right|$$

$$\textcircled{3} \quad \left| \sin \left(\theta + \frac{1}{3} \pi \right) \right| \quad \textcircled{4} \quad |\sin \theta| \quad \textcircled{5} \quad \left| \sin \left(\theta - \frac{1}{3} \pi \right) \right|$$

$$\textcircled{6} \quad \frac{3}{2} \left| \sin \left(\theta + \frac{1}{3} \pi \right) \right| \quad \textcircled{7} \quad \frac{3}{2} |\sin \theta| \quad \textcircled{8} \quad \frac{3}{2} \left| \sin \left(\theta - \frac{1}{3} \pi \right) \right|$$

(2) 三角形 OAB が $OA = OB$ である二等辺三角形となるとき

$$|1+z| = \left| 1 - \frac{1}{2}z \right| = \sqrt{\boxed{\text{Q}}}$$

である。また、 $-\pi \leq \arg(1+z) < \pi$, $-\pi \leq \arg\left(1 - \frac{1}{2}z\right) < \pi$ とすると

$$\arg(1+z) = \pm \frac{\boxed{\text{R}}}{\boxed{\text{S}}} \pi, \quad \arg\left(1 - \frac{1}{2}z\right) = \mp \frac{\boxed{\text{T}}}{\boxed{\text{U}}} \pi \quad (\text{複号同順})$$

である。

注) 複素数 : complex number, 複素数平面 : complex plane

- 計算欄 (memo) -

II の問題はこれで終わりです。II の解答欄 V ~ Z はマークしないでください。

III

関数 $y = \frac{2^{x^2}}{5^{3x}}$ ($x \geq 0$) を考える。

(1) y が最小になる x を求めよう。

y を微分して

$$\frac{dy}{dx} = \frac{2^{x^2}}{5^{3x}} (2x \log_e \boxed{A} - \boxed{B} \log_e \boxed{C})$$

を得る。

したがって、 y が最小になる x の値を常用対数を用いて表すと

$$x = \frac{\boxed{D} (1 - \log_{10} \boxed{E})}{\boxed{F} \log_{10} \boxed{G}}$$

である。

(2) $\frac{2^{x^2}}{5^{3x}} > 1000$ となるような最小の正の整数 x を求めよう。

不等式 $y > 1000$ より

$$x \boxed{H} \log_{10} \boxed{I} - \boxed{J} x \log_{10} \boxed{K} - \boxed{L} > 0 \quad \dots\dots\dots \textcircled{1}$$

を得る。 $\log_{10} 2 = 0.301\dots$ の近似値として 0.3 を用いて、不等式 ① を解くと

$$x > \frac{\boxed{M} + \sqrt{\boxed{NO}}}{\boxed{P}}$$

を得る。

したがって、 $y > 1000$ が成り立つような最小の正の整数 x は \boxed{Q} である。

注) 常用対数 : common logarithm, 近似値 : approximate value

- 計算欄 (memo) -

III の問題はこれで終わりです。III の解答欄 **R** ~ **Z** はマークしないでください。

IV

区間 $0 \leq x \leq \pi$ で関数 $f(x) = x \sin^2 x$ を考える。曲線 $y = f(x)$ の接線で原点を通るものを l とする。ただし、 l は x 軸ではないとする。このとき、曲線 $y = f(x)$ と接線 l で囲まれる部分の面積 S を求めよう。

- (1) 次の文中の **A** ~ **D** には、下の選択肢 ① ~ ⑨の中から適するものを選びなさい。

曲線 $y = f(x)$ と接線 l の接点を $(t, f(t))$ とおくと、 l は原点を通るので、等式 **A** が成り立つ。さらに

$$f'(t) = \mathbf{B} + 2t \mathbf{C}$$

であるから、接点の x 座標は $t = \mathbf{D}$ である。

- | | |
|-------------------|-------------------|
| ① $f(t) = tf'(t)$ | ① $f'(t) = tf(t)$ |
| ② $\sin t$ | ③ $\sin^2 t$ |
| ④ $\cos^2 t$ | ⑤ $\sin t \cos t$ |
| ⑥ $\frac{\pi}{2}$ | ⑦ $\frac{\pi}{3}$ |
| ⑧ $\frac{\pi}{4}$ | ⑨ $\frac{\pi}{6}$ |

(**IV** は次ページに続く)

- (2) 次の文中の **E** ~ **G** には, 下の選択肢 ① ~ ⑨の中から適するものを選びなさい。

関数 $f(x)$ の不定積分は

$$\int f(x) dx = \mathbf{E} (2x^2 - 2x \mathbf{F} - \mathbf{G}) + C \quad (C \text{ は積分定数})$$

である。

- ① $\frac{1}{8}$ ② $\frac{1}{4}$ ③ $\frac{1}{2}$ ④ 2 ⑤ 4 ⑥ 8
 ⑦ $\sin x$ ⑧ $\cos x$ ⑨ $\sin 2x$ ⑩ $\cos 2x$

- (3) 曲線 $y = f(x)$ と接線 l で囲まれる部分の面積 S は

$$S = \frac{\mathbf{H}}{\mathbf{IJ}} \pi^{\mathbf{K}} - \frac{\mathbf{L}}{\mathbf{M}}$$

である。

注) 不定積分 : antiderivative, 積分定数 : constant of integration

IV の問題はこれで終わりです。 **IV** の解答欄 **N** ~ **Z** はマークしないでください。

コース2の問題はこれですべて終わりです。解答用紙の **V** はマークしないでください。

解答用紙の解答コース欄に「コース2」が正しくマークしてあるか、
もう一度確かめてください。

この問題冊子を持ち帰ることはできません。

