

平成24年度（2012年度）日本留学試験

# 総合科目

(80分)

## I 試験全体に関する注意

1. 係員の許可なしに、部屋の外に出ることはできません。
2. この問題冊子を持ち帰ることはできません。

## II 問題冊子に関する注意

1. 試験開始の合図があるまで、この問題冊子の中を見ないでください。
2. 試験開始の合図があったら、下の欄に、受験番号と名前を、受験票と同じように記入してください。
3. この問題冊子は、26ページあります。
4. 足りないページがあったら、手をあげて知らせてください。
5. 問題冊子には、メモや計算などを書いてもいいです。

## III 解答用紙に関する注意

1. 解答は、解答用紙に鉛筆（HB）で記入してください。
2. 各問題には、その解答を記入する行の番号 **1**，**2**，**3**，…がついています。解答は、解答用紙（マークシート）の対応する解答欄にマークしてください。
3. 解答用紙に書いてある注意事項も必ず読んでください。

※ 試験開始の合図があったら、必ず受験番号と名前を記入してください。

受験番号			*				*					
名前												

問1 次の文章を読み、下の問い(1)～(4)に答えなさい。

現在の日本には、緊縮財政派と積極財政派との間に経済政策上の論争がある。

緊縮財政派は、日本政府の国債および借入金の債務残高は、2011年末現在、900兆円を超えているため、を悪化させる恐れは確かにあるものの、早急にの必要があると述べる。また、1 公共事業や公務員の数を削減し、政府支出を減らすことが必要だと主張する。

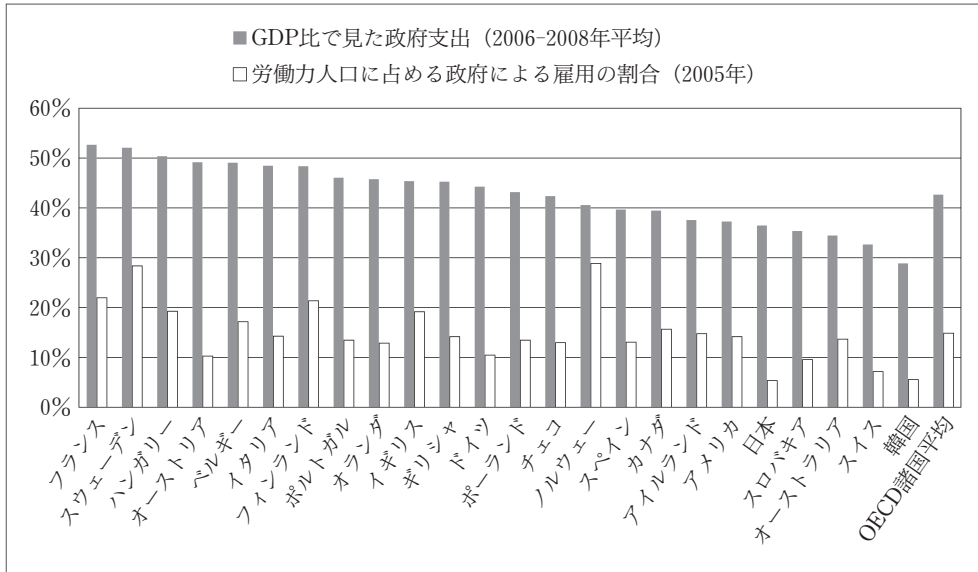
これに対し、積極財政派は、日本が 2 財政破綻<sup>はたん</sup>に陥る可能性はほとんどないので、国債を発行してでも、 3 公共事業を積極的に展開し、需要を創出する必要があると述べる。そしてその方が、が回復し、も増え、中長期的には国債の発行額も減らすことができる」と主張する。

(1) 上の文章中の空欄～に当てはまる語の組み合わせとして最も適当なものを、次の①～④の中から一つ選びなさい。

	a	b	c
①	治安	増税	貯蓄
②	景気	増税	税収
③	治安	減税	貯蓄
④	景気	減税	税収

- (2) 下線部 1 に関して，日本を含むOECD諸国の国際比較のグラフから読みとれることとして最も適当なものを，下の①～④の中から一つ選びなさい。

2



OECDウェブサイトより作成

注) フランス (France), スウェーデン (Sweden), ハンガリー (Hungary),  
 オーストリア (Austria), ベルギー (Belgium), イタリア (Italy), フィンランド (Finland),  
 ポルトガル (Portugal), オランダ (Netherlands), イギリス (UK), ギリシャ (Greece),  
 ドイツ (Germany), ポーランド (Poland), チェコ (Czech Republic), ノルウェー (Norway),  
 スペイン (Spain), カナダ (Canada), アイルランド (Ireland), アメリカ (USA),  
 スロバキア (Slovakia), オーストラリア (Australia), スイス (Switzerland),  
 韓国 (South Korea)

- ① 日本は，「小さな政府」を有する。
- ② 北欧諸国 (Nordic countries) は，「小さな政府」を有する。
- ③ 人口が多い国ほど，「大きな政府」を有する。
- ④ GDPが大きい国ほど，「大きな政府」を有する。

(3) 下線部 2 の主張の論拠として最も適当なものを、次の①～④の中から一つ選びなさい。

3

- ① 日本の国債は大部分が円建てで、国内の金融機関や個人が保有している。
- ② 円高が進んだため、日本政府が保有する外貨資産に含み益が出ている。
- ③ 日本の経常収支は赤字であるが、資本収支は黒字である。
- ④ 通貨価値が下落するデフレーション下では、実質的な政府債務が減少する。

(4) 下線部 3 に関して、公共事業を積極的におこない、需要を創出するという経済政策の重要性を訴えた経済学者、およびその考え方に基づく政策の組み合わせとして最も適当なものを、次の①～④の中から一つ選びなさい。

4

	経済学者	代表的政策
①	スミス	自由放任
②	ケインズ	ニューディール
③	ハイエク	サッチャリズム
④	フリードマン	レーガノミクス

注) スミス (Adam Smith), ケインズ (John Maynard Keynes),  
ハイエク (Friedrich von Hayek), サッチャリズム (Thatcherism),  
フリードマン (Milton Friedman), レーガノミクス (Reaganomics)

## 総合科目－4

問2 次の文章を読み、下の問い(1)～(4)に答えなさい。

アメリカの 1 ワシントンD.C. (Washington, D.C.) は、地理的には 2 温暖湿潤気候 に属しており、政治的には大統領府、 3 連邦議会 などがある。また、 4 国際通貨基金 (IMF) の本部が置かれるなど、国内的にも国際的にも重要な都市である。

- (1) 下線部 1 に関して、ワシントンD.C.の位置として正しいものを、次の地図中の①～④の中から一つ選びなさい。

5



(2) 下線部 2 に関して、温暖湿潤気候は、四季の変化が明瞭<sup>めいりょう</sup>で、夏に高温多雨となることが特徴である。温暖湿潤気候に属する都市として最も適当なものを、次の①～④の中から一つ選びなさい。

6

- ① 東京
- ② ローマ (Rome)
- ③ モスクワ (Moscow)
- ④ シンガポール (Singapore)

(3) 下線部 3 に関して、下院議員数は、各州の人口に比例して配分される。議員数が最も多く配分されている州を、次の①～④の中から一つ選びなさい。

7

- ① ワシントン州 (Washington)
- ② フロリダ州 (Florida)
- ③ テキサス州 (Texas)
- ④ カリフォルニア州 (California)

(4) 下線部 4 に関して、IMFにおける主要な業務として適当でないものを、次の①～④の中から一つ選びなさい。

8

- ① 国際通貨問題に関する協力の推進
- ② 外国為替相場安定の促進
- ③ 加盟国に対する外貨の貸し付け
- ④ 途上国に対する開発投資資金の貸し付け

## 総合科目－6

問3 次の文章を読み、下の問い(1), (2)に答えなさい。

資本主義経済は、18世紀後半のイギリスで始まった [a] を契機に確立し、世界各国へと広がっていった。資本主義経済は、周期的な不況を経験しながらも成長を続け、19世紀後半から20世紀前半には、重化学工業が大きく発展した。技術革新によって大量生産が可能となり、巨額の生産設備を持つ大企業が登場するようになった。こうした企業規模の拡大のために、社会から広く資金を集める [b] 制度が発展した。

(1) 上の文章中の空欄 [a] に当てはまる語として最も適当なものを、次の①～④の中から一つ選びなさい。 9

- ① 市民革命
- ② IT革命
- ③ 産業革命
- ④ 農業革命

(2) 上の文章中の空欄 [b] に当てはまる語として最も適当なものを、次の①～④の中から一つ選びなさい。 10

- ① 中央銀行
- ② 株式会社
- ③ 持株会社
- ④ 管理通貨

問4 次の文章を読み、文章中の空欄 [a] ～ [f] に当てはまる語の組み合わせとして最も適当なものを、下の①～④の中から一つ選びなさい。 11

市場経済では、商品の価格が上下に変動することで、需要と供給の不均衡が調整される。新商品が開発されて消費者の需要が急増した産業の場合、社会の需要量に対して供給量が不足していることから、価格が [a] し、利益も [b] する。そのため、他の部門から企業の [c] が生じ、急激な成長が生じることになる。衰退産業の場合、需要の減少が価格の [d]、利益の [e] をもたらし、企業の [f] を促進する。こうして、市場調整メカニズムによって、資源の配分が自動的におこなわれる。

	a	b	c	d	e	f
①	上昇	増加	退出	上昇	増加	退出
②	下落	減少	退出	上昇	増加	参入
③	上昇	増加	参入	下落	減少	退出
④	下落	減少	参入	下落	減少	参入



## 総合科目－8

問 5 現代の先進国の経済政策に関する記述として適当でないものを、次の①～④の中から一つ選びなさい。

**12**

- ① グローバル化が進んだ経済状況に対応して変動相場制度を採用し、外国為替相場への介入政策は一切おこなわない。
- ② 寡占化や独占化の動きに対しては、独占禁止政策を通じて、競争を促進し、価格が伸縮的に変化するよう努める。
- ③ 景気変動を安定化させるために、不況期には減税や公共投資をおこない、好況期には増税をおこなうなどの財政政策が用いられる。
- ④ 金融政策では物価や金融システムの安定を目的として、主に中央銀行が通貨供給量や金利の調整などをおこなう。

問 6 円高と円安に関する記述として最も適当なものを、次の①～④の中から一つ選びなさい。

**13**

- ① 日本国内の景気が好調になると、海外からの日本への投資が増加し、円安となる。
- ② 日本から海外への輸出が増加すると、円に対する需要が増加し、円高になる。
- ③ 日本国内の金利が海外の金利よりも低くなると、海外から日本へ資金が流入するため、円安となる。
- ④ 円高とは、外国為替市場の取引において、他国の通貨に対して円の価値が低下することをいう。

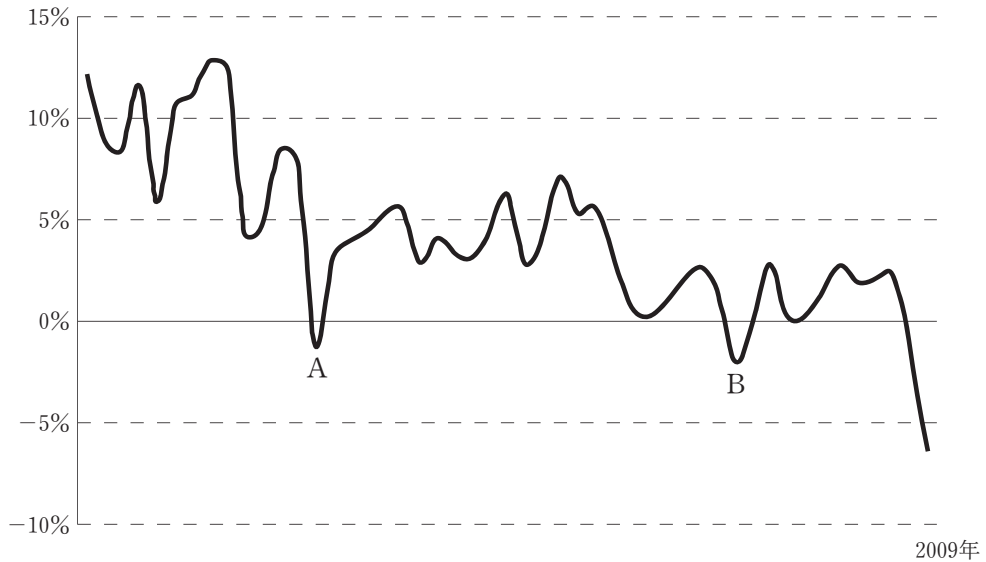
問7 次のA～Fは、好況期、後退期、不況期、回復期という景気循環の四局面における経済状態に関して述べたものである。好況期に関して述べたものを二つ選び、その組み合わせとして最も適当なものを、下の①～④の中から一つ選びなさい。 14

- A：物価は下落し、雇用も減少する。
- B：物価は高く、利率も高い。
- C：物価は低く、企業の倒産が非常に多い。
- D：賃金が高く、株価も高水準にある。
- E：経済活動は拡大し、賃金も上昇し始める。
- F：雇用の水準は低く、賃金も低い。

- ① AとE
- ② BとC
- ③ BとD
- ④ EとF

問 8 次のグラフは、20世紀のある時点から2009年までの日本の経済成長率の推移を示したものである。AとBに当てはまる時期の組み合わせとして正しいものを、下の①～④の中から一つ選びなさい。

**15**



世界銀行ウェブサイトより作成

	A	B
①	1945年頃	1987年頃
②	1965年頃	1994年頃
③	1974年頃	1998年頃
④	1992年頃	2003年頃

問9 経済連携協定（EPA）とは、国や地域同士で、輸出入にかかる関税やサービス業をおこなう際の規制をなくしたり、投資環境の整備や知的財産権の強化をおこなったりする国際的な協定である。日本が最初にEPAを締結した国を、次の①～④の中から一つ選びなさい。

**16**

- ① ロシア（Russia）
- ② シンガポール
- ③ アメリカ
- ④ オーストラリア

問10 次の表は、2010年における日本の主要輸入品の輸入元の上位3か国とその貿易額の割合を示したものである。表中のA～Dに当てはまる国名の組み合わせとして正しいものを、下の①～④の中から一つ選びなさい。

**17**

単位：％

	肉類		魚介類		果実		アルコール飲料	
1位	アメリカ	26.0	中国	18.2	アメリカ	24.3	D	39.5
2位	A	16.5	B	8.8	C	23.6	韓国	12.1
3位	カナダ	11.0	アメリカ	8.6	中国	16.1	アメリカ	8.6

『日本国勢図会 2011/12年版』より作成

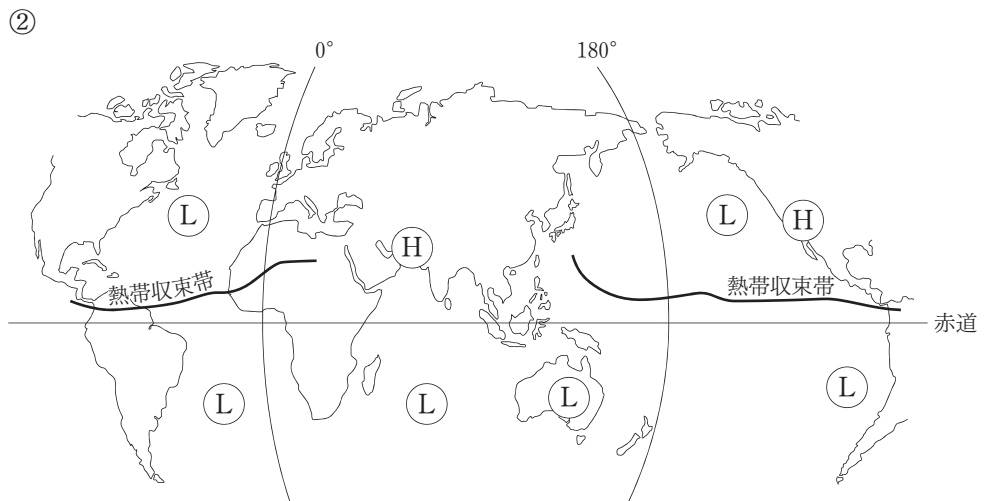
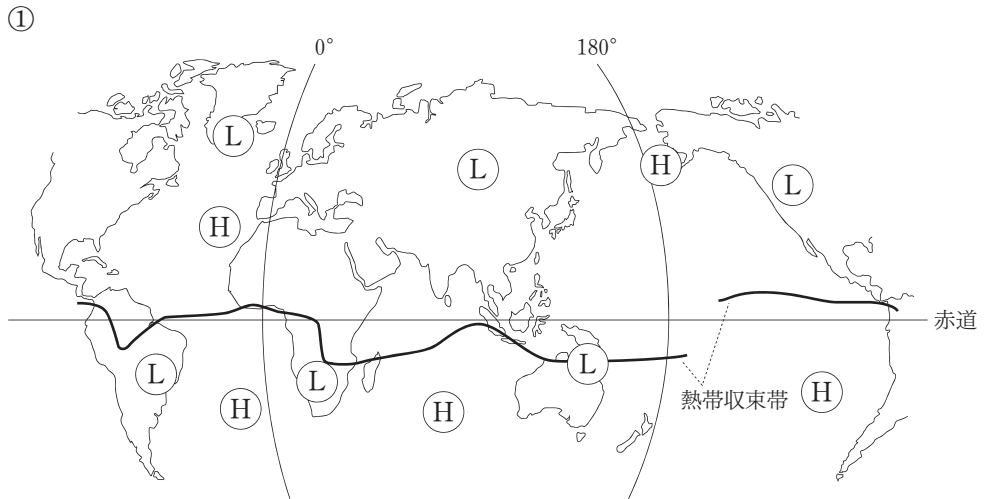
注) 中国（China）

	A	B	C	D
①	オーストラリア	タイ	フィリピン	フランス
②	タイ	フィリピン	フランス	オーストラリア
③	フィリピン	フランス	オーストラリア	タイ
④	フランス	オーストラリア	タイ	フィリピン

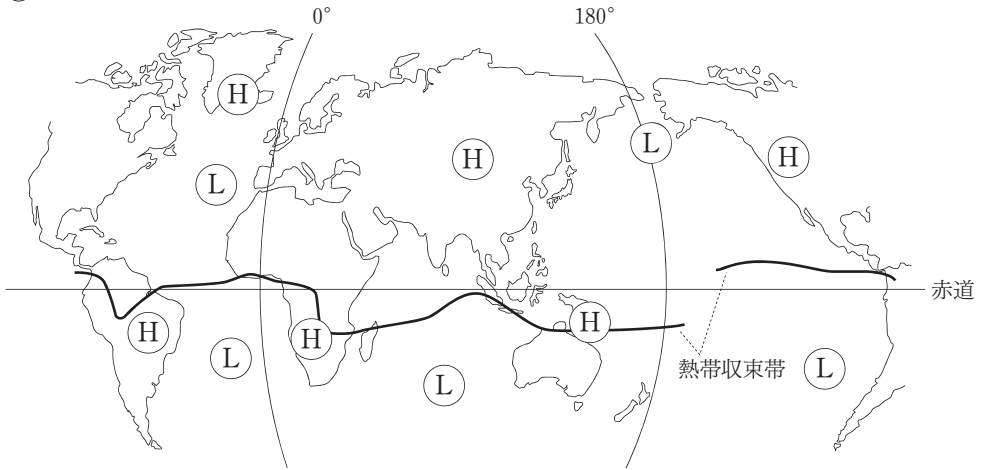
注) タイ（Thailand）、フィリピン（Philippines）

問13 次の四つの地図は、地球規模の気圧配置（Hは高圧部，Lは低圧部を示す）と熱帯収束帯（太い実線）を示したモデルである。7月の状態を示している地図として最も適当なものを、次の①～④の中から一つ選びなさい。

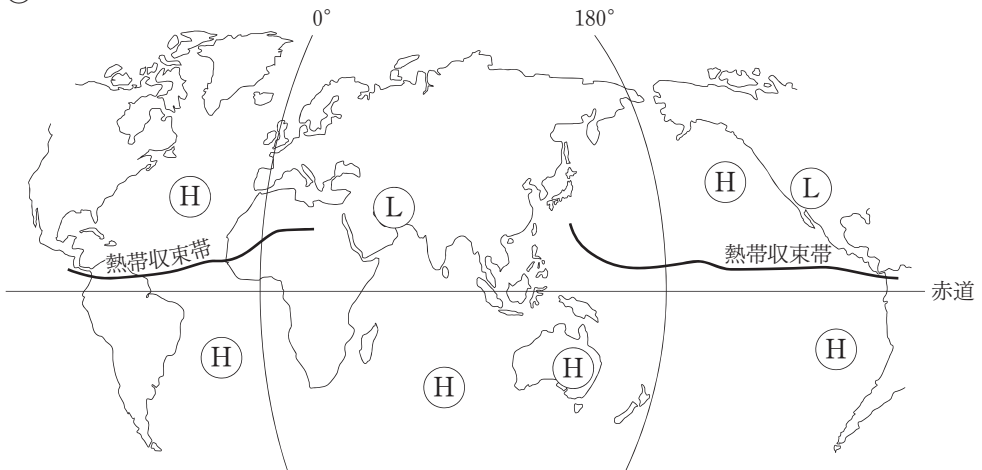
20



③



④



総合科目-16

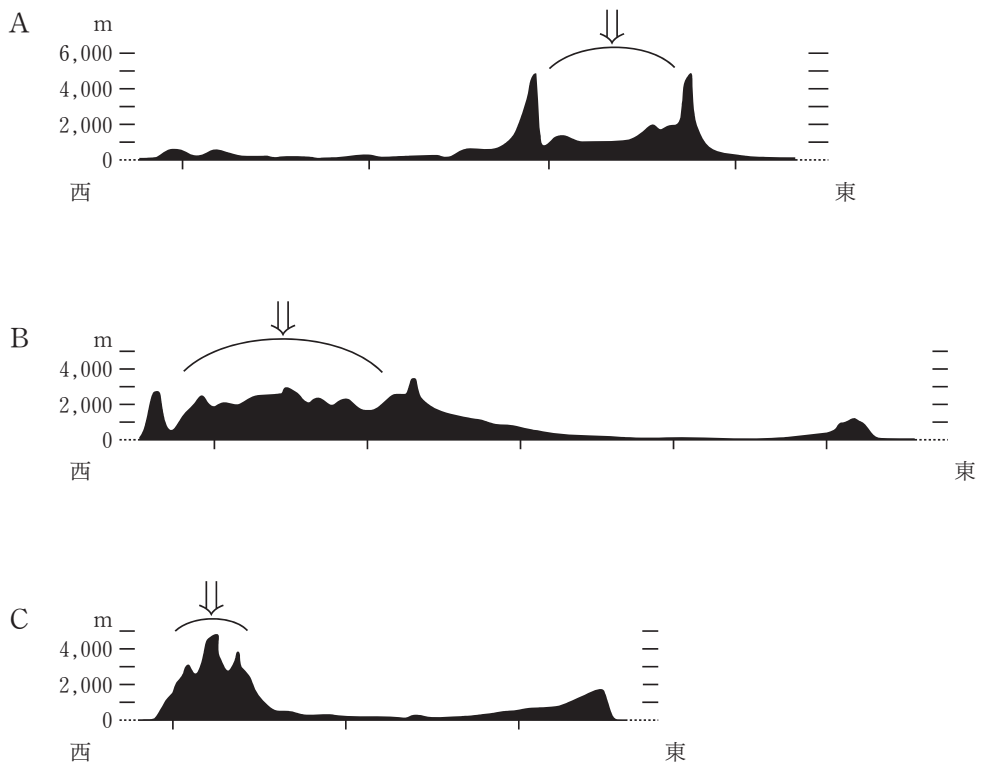
問14 三つの大陸の地形断面図A~Cは、次に示す緯線に沿って描かれたものである。

北アメリカ大陸：北緯40度線

南アメリカ大陸：南回帰線

アフリカ大陸：赤道

東西の距離は一樣ではないが、一目盛りは経度間隔の10度を示している。これらの図に関して下の問い(1), (2)に答えなさい。



- (1) 上の図A～Cに当てはまる大陸名の組み合わせとして正しいものを，次の①～④の中から一つ選びなさい。

21

	A	B	C
①	アフリカ大陸	南アメリカ大陸	北アメリカ大陸
②	アフリカ大陸	北アメリカ大陸	南アメリカ大陸
③	南アメリカ大陸	北アメリカ大陸	アフリカ大陸
④	北アメリカ大陸	アフリカ大陸	南アメリカ大陸

- (2) それぞれの図には，矢印（↓）のところに広大な山地や高原が描かれている。これらの中で，新期造山帯が描かれている図の組み合わせとして正しいものを，次の①～④の中から一つ選びなさい。

22

- ① A, B, C
- ② A, B
- ③ A, C
- ④ B, C



問15 日本の首都東京（北緯35.4°，東経139.5°）とオーストラリアの首都キャンベラ（南緯35.2°，東経149.1°）に関する次の二つの記述A，Bを読み，その正誤の組み合わせとして正しいものを，下の①～④の中から一つ選びなさい。

**23**

A：地方時の標準子午線の違いから二つの都市には時差があり，キャンベラの時刻の方が東京より1時間遅れている（時刻についてはサマータイムを考慮しないものとする）。

B：東京とキャンベラを通る地球の全周を40,000kmとすれば，その距離は約6,600kmとなる。

	A	B
①	正	正
②	正	誤
③	誤	正
④	誤	誤

注) キャンベラ (Canberra)

問17 アメリカの南北戦争 (American Civil War) での激戦地ゲティスバーグ (Gettysburg) を国立墓地とする式典でおこなわれた1863年の演説の中で、「人民の、人民による、人民のための政治」と述べたアメリカの大統領は誰か。その人名として正しいものを、次の①～④の中から一つ選びなさい。

**25**

- ① ジョージ・ワシントン (George Washington)
- ② トマス・ジェファーソン (Thomas Jefferson)
- ③ エイブラハム・リンカーン (Abraham Lincoln)
- ④ セオドア・ローズベルト (Theodore Roosevelt)

問18 半大統領制 (semi-presidential system) とは、議院内閣制と大統領制の混合形態をとる政治制度である。半大統領制を採用している国として最も適当なものを、次の①～④の中から一つ選びなさい。

**26**

- ① 日本
- ② フランス
- ③ イギリス
- ④ アメリカ

問19 次の会話を読み、下の問い(1), (2)に答えなさい。

よし子：最近の日本の民意はゆれ幅が大きいですよね。2005年の総選挙では、1 新自由主義的政策を重視した自由民主党が大勝しました。なのに…。

先生：そう、その次の総選挙では子ども手当などの給付型福祉の経済政策を柱にした民主党がかなりの差で勝ちました。

よし子：なぜこのように大きく民意が変わるのでしょうか。

先生：国民に長期的な視点が欠けているのかもしれないですね。2 「国家は今、生きている人々の間での共同事業であるだけでなく、今、生きている人々、亡くなった人々、そしてこれから生まれてくる人々の間での共同事業」\*であると述べた思想家がいます。私たちは彼のこの言葉を思い出し、過去の伝統との継続性を十分に意識しつつ、現在を考え、そして将来世代の幸福を願うという長期的な観点が求められているように思います。

※ 出典：*Reflections on the Revolution in France*

(1) 下線部 1 に関して、新自由主義的政策といえるものを、次の①～④の中から一つ選びなさい。 27

- ① 教育の質を確保するため、教育分野への財政支出を拡大しようとする政策
- ② 国民の経済格差是正のため、富裕層への課税を強化する政策
- ③ 社会の安定性重視のため、失業対策に力を入れる政策
- ④ 企業の活動の余地を広げるため、市場における規制を緩和もしくは撤廃する政策

(2) 下線部 2 は、イギリスのある保守的思想家の言葉である。その思想家とは誰か。正しいものを、次の①～④の中から一つ選びなさい。 28

- ① エドモンド・バーク (Edmund Burke)
- ② カール・マルクス (Karl Marx)
- ③ ジョン・ロック (John Locke)
- ④ ジャン・ジャック・ルソー (Jean-Jacques Rousseau)

問20 次の表は、普通選挙制が確立された年を男女別に国ごとで示したものである。A～Cに当てはまる国名の組み合わせとして最も適当なものを、下の①～④の中から一つ選びなさい。

**29**

	A	B	C	日本
男性	1848年	1918年	1870年	1925年
女性	1944年	1928年	1920年	1945年

	A	B	C
①	イギリス	フランス	アメリカ
②	フランス	イギリス	アメリカ
③	フランス	アメリカ	イギリス
④	アメリカ	フランス	イギリス

問21 日本国憲法に関する記述として最も適当なものを、次の①～④の中から一つ選びなさい。

**30**

- ① 日本国憲法は、天皇や公務員に憲法を尊重し擁護する義務を課している。
- ② 日本国憲法は、改正が容易な軟性憲法とされている。
- ③ 日本国憲法は戦争の放棄を定めた条文から始まる。
- ④ 日本国憲法に抵触する法律を制定するためには、国会で3分の2以上による賛成を必要とする。

問22 インド (India) のスガタ・ダスグプタ (Sugata Dasgupta) は伝統的な戦争と平和という二分法を退け、平和の対極にあるのは非平和 (peacelessness) であると主張した。先進国では「戦争がなければ平和と呼べるかもしれない」が、途上国では「戦争がなくても平和ではない」という状態が見られるからである。こうした途上国における状態の例として適当でないものを、次の①～④の中から一つ選びなさい。

**31**

- ① 構造的に生み出された大きな貧富の差や不平等が社会に広く見られる。
- ② 適切な医療や教育を受けられない人が多い。
- ③ 特定の一次産品に依存した経済構造のため、経済的に安定しない。
- ④ 経済成長や物質的な豊かさばかりが追求され、心の安定が無視されている。

問23 個別的・集団的自衛権は国家の「固有の権利」として国際的に認められている。それを条文上に初めて明記したのものとして最も適当なものを、次の①～④の中から一つ選びなさい。

**32**

- ① 国際連盟規約 (1919年)
- ② パリ不戦条約 (ケロッグ・ブリアン条約) (1928年)
- ③ 国際連合憲章 (1945年)
- ④ 世界人権宣言 (1948年)

注) 国際連盟規約 (Covenant of the League of Nations)  
パリ不戦条約 (Treaty for the Renunciation of War)  
ケロッグ・ブリアン条約 (Kellogg-Briand Pact)  
国際連合憲章 (Charter of the United Nations)  
世界人権宣言 (Universal Declaration of Human Rights)

問24 20世紀の国際関係に関する記述として最も適当なものを、次の①～④の中から一つ選びなさい。

**33**

- ① 第一次世界大戦後、国際連盟 (League of Nations) が提唱した「民族自決」の原則が、世界全体に普及することとなった。
- ② アメリカは第二次世界大戦後、第三世界を共産主義化させないという観点から、モンロー主義 (Monroe Doctrine) と呼ばれる介入主義的な政策をとった。
- ③ アメリカとソ連 (USSR) の代理戦争と呼ばれたベトナム戦争 (Vietnam War) の終結により、冷戦は終わった。
- ④ 冷戦終結後、北大西洋条約機構 (NATO) 軍は、「民族浄化」政策を阻止するために国連 (UN) の承認を経ることなく、セルビア (Serbia) への空爆をおこなった。

問25 フランス革命後にナポレオン1世 (Napoleon I) がおこなったこととして最も適当なものを、次の①～④の中から一つ選びなさい。 **34**

- ① モスクワ遠征を成功させ、ロマノフ (Romanov) 王朝を打倒した。
- ② 大陸封鎖令を出し、大陸諸国にイギリスとの通商を禁止した。
- ③ ルイ16世 (Louis XVI) を処刑し、革命政府を樹立した。
- ④ ウィーン会議 (Congress of Vienna) を主宰し、ヨーロッパ諸国の再編をおこなった。

問26 日清戦争 (First Sino-Japanese War) 後のアジアの情勢に関する記述として最も適当なものを、次の①～④の中から一つ選びなさい。 **35**

- ① アメリカは朝鮮 (Korea) に開国を要求し、不平等条約を結ばせた。
- ② イギリスは中国から香港 (Hong Kong) の租借権を獲得した。
- ③ フランスは中国の領土保全と機会均等を要求した。
- ④ ロシアは満州 (Manchuria) 地域での租借権や鉄道敷設権を獲得した。

問27 第一次世界大戦後のドイツに関する記述として最も適当なものを、次の①～④の中から一つ選びなさい。 **36**

- ① 社会民主党主導で、社会主義国家として経済の再建が図られた。
- ② 国家主権を制限され、国際連盟の管理下に置かれた。
- ③ ソ連とアメリカによって、東西に分割統治された。
- ④ ワイマール (Weimar) 憲法の下、民主的な政治制度が整えられた。

問28 次の文章を読み、文章中の空欄 **a**， **b** に当てはまる語の組み合わせとして最も適当なものを、下の①～④の中から一つ選びなさい。 **37**

第二次世界大戦直後の日本では、 **a** を中心とする連合国軍最高司令官総司令部 (GHQ/SCAP) の指令や勧告を、日本政府が実施する間接統治がおこなわれた。その統治の初期の方針は、日本の **b** と民主化にあった。

	a	b
①	ソ連	非軍事化
②	アメリカ	非軍事化
③	ソ連	社会主義化
④	アメリカ	社会主義化

問29 日本では、第二次世界大戦後に経済改革の一環として農地改革がおこなわれた。このことに関する記述として最も適当なものを、次の①～④の中から一つ選びなさい。 **38**

- ① 農作物の輸出によって外貨を獲得するために、商品作物の栽培を奨励した。
- ② 稲作から畑作への転換を奨励し、減反政策を推進した。
- ③ 自作農を増やすため、政府が地主から強制的に土地を買い上げ、安価で小作農に売り渡した。
- ④ 大規模農業を普及させるため、個人による農業から企業による農業への転換を図った。

総合科目の問題はこれで終わりです。解答欄の **39** ～ **60** はマークしないでください。

この問題冊子を持ち帰ることはできません。