

平成25年度（2013年度）日本留学試験

# 総合科目

(80分)

## I 試験全体に関する注意

1. 係員の許可なしに、部屋の外に出ることはできません。
2. この問題冊子を持ち帰ることはできません。

## II 問題冊子に関する注意

1. 試験開始の合図があるまで、この問題冊子の中を見ないでください。
2. 試験開始の合図があったら、下の欄に、受験番号と名前を、受験票と同じように記入してください。
3. この問題冊子は、23ページあります。
4. 足りないページがあったら、手をあげて知らせてください。
5. 問題冊子には、メモや計算などを書いてもいいです。

## III 解答用紙に関する注意

1. 解答は、解答用紙に鉛筆（HB）で記入してください。
2. 各問題には、その解答を記入する行の番号 **1**，**2**，**3**，…がついています。解答は、解答用紙（マークシート）の対応する解答欄にマークしてください。
3. 解答用紙に書いてある注意事項も必ず読んでください。

※ 試験開始の合図があったら、必ず受験番号と名前を記入してください。

受験番号			*				*						
名前													

問1 次の会話を読み，下の問い(1)～(4)に答えなさい。

よし子：今日の「政治学」の授業は，1 マルクス (Karl Marx) の『資本論』 (Capital) についての話でしたね。

先生：はい。2 マルクスの思想は，学問的にも社会的にも非常に大きな影響を与えました。

よし子：国際政治に対してもそうですね。20世紀後半の国際政治は，3 社会主義陣営と自由主義陣営が対立する「冷戦」の時代が長かったわけですから。

先生：そうですね。現在でも，グローバル化などのため，4 労働環境の悪化が生じている国が多いので，マルクスの思想の意義はまだ失われていませんよ。

(1) 下線部1に関して，マルクスは『資本論』をロンドン (London) の大英図書館で執筆したと言われている。ロンドンの位置として正しいものを，次の地図中の①～④の中から一つ選びなさい。

1



総合科目ー2

- (2) 下線部 2 に関して、次の文章中の空欄 [ a ]，[ b ] に当てはまる語の組み合わせとして最も適当なものを、下の①～④の中から一つ選びなさい。

2

マルクスは、資本主義社会では、資本家と労働者の間に [ a ] が存在し、資本家が労働者を搾取し、労働者の貧困化が進むと指摘した。

しかし社会保険や公的扶助などの社会保障制度が定着し、また、[ b ] などのケインズ主義的政策がおこなわれるようになり、20世紀後半の先進資本主義国では、労働者の状況はむしろ改善された。

	a	b
①	労資協調	財政引き締めや貿易自由化
②	労資協調	積極的な公共投資や失業対策
③	階級対立	財政引き締めや貿易自由化
④	階級対立	積極的な公共投資や失業対策

- (3) 下線部 3 に関して、冷戦期の東西陣営が対立した出来事を年代順に並べたものとして最も適当なものを、次の①～④の中から一つ選びなさい。

3

- ① ベルリン封鎖 → 朝鮮戦争の勃発<sup>ぼっぱつ</sup> → キューバ危機 → ベトナム戦争の終結
- ② 朝鮮戦争の勃発 → ベルリン封鎖 → ベトナム戦争の終結 → キューバ危機
- ③ ベルリン封鎖 → 朝鮮戦争の勃発 → ベトナム戦争の終結 → キューバ危機
- ④ 朝鮮戦争の勃発 → キューバ危機 → ベルリン封鎖 → ベトナム戦争の終結

注) ベルリン封鎖 (Berlin Blockade), 朝鮮戦争 (Korean War),  
キューバ危機 (Cuban Missile Crisis), ベトナム戦争 (Vietnam War)

- (4) 下線部 4 の労働環境の悪化について、日本でも非正規雇用の増加が見られる。次の表から読み取れる事柄として最も適当なものを、下の①～④の中から一つ選びなさい。

4

日本の男性非正規雇用者比率の推移

単位：%

年	全年齢層	15～24歳	25～34歳	35～44歳	45～54歳	55～64歳	65歳以上
1990	8.8	19.9	3.2	3.3	4.3	22.7	50.9
1993	9.4	22.5	3.7	2.8	3.4	19.5	53.1
1996	9.4	25.3	4.2	2.9	3.0	17.3	50.0
1999	11.1	33.7	6.2	2.7	2.9	18.2	53.5
2002	15.0	39.1	9.4	5.6	7.4	23.8	60.6
2005	17.7	44.3	12.9	6.9	8.4	27.1	66.7
2008	19.2	44.4	14.2	8.2	8.0	27.6	67.9
2011	20.5	47.8	15.8	8.4	8.4	32.3	68.7

総務省統計局データより作成

- ① この20年の間に、特に35歳以上の男性非正規雇用者の割合は増加し続けている。
- ② 構造改革政策が実施される以前の1990年代半ばまで、25～54歳の男性非正規雇用者の割合は5%以下だった。
- ③ アジア（Asia）通貨危機後の混乱がおさまった1999年以降、35歳以上の男性非正規雇用者の割合は減少している。
- ④ リーマン・ショックの起きた2008年に、男性非正規雇用者の割合はいずれの年齢層でも最も高い。

## 総合科目ー4

問 2 次の文章を読み、下の問い(1)～(4)に答えなさい。

ドイツ (Germany) は、ヨーロッパ (Europe) 最大の経済規模を持ち、1 連邦制を採用している国家である。2 1871年にヴィルヘルム 1 世 (Wilhelm I) を皇帝としたドイツ帝国として統一され、第一次世界大戦後の 3 ワイマール共和国 (Weimar Republic) を経て、4 第二次世界大戦後、東ドイツと西ドイツに分断された。ドイツは1990年に再統一され、ヨーロッパの中核として発展を続けている。

(1) 下線部 1 に関して、現在、連邦制を採用している国として正しいものを、次の①～④の中から一つ選びなさい。

5

- ① ポーランド (Poland)
- ② ロシア (Russia)
- ③ フランス (France)
- ④ チェコ (Czech Republic)

(2) 下線部 2 に関して、当時の宰相ビスマルク (Otto von Bismarck) がおこなった政策として正しいものを、次の①～④の中から一つ選びなさい。

6

- ① 男女普通選挙の実施
- ② 大陸封鎖令の発令
- ③ 自由貿易の推進
- ④ 社会主義者鎮圧法の制定

(3) 下線部 3 に関して，第一次世界大戦後に制定された憲法では，国民が国家によって最低限の生活を保障される権利を有するという規定が盛り込まれた。こうした権利を包括して何と呼ぶか。正しいものを，次の①～④の中から一つ選びなさい。 7

- ① 自由権
- ② 請求権
- ③ 社会権
- ④ 平等権

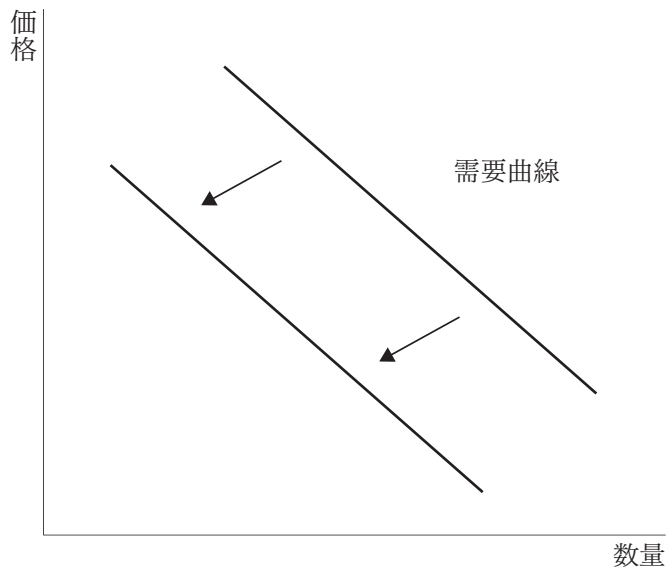
(4) 下線部 4 に関して，第二次世界大戦で疲弊したヨーロッパ経済を復興させるため，アメリカ（USA）は大規模な援助を実行した。その援助の名称を，次の①～④の中から一つ選びなさい。 8

- ① フーヴァー・モラトリアム（Hoover Moratorium）
- ② ニューディール（New Deal）
- ③ マーシャル・プラン（Marshall Plan）
- ④ ニューフロンティア（New Frontier）

## 総合科目－6

問 3 次の図は、自動車Xの日本における需要曲線を示したものである。仮に、その需要曲線が左下に移動したとする。その考えられる原因として最も適当なものを、下の①～④の中から一つ選びなさい。

9



- ① Xと競合関係にある他社の自動車Yの価格が上昇した。
- ② 日本国内のガソリンの価格が大幅に低下した。
- ③ 日本国内の所得水準が上昇し、消費が刺激された。
- ④ 来年発売のXの新モデルの価格は現行モデルよりも3割安いという報道が出た。

問4 市場経済の機能や限界に関する記述として誤っているものを、次の①～④の中から一つ選びなさい。 10

- ① 公害などの外部不経済が存在すると、生産者にとっての費用負担が少なくなるので、供給量が社会的に望ましい水準よりも小さくなってしまふ。
- ② 競争的な市場では、需要量と供給量を一致させる均衡価格において、資源が効率的に配分されている。
- ③ 特定の大企業が市場を支配するようになると、企業間の価格競争が弱まって価格が下がりにくくなり、資源の最適な配分ができなくなる。
- ④ 市場経済では需要量が供給量を上回るとき、価格上昇によって需要量が減少し、供給量が増加することで、結果として需要と供給が一致する。

問5 資本主義に関する次の文章を読み、下線部が誤っているものを、文章中の①～④の中から一つ選びなさい。なお、下線部以外の記述は正しいものとする。 11

資本主義経済は、①イギリス (UK) で始まった産業革命を契機にして18世紀後半に確立した。機械の発明とその利用が進み、②蒸気機関が動力として利用されるようになり、工業化が急速に進展した。こうした経済発展を受けて、18世紀の経済学者である③ミルトン・フリードマン (Milton Friedman) は、『国富論』(*An Inquiry into the Nature and Causes of the Wealth of Nations*) を著し、国家による経済への介入を批判して、④市場における自由な商業活動を擁護した。



## 総合科目－8

問 6 景気循環や経済成長に関する記述として最も適当なものを、次の①～④の中から一つ選びなさい。

12

- ① 実質経済成長率とは、景気循環の波を平準化させて算出した経済成長率のことである。
- ② 技術革新が活発化して生産性が上昇すれば、固定資本や雇用量が増えなくても経済成長は実現できる。
- ③ 設備投資に関連する景気循環の波はジュグラー循環と呼ばれ、40か月程度を周期とする短期波動である。
- ④ 名目経済成長率とは、産業構造が第一次産業から第二次産業、第二次産業から第三次産業へと移行する変化率のことである。

問 7 次の表は、ある国の国際収支を示したものである。この国の経常収支として正しいものを、下の①～④の中から一つ選びなさい。

13

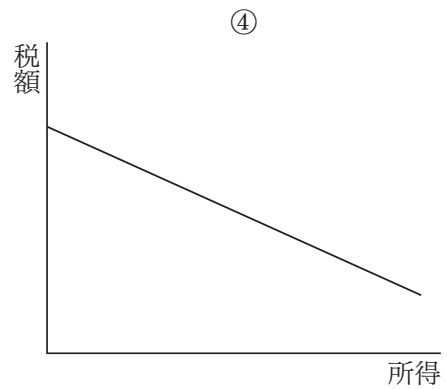
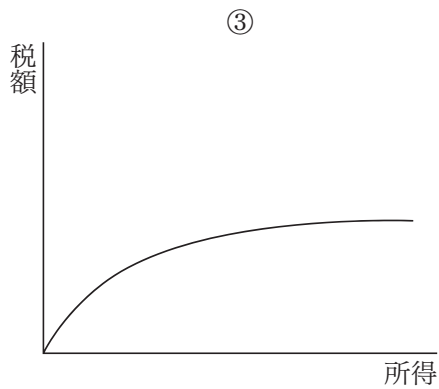
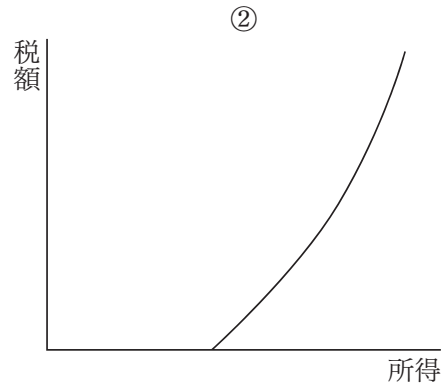
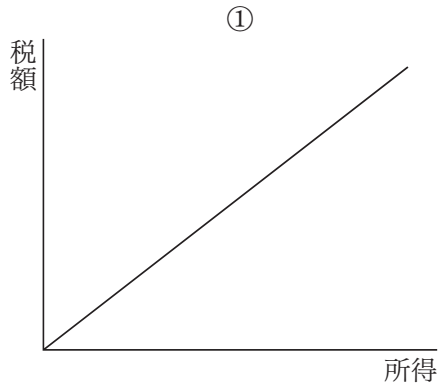
項目	金額
財の輸出	500
財の輸入	350
サービス収支	-50
経常移転収支	-10
直接投資収支	-30
証券投資収支	-150
その他資本収支	-10

注) -は赤字を示す。

- ① 90の黒字
- ② 790の黒字
- ③ 100の赤字
- ④ 210の赤字

問 8 所得税において累進的な税制が採用されている場合の，所得と税額の関係を示すグラフとして最も適当なものを，次の①～④の中から一つ選びなさい。

14



## 総合科目－10

問9 1970年代から1990年代にかけて日本の経済は劇的な変化を経験した。この時期の日本の経済政策に関する記述として最も適当なものを、次の①～④の中から一つ選びなさい。

15

- ① 第一次石油危機 (Oil Crisis) 後の深刻な不況に際して、政府は赤字国債の発行を一時停止することによって景気の回復を図った。
- ② プラザ合意 (Plaza Accord) 後の円高不況に対して、日本銀行は金利を引き上げることによって、輸出の不振を打開しようとした。
- ③ 1980年代後半に始まる好景気の中、株価や地価が急激に上昇したことを受け、日本銀行は金融引き締め策に転換した。
- ④ バブル経済崩壊後の1990年代の平成不況に対して、政府は景気を刺激するために消費税の税率を引き下げた。

問10 EUにおける通貨統合や経済政策に関する記述として最も適当なものを、次の①～④の中から一つ選びなさい。

16

- ① ユーロ圏では欧州中央銀行 (ECB) の下、統一的な金融政策が実施されている。
- ② ユーロ圏各国の中央銀行は、通貨統合によりその機能を失ったため解散した。
- ③ 財政赤字国はユーロに参加できないため、イギリスはユーロに参加していない。
- ④ ユーロ圏各国は、自国の予算案を欧州議会 (European Parliament) に提出して、承認を受けなければならない。

## 総合科目－12

問12 経済の発展度合いによって国家間に経済格差や利害対立などの問題が生じている。

その中でも「南南問題」と呼ばれる対立関係にある国の組み合わせとして最も適当なものを、次の①～④の中から一つ選びなさい。

**18**

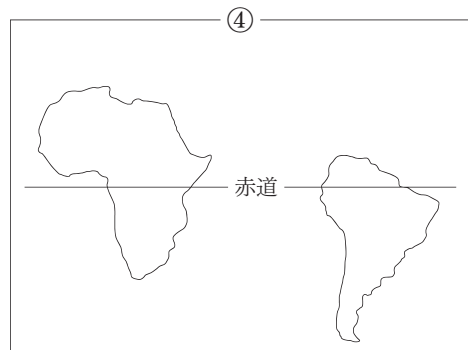
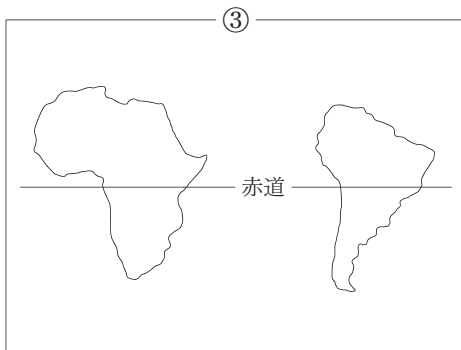
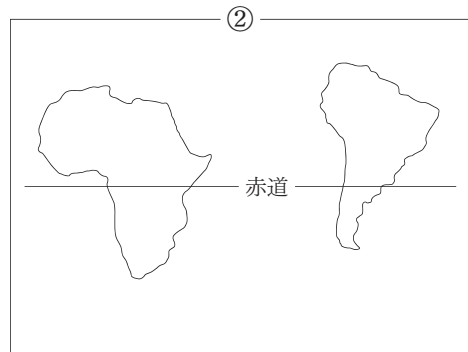
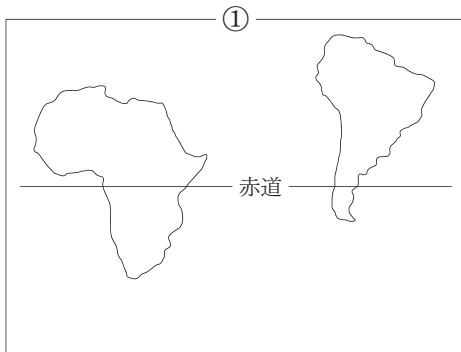
- ① ブラジル (Brazil) とアメリカ
- ② 日本とアラブ首長国連邦 (UAE)
- ③ サウジアラビア (Saudi Arabia) とエチオピア (Ethiopia)
- ④ 南アフリカ (South Africa) とオーストラリア (Australia)

## 問13

試験問題として成立していますが、  
著作権上の都合により本問題のウェブ掲載はいたしません。

問14 次の地図は、アフリカ大陸および南アメリカ大陸が赤道に対してどのような位置にあるかを示したものである。正しいものを、次の①～④の中から一つ選びなさい。

20



総合科目－14

問15 次の文章を読み、文章中の空欄 **a**，**b** に当てはまる語の組み合わせとして正しいものを、下の①～④の中から一つ選びなさい。 **21**

地球は西から東へと1日1回転しており、太陽が東から昇って西に沈むことは、その表れである。そのため、地球を東西いずれかの方向へ一周すると、日の出・日の入りを体験する回数に1回の違いが生まれる。16世紀にマゼラン (Ferdinand Magellan) 一行が **a** で世界一周をしてきたとき、彼らのつけていた航海日誌では水曜日であったのに、到着地のカレンダーでは **b** になっていたことはよく知られる。

	a	b
①	東回り	火曜日
②	東回り	木曜日
③	西回り	火曜日
④	西回り	木曜日

問16 世界の三大穀物である米、小麦、トウモロコシに関する記述として最も適切なものを、次の①～④の中から一つ選びなさい。 **22**

- ① 三大穀物の中で2010年に最も生産量が多かったのは米である。
- ② 三大穀物の中で緯度や標高を問わず、最も広範に栽培されているのは米である。
- ③ 三大穀物の中で単位重量当たりのカロリー量から見て、最も多くの人を養えるのは小麦である。
- ④ 三大穀物の中でトウモロコシは、食糧としての利用の他に家畜の飼料や燃料の原料としての利用も多い。

問17 次の文章を読み，文章中の空欄 **a**，**b** に当てはまる語の組み合わせとして最も適当なものを，下の①～④の中から一つ選びなさい。 **23**

ラテンアメリカ (Latin America) は，一般的に **a** およびその南に位置する中央アメリカ，南アメリカの総称である。これらの地域に含まれる国々の多くは，かつての植民地統治の影響で，**b** を公用語としている。

	a	b
①	メキシコ	スペイン語
②	メキシコ	フランス語
③	パナマ	スペイン語
④	パナマ	フランス語

注) メキシコ (Mexico)，スペイン (Spain)，パナマ (Panama)

総合科目－16

問18 日本は山の多い国で、山地が国土の約60%と広い面積を占めている。その中で3,000m級の山が集まる地域を、次の地図中の①～④の中から一つ選びなさい。 **24**





問19 フランス革命 (French Revolution) について説明した内容として最も適切なものを、次の①～④の中から一つ選びなさい。 25

- ① 議会の同意なく課税をおこなうことを禁じる「権利章典」が發布された。
- ② 労働者が選挙権の拡大を求めて大規模な請願運動をおこなった。
- ③ 立法権を議会が持ち、行政権を君主が持つ立憲君主制が確立された。
- ④ 自由・平等・博愛をスローガンとして王政が打倒され、共和政が樹立された。

問20 功利主義者としても知られるイギリスの思想家とその著作の組み合わせとして最も適切なものを、次の①～④の中から一つ選びなさい。 26

	著者	著作
①	J.S. ミル	自由論
②	バーク	フランス革命の省察
③	スミス	道徳感情論
④	ロック	人間知性論

注) J.S. ミル (John Stuart Mill), 自由論 (*On Liberty*)  
 バーク (Edmund Burke), フランス革命の省察 (*Reflections on the Revolution in France*)  
 スミス (Adam Smith), 道徳感情論 (*The Theory of Moral Sentiments*)  
 ロック (John Locke), 人間知性論 (*An Essay concerning Human Understanding*)

総合科目－18

問21 19世紀のドイツの社会主義者であるラッサール (Ferdinand Lassalle) は、当時の自由放任主義的な近代国家を指して、「夜警国家」と呼んだ。「夜警国家」と最も意味の近い語を、次の①～④の中から一つ選びなさい。

27

- ① 戦争国家
- ② 福祉国家
- ③ 小さな政府
- ④ 大きな政府

問22 日本の地方自治制度においては、重要事項に関して住民の意思を地方自治に反映させるために、直接請求権が認められている。直接請求権によって要求できないものを、次の①～④の中から一つ選びなさい。

28

- ① 地方議会の解散
- ② 所得税の減免
- ③ 事務の監査
- ④ 条例の制定・改廃

問23 政治的自由の拡大に関する記述として最も適当なものを、次の①～④の中から一つ選びなさい。

29

- ① アメリカでは、南北戦争 (American Civil War) 中に、ワシントン (George Washington) が奴隷解放宣言を出すことによって、憲法上、奴隷にも自由が保障された。
- ② 19世紀の中頃、イギリスで起こったチャーティスト運動 (Chartism) は、労働者を中心に組織され、普通選挙の実現を要求した。
- ③ フランスでは、20世紀の中頃に黒人によるバス乗車拒否事件が生じ、公民権法の制定を要求する運動が高まった。
- ④ 日本では、第二次世界大戦前に、性別や財産による参政権の制限が、憲法上、撤廃された。

問25 経済，社会，文化，教育，保健等の分野において，国際連合（UN）と連携関係を持つ国際機関を専門機関という。専門機関の例として正しいものを，次の①～④の中から一つ選びなさい。

**31**

- ① 世界貿易機関（WTO）
- ② 世界保健機関（WHO）
- ③ 北大西洋条約機構（NATO）
- ④ 国際オリンピック委員会（IOC）

問26 1945年の連邦人民共和国の建国当初から多民族国家であり，1990年代前半に民族間で武力衝突が起き，その結果解体した社会主義国を，次の①～④の中から一つ選びなさい。

**32**

- ① ハイチ（Haiti）
- ② ルワンダ（Rwanda）
- ③ ユーゴスラビア（Yugoslavia）
- ④ チェコスロバキア（Czechoslovakia）

問27 サミット（G8）の起源について説明した内容として最も適当なものを，次の①～④の中から一つ選びなさい。

**33**

- ① 貿易・援助・経済開発分野で南北交渉をおこなうための首脳会議として始まった。
- ② 非同盟主義を外交方針とする国々の首脳会議として始まった。
- ③ 石油危機以降の経済危機に対処する先進資本主義国間の首脳会議として始まった。
- ④ ナセル（Gamal Abdel Nasser）の提案によりアラブ（Arab）諸国間の首脳会議として始まった。

問28 クリミア戦争（Crimean War）直後のロシアにおける改革に関する記述として最も適当なものを，次の①～④の中から一つ選びなさい。

34

- ① 農奴解放令が発布され，農奴に人格的自由が認められるようになった。
- ② 議会は解散され，社会主義政権が樹立された。
- ③ 第一次五か年計画に沿って，工業化や農業の集団化が強行された。
- ④ カトリック教徒解放法が制定され，宗教や民族をめぐる対立に終止符が打たれた。

問29 大日本帝国憲法の下での国家機構に関する記述として最も適当なものを，次の①～④の中から一つ選びなさい。

35

- ① 地方分権が徹底されており，中央政府は国防と治安維持，外交のみをおこなうことになっていた。
- ② 予算編成権は内閣に属しており，議会の議決によらず政府は自由に予算の編成，執行ができた。
- ③ 貴族院が最高司法機関として位置づけられており，司法権の独立がなされていなかった。
- ④ 貴族院と衆議院からなる二院制が採用され，衆議院議員は選挙によって選出された。

問30 20世紀初頭から第一次世界大戦にかけての国際関係に関する記述として最も適切なものを、次の①～④の中から一つ選びなさい。

36

- ① イギリスは第一次世界大戦勃発まで「光栄ある孤立」を保ち、いずれの国とも同盟を結ばなかった。
- ② アメリカとロシアの対立が深まり、ヨーロッパ諸国はアメリカの同盟国とロシアの同盟国に二分された。
- ③ イタリア (Italy) とオーストリア (Austria) は同盟関係にあったが、両国間には領土をめぐる対立があった。
- ④ ドイツとフランスは両国の国境地域における資源の共同管理を通じて友好関係を深めていった。

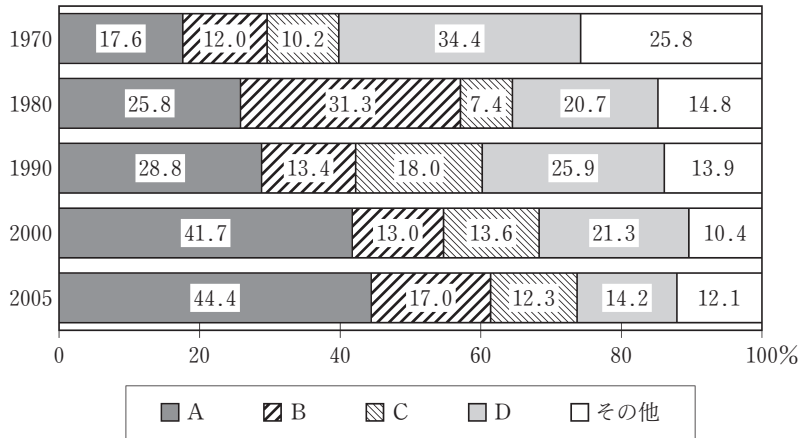
問31 第二次世界大戦後の核軍縮に関する次の条約A～Dを年代順に並び替えたものとして正しいものを、下の①～④の中から一つ選びなさい。

37

- A：部分的核実験禁止条約 (PTBT)
- B：中距離核戦力 (INF) 全廃条約
- C：核拡散防止条約 (NPT)
- D：包括的核実験禁止条約 (CTBT)

- ① A → C → B → D
- ② A → D → B → C
- ③ B → A → C → D
- ④ C → B → A → D

問32 次のグラフは、地域別に見た日本の輸入構造の推移を表したものである。グラフ中のA～Dは、アジア、北米、中東（Middle East）、西ヨーロッパのいずれかを示している。中東に当てはまるものを、下の①～④の中から一つ選びなさい。 **38**



経済産業省ウェブサイトより作成

- ① A
- ② B
- ③ C
- ④ D

総合科目の問題はこれで終わりです。解答欄の **39** ～ **60** はマークしないでください。

この問題冊子を持ち帰ることはできません。