

平成27年度（2015年度）日本留学試験

総合科目

(8 0 分)

I 試験全体に関する注意

1. 係員の許可なしに、部屋の外に出ることはできません。
2. この問題冊子を持ち帰ることはできません。

II 問題冊子に関する注意

1. 試験開始の合図があるまで、この問題冊子の中を見ないでください。
2. 試験開始の合図があったら、下の欄に、受験番号と名前を、受験票と同じように記入してください。
3. この問題冊子は、21ページあります。
4. 足りないページがあったら、手をあげて知らせてください。
5. 問題冊子には、メモや計算などを書いてもいいです。

III 解答用紙に関する注意

1. 解答は、解答用紙に鉛筆（HB）で記入してください。
2. 各問題には、その解答を記入する行の番号 **1** , **2** , **3** , …がついています。解答は、解答用紙（マークシート）の対応する解答欄にマークしてください。
3. 解答用紙に書いてある注意事項も必ず読んでください。

※ 試験開始の合図があったら、必ず受験番号と名前を記入してください。

受 験 番 号			*				*					
名 前												

問1 次の会話を読み、下の問い(1)～(4)に答えなさい。

よし子：先日アメリカ（USA）と 1 キューバ（Cuba）が国交を回復したという報道がありました。

先生：キューバにおいて1959年に起こった革命の影響で、アメリカは1961年にキューバとの国交を断絶しました。 2 キューバが同年に社会主義宣言をして以来、両国は半世紀以上も 3 冷戦を背景に敵対してきました。

よし子： 4 1962年のキューバ危機では、世界中が事態の推移を緊張して見守ったと聞いています。

先生：そうですね。当時は核戦争の一步手前でした。今回の国交回復は、外交問題で成果を出したいアメリカ、経済状況を改善させたいキューバ、それぞれの利害が一致した結果だと言えるでしょう。

(1) 下線部1に関して、次の文章中の空欄 a，b に当てはまる語の組み合わせとして最も適当なものを、下の①～④の中から一つ選びなさい。 1

キューバは a に位置する島国であり、その首都は島の北西部に位置するハバナ（Havana）である。熱帯気候に属し、年間を通じて気温の差はほとんどないが、雨季と乾季が存在する。伝統的な主要産物に b，ニッケル，海産物等がある。

	a	b
①	カスピ海	小麦
②	カスピ海	砂糖
③	カリブ海	小麦
④	カリブ海	砂糖

注) カスピ海（Caspian Sea），カリブ海（Caribbean Sea）

総合科目－2

(2) 下線部 2 に関して、キューバの社会主義化に関する記述として最も適切なものを、次の①～④の中から一つ選びなさい。

2

- ① 農地改革の一環として大地主や外国資本の所有する土地を接収した。
- ② 自動車産業などの重工業の工業化を 3 か年計画に基づき推進した。
- ③ 自主管理に基づく独自の社会主義建設を目指した。
- ④ 資源ナショナリズムを唱え、イギリス (UK) 資本の支配下にあった石油資源を国有化した。

(3) 下線部 3 に関して、この状態を西側諸国と東側諸国の間に「鉄のカーテン」がひかれていると表現した人物は誰か。正しいものを、次の①～④の中から一つ選びなさい。

3

- ① スターリン (Stalin)
- ② ウィンストン・チャーチル (Winston Churchill)
- ③ マーガレット・サッチャー (Margaret Thatcher)
- ④ フランクリン・ローズベルト (Franklin D. Roosevelt)

(4) 下線部 4 に関して、キューバ危機に関する記述として最も適切なものを、次の①～④の中から一つ選びなさい。

4

- ① ハバナ港においてアメリカの軍艦が爆発沈没したことをきっかけに、アメリカがキューバにミサイル攻撃を加えた。
- ② キューバでの核兵器の存在をめぐって、アメリカとソ連 (USSR) の両国は鋭く対立したが、両国が拒否権を持つので国連安全保障理事会 (UNSC) は開かれなかった。
- ③ 危機をきっかけに、非常時にアメリカとソ連の首脳間で直接対話できるようホットライン (直通回線) が設置された。
- ④ 危機以降、キューバはソ連との同盟関係を強化して経済の復興に専念し、「東側諸国の優等生」と呼ばれた。

問2 次の会話を読み、下の問い(1)～(4)に答えなさい。

先生：先ごろ、1国会で情報に関する重要な法律が二つ成立しましたね。一つは「特定秘密の保護に関する法律」です。「特定秘密」の漏えいを防止することを目的としています。

よし子：「特定秘密」とは何を指しているのですか。

先生：安全保障上の秘匿性の高い情報、すなわち「防衛」、「外交」、「スパイ行為等の防止」、「a」の四分野に限定されていますが、国民の2知る権利が制限されることが危惧されています。

よし子：第三者機関による検証の必要がありそうですね。もう一つは何ですか。

先生：「行政手続における特定の個人を識別するための番号の利用等に関する法律」です。これは、すべての居住者に番号をふって、3税金や社会保障、災害対策に関する情報を一元的に管理する制度です。

(1) 下線部1に関して、日本の国会に関する記述として正しいものを、次の①～④の中から一つ選びなさい。

5

- ① 二院制をとっており、予算の議決は、参議院に対して衆議院が優越する。
- ② 条約の締結、大使の任命には、参議院の承認が必要である。
- ③ 国会は「国権の最高機関」として、違憲立法審査権を有している。
- ④ 衆議院の議長は内閣総理大臣が兼務し、採決で可否が同数になった場合に決裁をおこなうことができる。

総合科目－4

(2) 上の会話中の空欄 **a** に当てはまる語として正しいものを、次の①～④の中から一つ選びなさい。

6

- ① 治安維持
- ② 情報通信技術
- ③ 感染症の予防
- ④ テロリズムの防止

(3) 下線部 **2** に関して、日本において知る権利と同様に、現代の社会生活の変容に伴って主張されるようになった「新しい人権」として登場した権利として最も適切なものを、次の①～④の中から一つ選びなさい。

7

- ① 学習権
- ② 請求権
- ③ 環境権
- ④ 争議権

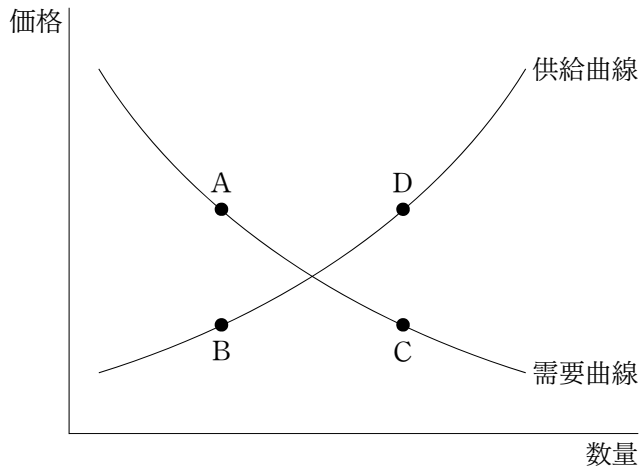
(4) 下線部 **3** に関して、日本の所得税の性質に関する記述として正しいものを、次の①～④の中から一つ選びなさい。

8

- ① 国税であり、税率は一定である。
- ② 国税であり、税率は累進的である。
- ③ 地方税であり、税率は一定である。
- ④ 地方税であり、税率は累進的である。

問3 次の図は、ある食品の需要曲線と供給曲線を示したものである。両曲線が交差するところを均衡点という。今、その食品が健康によいという評判が広まり、人気が高まったとする。その他の事情が同一であるならば、新たな均衡点として最も適当なものを、下の①～④の中から一つ選びなさい。

9



- ① A
- ② B
- ③ C
- ④ D

総合科目－6

問4 次の表は、X国とY国が携帯電話とワインをそれぞれ1単位生産するときに必要な労働量を人数で示したものである。ただし、携帯電話、ワインともに労働のみで生産されるものとする。リカード (David Ricardo) の比較生産費説に基づいて、自由貿易がおこなわれた場合の貿易構造として最も適当なものを、下の①～④の中から一つ選びなさい。

10

	携帯電話	ワイン
X国	12人	15人
Y国	20人	18人

- ① X国が、携帯電話、ワインともに輸出国となる。
- ② Y国が、携帯電話、ワインともに輸出国となる。
- ③ X国が携帯電話の輸出国となり、Y国がワインの輸出国となる。
- ④ X国がワインの輸出国となり、Y国が携帯電話の輸出国となる。

問5 外部不経済 (negative externalities) に対処する政策の例として最も適当なものを、次の①～④の中から一つ選びなさい。

11

- ① 労働者の生活の安定を図るため、賃金の最低水準を定めている。
- ② 食料自給率向上のため、大規模農家に補助金を支給している。
- ③ 汚水を排出する工場や事業所に対して、排水基準が設定されている。
- ④ 企業間の価格カルテルを禁止して、自由な市場競争を促進している。

問6 経済統計の中でフローに分類されるものを、次の①～④の中から一つ選びなさい。

12

- ① 対外純資産
- ② 貿易赤字額
- ③ 国債発行残高
- ④ 自動車保有台数

問7 次の表は、景気を刺激する場合と景気の過熱を防ぐ場合の中央銀行の対応をまとめたものである。A～Dに当てはまる語の組み合わせとして最も適当なものを、下の①～④の中から一つ選びなさい。

13

	景気を刺激する	景気の過熱を防ぐ
政策金利	A	B
公開市場操作	C	D

	A	B	C	D
①	引き上げ	引き下げ	売りオペレーション	買いオペレーション
②	引き上げ	引き下げ	買いオペレーション	売りオペレーション
③	引き下げ	引き上げ	売りオペレーション	買いオペレーション
④	引き下げ	引き上げ	買いオペレーション	売りオペレーション

総合科目－8

問 8 企業が資金調達をする際の間接金融と呼ばれる資金調達の方法として最も適当なものを、次の①～④の中から一つ選びなさい。 **14**

- ① 銀行から借り入れる。
- ② 社債を発行する。
- ③ 株式を発行する。
- ④ 企業の利益を蓄えた内部留保を利用する。

問 9 日本を例とした国民経済と為替相場（対USドル）の関係に関する記述として最も適当なものを、次の①～④の中から一つ選びなさい。 **15**

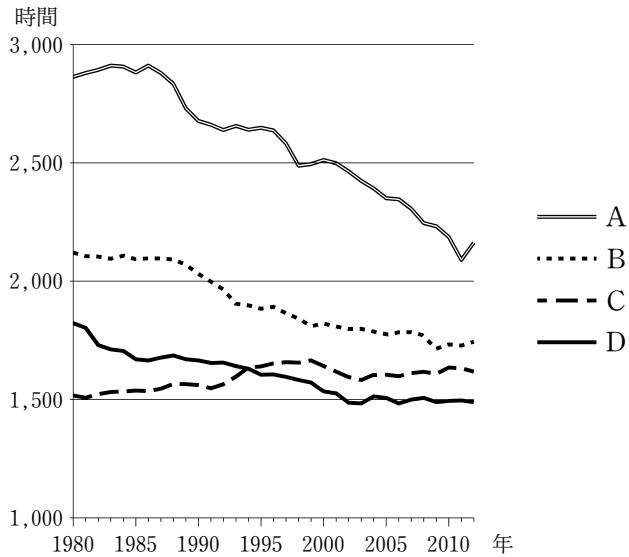
- ① 日本の貿易赤字が拡大すると、円高になる。
- ② 日本の金利が低下すると、円高になる。
- ③ 円安になると、日本の輸出競争力が弱まる。
- ④ 日本国内の物価の上昇が続くと、円安になる。

問10 自由貿易協定（FTA）に関する記述として最も適当なものを、次の①～④の中から一つ選びなさい。 **16**

- ① 世界貿易機関（WTO）の設立以降、FTAの締結は増加している。
- ② 日本は、主要貿易相手であるアメリカ、欧州連合（EU）、中国（China）とそれぞれFTAを締結している。
- ③ 北米自由貿易協定（NAFTA）は、アメリカとカナダ（Canada）の二国間で結ばれている。
- ④ FTAは、貿易だけでなく資本や労働の移動などの分野を含み、経済連携協定（EPA）よりも包括的な協定である。

問11 次のグラフは、1980年から2012年における労働者一人当たりの平均年間総実労働時間の推移を、韓国 (South Korea)、スウェーデン (Sweden)、日本、フランス (France) について示したものである。表中のA～Dに当てはまる国名の組み合わせとして正しいものを、下の①～④の中から一つ選びなさい。

17

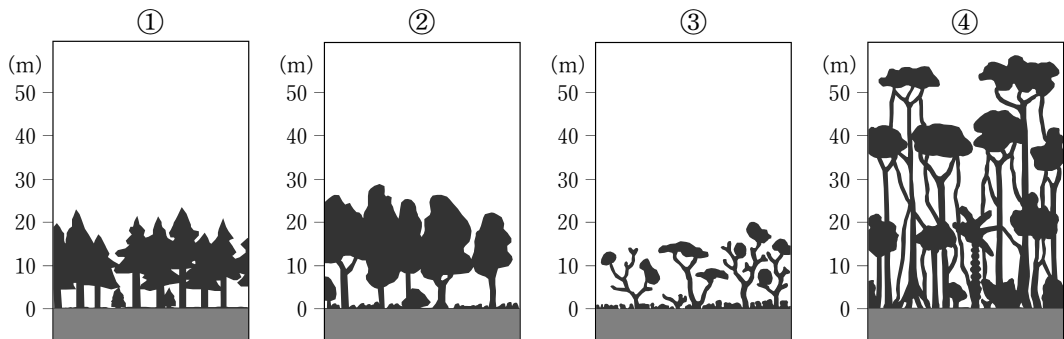


OECDウェブサイトより作成

	A	B	C	D
①	日本	スウェーデン	フランス	韓国
②	韓国	日本	スウェーデン	フランス
③	フランス	韓国	日本	スウェーデン
④	スウェーデン	フランス	韓国	日本

問14 次の図は、四つの異なる気候における植生を描いたものである。温帯で見られるものを、次の①～④の中から一つ選びなさい。

20



問15 南回帰線が通過している地域には乾燥気候が見られることが多い。南回帰線が通過している国として正しいものを、次の①～④の中から一つ選びなさい。

21

- ① オーストラリア
- ② ケニア (Kenya)
- ③ コロンビア (Colombia)
- ④ サウジアラビア (Saudi Arabia)

問16 カリブ海のケイマン諸島 (Cayman Islands) や北大西洋のバミューダ諸島 (Bermuda) はある国の海外領土である。タックス・ヘイブン (tax haven) として知られているこれらの海外領土を領有するのはどの国か。正しいものを、次の①～④の中から一つ選びなさい。

22

- ① アメリカ
- ② イギリス
- ③ フランス
- ④ スペイン (Spain)

総合科目－14

問18 日本は2013年において人口数では世界第10位の国となっている。日本より面積が狭いにもかかわらず、日本より人口が多い国として正しいものを、次の①～④の中から一つ選びなさい。

24

- ① ブラジル
- ② ドイツ (Germany)
- ③ 南アフリカ (South Africa)
- ④ バングラデシュ (Bangladesh)

問19 1748年の著書において、政治権力の濫用^{らんよう}を防ぐためには、権力を分割し、権力相互の抑制と均衡の仕組みが必要であると主張し、三権分立の重要性を説いたフランスの思想家は誰か。正しいものを、次の①～④の中から一つ選びなさい。

25

- ① ヴォルテール (Voltaire)
- ② デイドロ (Denis Diderot)
- ③ ルソー (Jean-Jacques Rousseau)
- ④ モンテスキュー (Charles Montesquieu)

問20 イギリスの政治体制に関する説明として正しいものを、次の①～④の中から一つ選びなさい。

26

- ① 二院制を採用しており、下院議員は直接選挙で選ばれるが、上院議員は各職業団体から推薦された者が務める。
- ② 連邦制を採用しており、連邦を構成する4か国はそれぞれの憲法に基づき独自の議会と政府を有している。
- ③ 立憲君主制であり、国家元首としての国王は「君臨すれども統治せず」という形式的存在である。
- ④ 議院内閣制と大統領制の混合型であり、国家元首である大統領は直接選挙で選ばれ、首相任免権や議会解散権など強力な権限を持つ。

問21 1948年に国際連合（UN）で採択された「世界人権宣言」は、人権の国際的保障のための最も基本的な文書となっている。この宣言に含まれる条文として正しいものを、次の①～④の中から一つ選びなさい。

27

- ① すべて人は、生命、自由及び身体の安全に対する権利を有する。
- ② すべての人民は、自決の権利を有する。この権利に基づき、すべての人民は、その政治的地位を自由に決定し並びにその経済的、社会的及び文化的発展を自由に追求する。
- ③ 各締結国は、すべての適当な方法により、いかなる個人、集団又は団体による人種差別も禁止し、終了させる。
- ④ 締結国は、国際的に自国政府を代表し及び国際機関の活動に参加する機会を、女子に対して男子と平等の条件でかついかなる差別もなく確保するためのすべての適当な措置をとる。

問22 20世紀に入ると、すべての人に人間らしい生活を保障するために、政府による積極的な働きかけを要求することも権利の問題と考えられるようになった。そのような積極的な要求をする権利のことを社会権と呼ぶ。社会権の例として最も適当なものを、次の①～④の中から一つ選びなさい。

28

- ① 職業選択の自由
- ② 学問の自由
- ③ 労働基本権
- ④ プライバシーの権利

問23 日本国憲法における地方自治に関する規定として適当でないものを、次の①～④の中から一つ選びなさい。

29

- ① 地方公共団体の長は、その地方公共団体の住民が、直接これを選挙する。
- ② 地方公共団体は、憲法の範囲内で法律を制定することができる。
- ③ 地方公共団体には、法律の定めるところにより、その議事機関として議会を設置する。
- ④ 地方公共団体の組織及び運営に関する事項は、地方自治の本旨に基づいて、法律でこれを定める。

問24 世界の宗教に関する記述として最も適当なものを、次の①～④の中から一つ選びなさい。

30

- ① 南アメリカ (South America) 諸国ではカトリックが広く信仰されている。
- ② プロテスタントは聖書中心主義を唱えたカルヴァン (Calvin) の宗教改革によって始まった。
- ③ 仏教は紀元前5世紀にインドで始まり、現在、インドにおいて最も有力な宗教である。
- ④ イスラームは7世紀初頭にムハンマド (Muhammad) によってエルサレム (Jerusalem) で開かれた。

問25 国家固有の権利としての個別的・集団的自衛権について初めて明記した国際法規は何か。最も適当なものを、次の①～④の中から一つ選びなさい。

31

- ① 国際連盟規約
- ② 北大西洋条約
- ③ 国際連合憲章
- ④ 不戦条約 (Kellogg-Briand Pact)

問26 ユーゴスラビア (Yugoslavia) 内戦とは、旧ユーゴスラビア連邦の解体にともな
って発生した民族紛争である。旧ユーゴスラビアおよびユーゴスラビア内戦に関する
説明として最も適当なものを、次の①～④の中から一つ選びなさい。 **32**

- ① 国連はユーゴスラビア内戦に対して、初めて正規の国連軍を派遣した。
- ② 多くのクルド人 (Kurds) が民族浄化という名の下に虐殺された。
- ③ チェチェン共和国 (Chechnya) が独立を宣言すると、それに反対するロシアは
軍事介入をおこなった。
- ④ 旧ユーゴスラビア連邦は複数の民族・言語・宗教より構成される多民族国家であ
った。

問27 1992年に、地球環境問題に取り組むための国際会議である国連環境開発会議 (地球
サミット) が開かれた。この会議に関する記述として最も適当なものを、次の①～④
の中から一つ選びなさい。 **33**

- ① 地球環境問題に関する初めての国際会議であり、国連環境計画の設立が決まった。
- ② 地球温暖化防止のために気候変動枠組条約の署名が開始された。
- ③ 環境問題をめぐる先進国と発展途上国の間の意見の対立は、この会議で解消され
た。
- ④ 南アフリカのヨハネスブルグ (Johannesburg) で開かれたので、「ヨハネスブル
グ・サミット」とも呼ばれる。

問28 イギリスの産業革命に関する記述として最も適当なものを、次の①～④の中から一つ選びなさい。

34

- ① 植民地で採掘された石炭を安価に輸入することによって、重工業が発達した。
- ② 生産力を向上させるため、労働市場での熟練労働者の需要が高まった。
- ③ 蒸気機関を利用した輸送手段の実用化によって、国内外の市場が拡大した。
- ④ 産業革命の進展に伴う経済発展によって、イギリス国内の貧富の差が縮小した。

問29 19世紀後半のヨーロッパ（Europe）に関する記述として最も適当なものを、次の①～④の中から一つ選びなさい。

35

- ① プロイセン（Prussia）はフランスとの戦争に勝利し、ドイツ帝国を成立させた。
- ② イギリスは各国と同盟を結ぶことで、自国の安全を図ろうとした。
- ③ ロシアはクリミア戦争（Crimean War）によってクリミア半島を獲得し、南下政策を進めた。
- ④ イタリア（Italy）では、サルデーニャ（Sardinia）を中心に統一が進み、神聖ローマ帝国（Holy Roman Empire）が復活した。

問30 第一次世界大戦と各国の関わりに関する記述として最も適当なものを，次の①～④の中から一つ選びなさい。

36

- ① ロシアでは敗戦後，ロシア革命が発生し，ソヴィエト（Soviet）政権が成立した。
- ② アメリカは，大戦中に大統領が秘密外交の禁止や国際平和機構の設立などを提唱した。
- ③ オスマン帝国（Ottoman Empire）はバルカン半島（Balkan Peninsula）におけるオーストリア（Austria）との対立から，連合国側で参戦した。
- ④ 民族自決の原則に基づき，第一次世界大戦後にオランダ（Netherlands）やベルギー（Belgium）の独立が認められた。

問31 冷戦と日本の関わりに関する記述として最も適当なものを，次の①～④の中から一つ選びなさい。

37

- ① 日本は1960年代になるまで，社会主義国との間には国交がなかった。
- ② 日本はマーシャル・プラン（Marshall Plan）を受け入れることで，経済復興を果たした。
- ③ 日本はアジア・アフリカ会議（Asian-African Conference）を主宰するなど，第三世界の中心的役割を担った。
- ④ 日本はサンフランシスコ平和条約（San Francisco Peace Treaty）により独立を回復するとともに，アメリカとの間で安全保障条約を結んだ。

問32 1970年代の二度の石油危機 (oil crisis) に関する記述として最も適切なものを、次の①～④の中から一つ選びなさい。

38

- ① 第一次石油危機は、湾岸戦争 (Gulf War) の勃発^{ぼっぱつ}による原油供給の減少を契機として起こった。
- ② 第二次石油危機は、新たな油田の発見による原油の増産によって起こった。
- ③ 第一次石油危機による不況に対処するため、第一回先進国首脳会議が開催された。
- ④ 第二次石油危機の結果、原油価格が暴落し、先進国はデフレーションに陥った。

総合科目の問題はこれで終わりです。解答欄の **39** ～ **60** はマークしないでください。

この問題冊子を持ち帰ることはできません。

